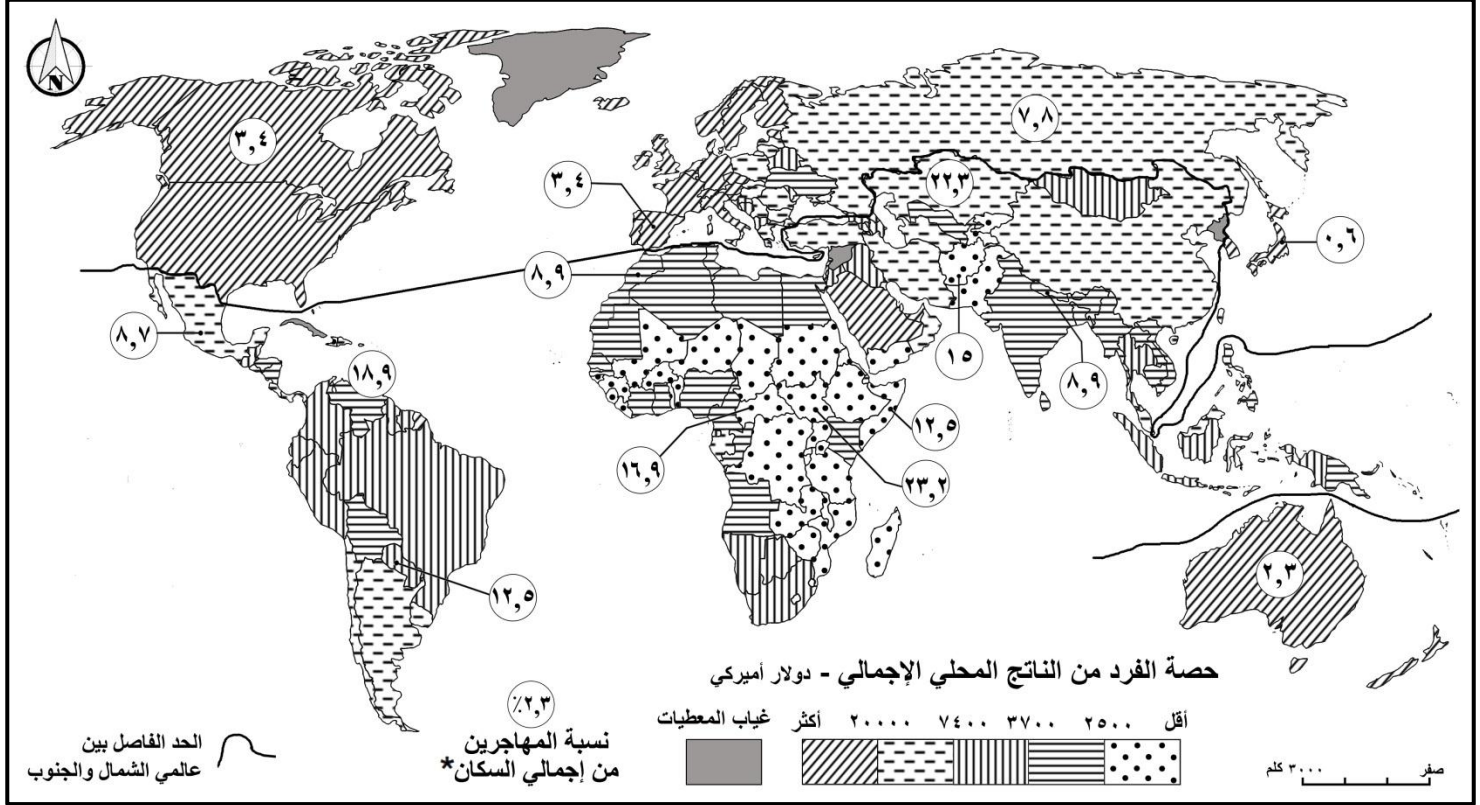


الاسم:
الرقم:

مسابقة في مادة الجغرافيا
المدة: ساعتان

مسابقة اختيارية بين معالجة موضوع جغرافي وتحليل مستندات:



المصدر: IMF:World Economic outlook (WEO) Database , 4/ 2021
UN . DESA. Migration Data Portal. 12/ 2021 * (بتصرف)

المستند رقم (١)

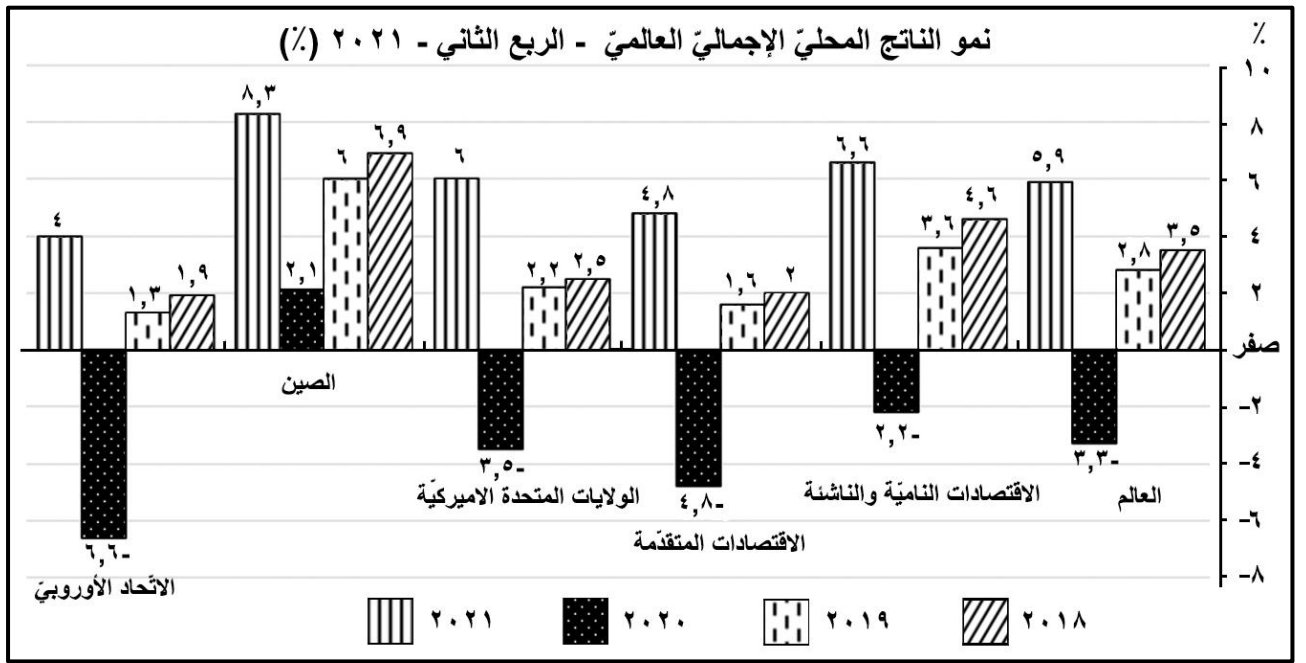
يشهد الاقتصاد الأمريكي انتعاشاً أسرع من التوقعات بعد الانكماش الناجم عن تفشي وباء كوفيد- ١٩ الذي أصاب الاقتصاد العالمي بالشلل التام وبصورة خاصة الاقتصاد الأمريكي على وقع تدابير الإغلاق والحجر لمكافحة جائحة كورونا؛ على الرغم من أنّ بعض القطاعات لا تزال منكوبة، يتوقع صندوق النقد الدولي أن يزداد إجمالي الناتج الداخلي الأمريكي بنسبة ٥,١٪ هذه السنة، إذ يُمثل أكثر من ثلثي الناتج وربع الاقتصاد العالمي، وكان لتدابير الإنعاش التي أقرتها الحكومة العام الماضي بقيمة تقارب ثلاثة آلاف مليار دولار، بما فيها خطة مساعدات تبلغ ٩٠٠ مليار دولار وخطة الاستثمار في العلوم والتكنولوجيا، مساهمة كبرى بنهوض الاقتصاد الأمريكي.

إذ ترصد هذه الخطة أكثر من ١٧٠ مليار دولار لأغراض البحث والتطوير، وترمي خصوصاً إلى تشجيع الشركات الأمريكية العظمى المهيمنة على الاقتصاد العالمي لإنتاج محلياً أشباه الموصلات التي تعدّ من أهم الصناعات المستخدمة في العديد من الأدوات، فنجدها في الأجهزة الإلكترونية مثل الهواتف الذكية، وأجهزة الكمبيوتر وشبكات المعلوماتية التي تتفوق فيها الولايات المتحدة على منافسيها، إلى جانب تعزيز إنتاج مجموعة من المكونات الصناعية داخلها لتقليل اعتماد الشركات الوطنية على الموردّين الأجانب، كما تهدف على نطاق أوسع دعم الصناعة الأمريكية في حربها التجارية مع الصين وتحديث شبكة النقل المتداخلة فيها وجعل أنظمة الطاقة أقلّ تلويناً للبيئة وخلق ملايين الوظائف.

وقد أشار الرئيس الأمريكي في كلمة بالبيت الأبيض، إنّ خطته الاستثمارية الهادفة إلى تحديث البنى التحتية والتقنيات الجديدة في البلاد لا بدّ منها، حتّى تظلّ الولايات المتحدة الأمريكية القوة الأولى في العالم، مؤكداً أنّه إذا لم نعمل شيئاً، فقد تنتهي أيامنا كقوة عظمى مهيمنة؟

المصدر: Euronews, 9 / 6/ 2021 (بتصرف)

المستند رقم (٢)



المصدر: Euromonitor International Marco Model, National Statistics, 4/ 2021 (بتصرف)

المستند رقم (٣)

في الوقت الذي تشهد البلدان المتقدمة انتعاشاً اقتصادياً، يكشف واقع التغيير المستمر في الموازين الإقليمية المستقبلية، إن البلدان النامية منخفضة الدخل تعاني بصفة خاصة من صعوبة موقفها الذي يعوق قدرتها على مواجهة التحديات الاقتصادية والاجتماعية؛ فقد تضررت هذه البلدان بشدة من الصدمات الخارجية أبرزها حدوث انكماش حاد في الاقتصاد وانخفاض أسعار الصادرات وحجمها لا سيما النفط، تراجع التدفقات الوافدة من رؤوس الأموال وتحويلات العاملين في الخارج، وانخفاض عائدات السياحة، فضلاً عن معاناتها من انكماشات داخلية حادة ساهمت في نقص الموارد وضعف المؤسسات، بما يحد من قدرة حكومات هذه البلدان على دعم اقتصاداتها.

فالمتموقع أن يصل النمو هذا العام إلى حالة توقف تام مقارنةً بنمو قدره ٥٪ في ٢٠١٩، كذلك، في غياب الجهود الدولية المتواصلة لدعم تلك البلدان، فإن الآثار الغائرة الدائمة ومنها: ارتفاع معدل الوفيات وتدهور النتائج الصحية والتعليمية، مما يتسبب في كبح الإيرادات المستقبلية واستنزاف المدخرات والأصول الذي يدفع الشركات إلى الإغلاق لا سيما المشروعات الصغيرة التي لا تستطيع الحصول على الائتمان، مما ستتسبب في انتكاسات حادة لجهود ستؤدي على الأرجح إلى الإضرار بأفاق التنمية واضطرابات الإنتاج التي يتعذر إصلاحها وفراط أعباء المديونية الذي يكبح فرص الإقراض للقطاع الخاص، تفاقم عدم المساواة والمخاطرة بضياع التقدم المحرز على مدار عقدٍ كاملٍ للحد من الفقر، وبالتالي ستزداد صعوبة تحقيق «أهداف التنمية المستدامة».

المصدر: صندوق النقد الدولي، دانييل غورارا، ٢٧ / ٨ / ٢٠٢٠ (بتصرف)

المستند رقم (٤)



المستند رقم (٥)

■ معالجة موضوع جغرافي

من خلال المستندات رقم (١، ٢، ٣، ٤، ٥)، عالج الموضوع الجغرافي التالي:

يتميز العصر الحالي المعولم بتسارع إنتاج المعرفة الرقمية (التكنولوجية) وانتشارها في معظم دول العالم، مما ساهم في زيادة الإنتاجية والتفاوت الواضح في النمو بين مجموعة الاقتصادات المتقدمة بقيادة الولايات المتحدة الأميركية ومجموعة الاقتصادات النامية والناشئة، بفعل تحديات وعوائق عديدة ومتنوعة. أوضح:

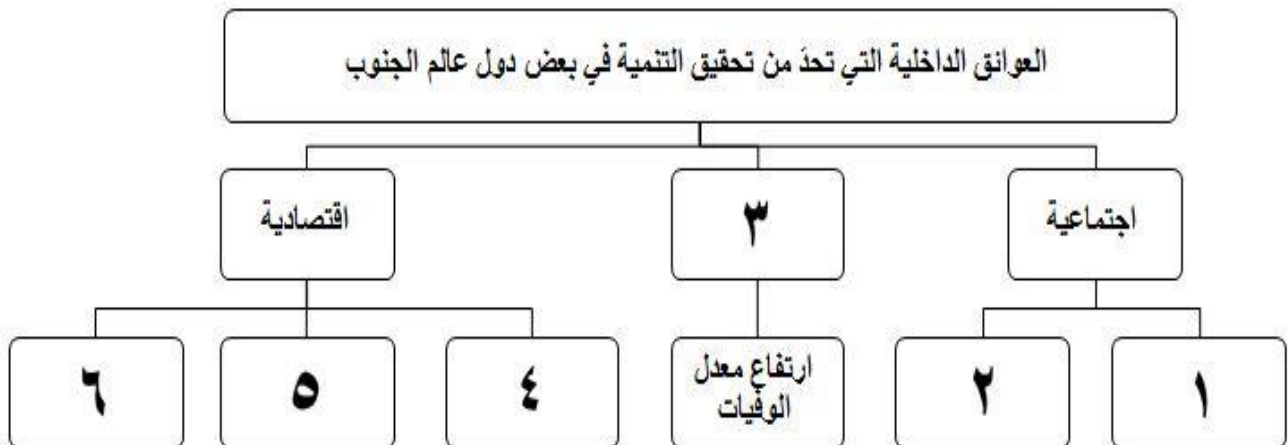
- العوامل التي ساهمت في تقدم دول عالم الشمال.
- أسباب استئثار الولايات المتحدة الأميركية بالقرار العالمي، والتحديات الداخلية والخارجية التي تهدد هيمنتها العالمية.
- إيجابيات العولمة على دول عالم الجنوب، والعوائق الاقتصادية والسياسية التي تحد من قدرة هذه الدول في تحقيق التنمية المنشودة.

■ تحليل مستندات:

- أولاً: أ- حدّد طبيعة كلّ من المستنديين رقم (١) ورقم (٣)، وموضوع المستند رقم (٣). (علامة واحدة)
- ب- اقترح عنواناً مناسباً للمستند رقم (٥). (نصف علامة)
- ثانياً: من خلال المستند رقم (١)، اختر الإجابة الصحيحة: (علامتان)

<p>٢- دولة من عالم الشمال وأخرى من عالم الجنوب تصنفان في نفس فئة حصة الفرد من الناتج المحلي:</p> <p>أ- السويد وأستراليا. ب- رومانيا وباكستان. ج- الولايات المتحدة الأميركية والسعودية.</p>	<p>١- دولة من أفريقيا الغربية وأخرى من أميركا الجنوبية تتراوح في كلّ منهما حصة الفرد من إجمالي الناتج المحلي ما بين ٢٥٠٠ و ٣٧٠٠ دولار أميركي:</p> <p>أ- موريتانيا وتشيلي. ب- ليبيا والبرازيل. ج- نيجيريا وبوليفيا.</p>
<p>٤- دولتان من عالم الشمال تتساويان في فئة حصة الفرد من إجمالي الناتج المحلي وفي فئة نسبة المهاجرين من إجمالي السكّان:</p> <p>أ- نيبال والمغرب. ب- روسيا والمكسيك. ج- كندا وإسبانيا.</p>	<p>٣- دولتان من عالم الجنوب تختلفان في فئة حصة الفرد من الناتج المحلي وتتساويان في نسبة المهاجرين من إجمالي السكّان:</p> <p>أ- فنزويلا وأفريقيا الوسطى. ب- باراغواي والصومال. ج- جنوب السودان وكازاخستان.</p>

- ثالثاً: من خلال المستند رقم (٤)، أكمل الرسم التالي: (علامة نصف)



- رابعاً:** من خلال المستندين رقم (٢) ورقم (٣)، أكمل العبارات التالية بما يناسبها: (ثلاث علامات)
- أ- مسار الاتجاه العام لنمو الناتج المحلي الإجمالي في العالم ما بين عامي ٢٠١٨ و ٢٠٢١:
- ب- دولة من عالم الجنوب تشهد حرباً تجارية مع الولايات المتحدة الأميركية وتسجل أعلى نسبة نمو للناتج المحلي الإجمالي:
- ج- تكتل اقتصادي شهد تقلبات حادة في نمو الناتج المحلي الإجمالي بين عامي ٢٠١٩ و ٢٠٢١:
- د- مجموعة الاقتصادات التي حققت نسبة رقمية من حيث نمو الناتج المحلي الإجمالي عام ٢٠٢١ مناقضة لما كانت عليه عام ٢٠٢٠:
- هـ- مظهر من مظاهر الثورة الرقمية (الصناعية الرابعة) التي يشهدها العالم في ظلّ العولمة:
- و- هدف استراتيجي عالمي سعى الرئيس الأميركي إليه من وراء خطته الاستثمارية التطويرية:

- خامساً:**
- ١- من خلال المستند رقم (١)، استنتج طبيعة العلاقة بين حصة الفرد من الناتج المحلي الإجمالي ونسبة المهاجرين من إجمالي السكان، مبرراً استنتاجك بالدليل المناسب. (علامة واحدة)
- ٢- ورد في المستند رقم (١) نسبة المهاجرين من إجمالي السكان في بعض دول العالم، أوضح:
 أ- سبباً عسكرياً أدى إلى ارتفاع حركة الهجرة من بعض دول عالم الجنوب. (نصف علامة)
 ب- إجراءً واحدًا اعتمدته دول عالم الشمال للحد من تدفقات المهاجرين إليها. (نصف علامة)
- سادساً:**
- ١- من خلال المستند رقم (٣)، استنتج انعكاساً اقتصادياً لأزمة كوفيد-١٩ (جائحة كورونا) على نمو الناتج المحلي العالمي في العام ٢٠٢٠، مبرراً استنتاجك بالدليل المناسب. (علامة واحدة)
- ٢- يشير المستند رقم (٣) إلى ارتفاع الناتج المحلي في مجموعة الاقتصادات النامية والناشئة، أوضح اثنين من الإجراءات التي اعتمدها الحكومات الصينية وساهمت بتعاظم اقتصادها. (علامة واحدة)
- سابعاً:**
- ١- من خلال المستند رقم (٥)، استنتج انعكاساً اجتماعياً لتفاقم ديون بعض دول عالم الجنوب، مبرراً استنتاجك بالدليل المناسب. (علامة واحدة)
- ٢- يشير المستند رقم (٥) إلى المؤسسات المالية المانحة للقروض المالية، أوضح اثنين من الشروط التي يفرضها صندوق النقد الدولي على الدول المدينة. (علامة واحدة)

ثامناً: يتميز العصر الحالي المعولم بتسارع إنتاج المعرفة الرقمية (التكنولوجية) وانتشارها في معظم دول العالم، مما ساهم في زيادة الإنتاجية وتفاوتاً واضحاً في النمو بين مجموعة الاقتصادات المتقدمة بقيادة الولايات المتحدة الأميركية ومجموعة الاقتصادات النامية والناشئة، ما يستوجب على حكومات هذه الدول تنفيذ إجراءات متنوعة لتحقيق التنمية المنشودة.

انطلاقاً من المستند رقم (٢)، والمصطلحات التالية: «الشركات متعددة الجنسيات- التبعية- النمو الطبيعي- الناتج المحلي» ومعلوماتك المكتسبة، عالج المسألة أعلاه، موضّحاً:

- سببين يدفعان بدول عالم الشمال إلى الإمتناع عن تزويد دول عالم الجنوب بالتكنولوجيا المتطورة.
- سببين أدبياً إلى استئثار الولايات المتحدة الأميركية بالقرار العالمي.
- خطوتين (واحدة إدارية وأخرى ديموغرافية) على حكومات دول عالم الجنوب القيام بهما من أجل تحقيق التنمية المستدامة في دوله.
- (ست علامات)

أسس تصحيح مادة الجغرافيا
المدة: ساعتان

معالجة الموضوع الجغرافي			
العلامة	الإجابات المقترحة	جزء السؤال	
٢	<p>مقدمة الموضوع :</p> <p>- تحديد وتوضيح المصطلحات والمفاهيم الأساسية: المعرفة الرقمية/ العولمة/ الاقتصادات المتقدمة/ الاقتصادات النامية والناشئة/ الولايات المتحدة الأميركية/ عائق اقتصادية/ عائق سياسية/ عالم الشمال/ عالم الجنوب/ الإنتاجية/ التنمية الاقتصادية/ ...</p> <p>Δ علامتان لأربعة مفاهيم ومصطلحات واضحة ، (١/٢) علامة لكل منها.</p>	أ	١ م
٢	<p>إشكالية مقترحة:</p> <p>- إلام تعود مكانة دول عالم الشمال الاقتصادية؟</p> <p>- العوامل التي مكنت الولايات المتحدة من التربع على عرش النظام العالمي، وما الصعوبات التي تواجهها وتهدد دورها العالمي؟</p> <p>- ما الفوائد التي يحققها عالم الجنوب من العولمة، وما العوامل التي تحد من تقدمه في عملية التنمية؟</p> <p>Δ الإشكالية المقترحة للدلالة فقط ، تقبل أي إشكالية أخرى مناسبة .</p> <p>Δ علامتان للإشكالية: علامة لأفكارها المرتبطة بالموضوع، وعلامة لأسلوب صياغتها.</p>	ب	١ م
٠,٢٥	<p>توسيع الموضوع (الفقرة الأولى):</p> <p>- العنوان المقترح: الشمال قوة اقتصادية بارزة عالمياً.</p> <p>Δ ربع علامة للعنوان المناسب (يقبل أي عنوان آخر مناسب).</p>	أ	٢ م
٠,٢٥	<p>الفكرة الرئيسية: عوامل عديدة مكنت دول عالم الشمال من احتلال مكانة مهمة على الصعيد الاقتصادي العالمي.</p> <p>Δ ربع علامة للفكرة الرئيسية (الفكرة الرئيسية المقترحة للدلالة فقط، تقبل أي فكرة أخرى مناسبة).</p>	ب	٢ م
٢	<p>الأفكار الثانوية:</p> <p>- العوامل التي ساهمت في تقدم دول عالم الشمال:</p> <p>العامل التاريخي المتمثل بالثورة الصناعية .../ التراكم التاريخي للمال والتكنولوجيا/ التقسيم الدولي للعمل الذي جعل من دول عالم الشمال مصدرة للسلع المصنعة ومن عالم الجنوب مصدرًا للمواد الأولية ومصادر الطاقة/ امتلاكه لجميع مقومات الانتاج ومنها الرساميل الضخمة/ تحقيق نمو ناتج محلي مرتفع (م ٣) / اجتذاب الاستثمارات الهائلة/ ارتفاع نصيب الفرد وبالتالي القدرة الشرائية عند مواطني دول عالم الشمال (م ١) امتلاك بعض دول عالم الشمال للمواد الأولية وقدرته على تأمينها من دول عالم الجنوب/ امتلاكه لأكثر عدد من الشركات متعددة الجنسيات ولأهم البورصات في العالم/ هيمنته على أهم المؤسسات المالية العالمية (صندوق النقد الدولي، البنك الدولي...)/ توفر الاستقرار الأمني والسياسي والاجتماعي/ تفوق معدل النمو الاقتصادي على معدل النمو السكاني/ امتلاكه أهم مراكز الأبحاث العلمية/ امتلاكه وسائل الاتصالات والمواصلات/ امتلاكه لأهم الجامعات والمعاهد العلمية والتكنولوجية .../ تطور النظام العالمي الجديد لمصلحة دول عالم الشمال/ ...</p> <p>Δ علامتان لثمانية أفكار متنوعة: ربع علامة لكل فكرة واضحة.</p> <p>Δ تقبل أي فكرة ثانوية أخرى.</p>	ج	٢ م
٠,٢٥	<p>توسيع الموضوع (الفقرة الثانية):</p> <p>- العنوان المقترح: النسر الأميركي: تفوق عالمي بارز/ الولايات المتحدة الأميركية قوة عظمى مهيمنة.</p> <p>Δ ربع علامة للعنوان المناسب (يقبل أي عنوان آخر مناسب).</p>	أ	٣ م
٠,٢٥	<p>الفكرة الرئيسية: عوامل عديدة ساهمت في تربع الولايات المتحدة على عرش العالم ولكن؟</p> <p>Δ ربع علامة للفكرة الرئيسية (الفكرة الرئيسية المقترحة هي للدلالة فقط تقبل أي فكرة أخرى).</p>	ب	٣ م
٢	<p>الأفكار الثانوية:</p> <p>أسباب استئثار الولايات المتحدة بالقرار العالمي:</p> <p>دولة ذات الاقتصاد الأكبر في العالم يمثل ناتجها المحلي أكثر من ثلثي الناتج وربع الاقتصاد العالمي (م ٢)/ تشكل سوقاً استهلاكياً ضخماً بفضل القوة الشرائية المرتفعة للسكان؛ نصيب الفرد أكثر من \$٢٠٠٠٠ (م ١)/ امتلاكها لأهم الشركات متعددة الجنسيات المهيمنة على الاقتصاد العالمي (م ٢)/ تحتل الصدارة في حقل الاختراعات وبخاصة التكنولوجيا الرقمية (شبكة المعلومات) التي تتفوق فيها على منافسيها (م ٢)/ امتلاكها قدرات عسكرية ضخمة وهائلة (عدد وعتاد)/ قواعد عسكرية منتشرة في معظم بقاع الأرض/ الدولار الأميركي العملة التي</p>	ج	٣ م

			تستعمل في جميع المبادلات التجارية العالمية ويمثل قسماً كبيراً من احتياطي البنوك العالمي/ امتلاك حق النقض الفيو في مجلس الأمن وهميتها على قرارات منظمة الأمم المتحدة/ ...
			التحديات التي تواجه الولايات المتحدة الأمريكية: تزايد عدد المهاجرين/ انتشارها الواسع في العالم/ غيتوات - توترات عنصرية/ انتشار العنصرية/ اضطراب الأمن/ ضغط على الخدمات/ ميل المجتمع نحو الشيوخة/ تفاوت طبقي/ انتشار البطالة عجز الكبير في الميزان التجاري السلعي/ انهيار مالي لبعض الشركات/ أزمة الديون الملقى على عاتق الحكومة والذي شكل نمواً ملحوظاً في السنوات الماضية/ هيمنة الشركات على السوق/ منافسة الإنتاج الصيني (م ٢)/ منافسة أوروبية للمنتجات الأمريكية في الأسواق الداخلية والخارجية/ منافسة الشركات الأجنبية حتى داخل الأسواق المحلية/ انخفاض قيمة العملة الوطنية نتيجة الأزمات الاقتصادية المتلاحقة وصعوبة استرداده لمكانته/ (أزمة كوفيد- ١٩) (م ٢) حيث لا تزال اقتصادات عديدة منكوبة/ أزمة الخزنة الأميركية/ الظروف الطبيعية الطارئة (الزلازل والفيضانات، الأعاصير والأضرار التي تلحق بالاقتصاد)/ الإنفاق على التسلح وأثره على الاقتصاد/ ... △ علامتان لثمانية أفكار متنوعة وواضحة: ربع علامة لكل فكرة واضحة.
٠,٢٥	م	٤	أ توسيع الموضوع (الفقرة الثالثة): - العنوان المقترح: فوائد العولمة/ تخلف الجنوب، من يتحمل مسؤوليته؟ △ ربع علامة للعنوان المناسب (يقبل أي عنوان آخر مناسب).
٠,٢٥	م	٤	ب - الفكرة الرئيسية: العولمة تطلق التنمية في دول عالم الجنوب رغم العقبات الكثيرة. △ ربع علامة للفكرة الرئيسية (الفكرة الرئيسية المقترحة هي للدلالة فقط، تقبل أي فكرة ثانوية أخرى مناسبة).
٢,٥	م	٤	ج - الأفكار الثانوية: إيجابيات العولمة على دول عالم الجنوب : تدفق الاستثمارات العالمية إلى دول عالم الجنوب، لاسيما من خلال الشركات متعددة الجنسيات، الأمر الذي يطور اقتصادياتها ويخلق الكثير من فرص العمل (تخفيف حدة البطالة - ارتفاع معدل النمو الاقتصادي في عدد من دول عالم الجنوب، مثال مجموعة دول الاقتصادات النامية والناشئة ودولة الصين التي سجلت أعلى نمواً في الناتج المحلي الإجمالي (م ٣)/ انتقال التكنولوجيا أدى إلى اعطاء دفعة للابتكار والإنتاجية في الأسواق الصاعدة، حيث ساهمت في تحقيق نمواً اقتصادياً تخطى الاقتصادات المتقدمة (م ٣)/ صعود نجم شركات الأسواق الصاعدة نتيجة المنافسة/ انفتاح الأسواق العالمية أمام صادرات هذه الدول، لأن انفتاح الأسواق من أهم ركائز العولمة / توفر مختلف المنتجات العالمية في معظم أسواق العالم نتيجة سياسة الانفتاح التي تنشرها مبادئ العولمة/ انتشار قيم الديمقراطية ومبادئ حقوق الإنسان، الأمر الذي يساعد في بناء المناخ الملائم للتنمية/ ... العوائق الاقتصادية والسياسية التي تحد من قدرة دول الجنوب في تحقيق التنمية: انخفاض الإنفاق على المستوى الصحي والتعليمي، مما يتسبب بتراجع وضعهما وبالتالي كبح الإيرادات المستقبلية (م ٤) واستنزاف المدخرات والأصول (م ٤)/ عجز الميزان التجاري للسلع المصنعة في عدد من دول عالم الجنوب/ تدني نصيب الفرد من الناتج المحلي الاجمالي الذي يحد من قدرة الفرد الشرائية (م ١)/ تدني نسبة الإنفاق على البحث العلمي/ ارتفاع نسب الإنفاق على القطاع العسكري وغالباً ما يكون على حساب مشاريع التنمية/ نقص التكنولوجيا وأثرها على كلفة الإنتاج والقدرة على المنافسة/ ارتفاع حجم المديونية (م ٥) وفرط أعباء خدمة الديون الذي يكبح فرص الإقراض للقطاع الخاص (م ٤)/ تراجع التدفقات الوافدة من رؤوس الأموال وتحويلات العاملين في الخارج (م ٤)/ انخفاض عائدات السياحة (م ٤)/ تراجع الإيرادات النفطية نتيجة تراجع الصادرات (م ٤)/ تخلف الأنظمة السياسية وفساد الإدارة في هذه الدول وضعف اصلاحها/ غياب الديمقراطية وبقاء الطبقة الحاكمة مهيمنة على البلاد/ سوء استخدام الحكام للسلطة وعقد الصفقات وبالتالي تخم المديونية. △ علامتان ونصف لعشر أفكار متنوعة وواضحة: ربع علامة لكل فكرة واضحة.
٣	م	٥	- استخلاص معلومات من المستندات المرفقة والربط فيما بينها وبين أفكار الموضوع. △ ثلاث علامات لست أفكار من المستندات: نصف علامة لكل منها ، شرط الإشارة الصريحة للمستند الذي وردت فيه.
١,٥٠	م	٦	أ - تنظيم الموضوع: توافق مضمون الفقرات مع شطور الموضوع. △ علامة ونصف لمدى توافق مضمون الفقرات مع شطور الموضوع: نصف علامة لكل فقرة.
١,٥٠	م	٦	ب - تنظيم الموضوع: توازن الفقرات. △ علامة ونصف لمدى التوازن: نصف علامة لكل فقرة.
٠,٥٠	م	٧	أ - الخاتمة: الرد على الإشكالية. △ نصف علامة.
٠,٥٠	م	٧	ب - الخاتمة: فتح الأفاق. △ نصف علامة.
١	م	٨	△ الشكل: المصطلحات والمفاهيم (نصف علامة)، ترتيب المسابقة (ربع علامة)، إمكانية قراءة المسابقة (ربع علامة)

تحليل مستندات		رقم السؤال
العلامة	الإجابات المقترحة	
١	<p>طبيعة المستند: رقم (١): خريطة. رقم (٣): رسم بياني عمودي. موضوع المستند رقم (٣): تطور نمو الناتج المحلي الإجمالي العالمي بين عام ٢٠١٨ والرابع الثاني من العام ٢٠٢١. △ علامة واحدة: ربع علامة لطبيعة المستند ونصف علامة للموضوع.</p>	أ أولاً
٠,٥	<p>العنوان المقترح: واقع عالم الجنوب في ظلّ تفاقم أزمة المديونية/ عالم الجنوب يزرح تحت وطأة المديونية/ موقف صندوق النقد الدوليّ من ديون عالم الجنوب. △ نصف علامة للعنوان المناسب (يقبل أيّ عنوان آخر مناسب).</p>	ب أولاً
٢	<p>الاختيار: ١- (ج) ٢- (ج) ٣- (ب) ٤- (ج) △ علامتان: نصف علامة لكلّ إجابة صحيحة.</p>	ثانياً
١,٥	<p>تكملة الرسم: ١- تدهور النتائج الصحيّة والتعليميّة. ٢- تفاقم عدم المساواة. ٣- ديموغرافية. ٤- نقص الموارد وضعف المؤسسات. ٥- استنزاف المدخرات والأصول. ٦- اضطرابات الإنتاج - فرط أعباء المديونية. △ علامة ونصف: ربع علامة لكلّ إجابة صحيحة.</p>	ثالثاً
٣	<p>تكملة العبارات: أ- تصاعدي. ب- الصين. ج- الأتحاد الأوروبي. د- الاقتصادات المتقدّمة. هـ- أشباه الموصلات/ الهواتف الذكيّة/ شبكة المعلوماتيّة. و- بقاء الولايات المتّحدة الأميركيّة القوّة الأولى في العالم. △ ثلاث علامات: نصف علامة لكلّ إجابة صحيحة.</p>	رابعاً
١	<p>طبيعة العلاقة بين حصّة الفرد من الناتج المحليّ الإجماليّ ونسبة المهاجرين من إجماليّ السكّان: عكسيّة. الدليل: جنوب السودان الناتج المحليّ الإجماليّ ٢٥٠٠ وما دون أما نسبة المهاجرين من إجماليّ السكان فهي ٢٣,٢ بالمئة. (أو أيّ تبرير آخر يظهر العلاقة العكسية). △ علامة واحدة: نصف علامة للاستنتاج ونصف علامة للدليل.</p>	١ خامساً
٠,٥	<p>أ- السبب العسكريّ الذي يؤدي إلى ارتفاع حركة الهجرة من بعض دول عالم الجنوب: الحروب وعدم الاستقرار السياسيّ التي تؤدي إلى انتقال عدد كبير من السكّان من بلدهم الأم إلى بلد أكثر استقراراً. △ نصف علامة للسبب.</p>	٢
٠,٥	<p>ب- إجراء اعتمده دول عالم الشمال للحدّ من تدفّقات المهاجرين إليها: اعتماد سياسة انتقاء المهاجرين وفق معايير معينة/ تشديد الرقابة على المعابر الحدوديّة/ تحديد أعداد المهاجرين وفق اختصاصات معينة/ التشدّد في منح تأشيرات الدخول إليها/ سياسة دعم التنمية في الدول الناميّة لخلق فرص العمل والتخفيف من المهاجرين إليها. △ نصف علامة لإجراء واحد.</p>	
١	<p>انعكاس اقتصاديّ لازمة كوفيد- ١٩: انخفاض/ تدني الناتج المحليّ الإجماليّ . الدليل: بلغ الناتج المحليّ الإجماليّ في الولايات المتّحدة الأميركيّة (٣,٥- بالمئة عام ٢٠٢٠)/ في الأتحاد الأوروبيّ (٦,٦- بالمئة عام ٢٠٢٠)/ في الصين (٢,٢ بالمئة عام ٢٠٢٠)/ في الاقتصادات الناميّة والناشئة (٢,٢- بالمئة عام ٢٠٢٠) في الاقتصادات المتقدّمة (٤,٨- بالمئة عام ٢٠٢٠). △ علامة واحدة: نصف علامة للاستنتاج الصحيح ونصف علامة للدليل.</p>	١ سادساً

١	<p>الإجراءات التي اعتمدها الحكومات الصينية: انشاء المناطق الاقتصادية الخاصة على طول الواجهة البحرية وخصوصاً الجهات الشرقية والجنوبية الشرقية/ اعتماد سياسة الصناعة التصديرية/ سياسات الانفتاح والاصلاح الاقتصادي/ تشجيع الشركات على الاستثمار في الصين (ضمانات وتسهيلات)/ اصلاحات اقتصادية داخلية، تملك أراضي زراعية للمزارعين والسماح لهم بيع قسم من إنتاجهم لحسابهم الخاص/ الحد من ضغط السكان على الاقتصاد من خلال اعتماد سياسة تحديد النسل/ إعداد اليد العاملة الفنية لتتكيف مع متطلبات الاقتصاد الحديث/ تعاونها الوثيق مع دول الجنوب، الأمر الذي أدى إلى انفتاح الأسواق أمام منتجاتها/ اعطاء دور للقطاع الخاص/ ... △ علامة واحدة: نصف علامة لكل إجراء.</p>	٢
١	<p>انعكاس اجتماعي لتفاقم ديون بعض دول عالم الجنوب: الفقر/ انخفاض المستوى المعيشي. <u>الدليل:</u> الثياب الممزقة التي يرتديها الرجل الذي يمثل عالم الجنوب. الانعكاس: تراجع الوضع الصحي. <u>الدليل:</u> هزلة الرجل الذي يمثل عالم الجنوب. △ علامة واحدة: نصف علامة للانعكاس ونصف علامة للدليل.</p>	١ سابقاً
١	<p>الشروط التي يفرضها صندوق النقد الدولي على الدول المدينة: فرض سياسة الخصخصة، ما يقلل من الإنفاق الحكومي على بعض القطاعات/ إلغاء سياسة الدعم عن بعض المنتجات والسلع والعمل على تحرير الأسعار/ تثبيت الأجر وتقليل عدد الموظفين في القطاع العام/ اعتماد سياسة تشفير مالي/ حصر النفقات/ العمل على تحرير التجارة الخارجية عبر إلغاء أو تخفيض الرسوم الجمركية/ فرض المزيد من الضرائب والرسوم لزيادة واردات خزينة الدولة/ تحرير حركة الرساميل/ ... △ علامة واحدة: نصف علامة لكل شرط.</p>	٢
	<p>الأسباب التي تدفع بدول عالم الشمال الى عدم تزويد دول عالم الجنوب بالتكنولوجيا المتطورة: يبقى عالم الجنوب سوقاً لتصريف منتجات دول عالم الشمال وخاصة السلع الصناعية منها/ يبقى عالم الجنوب بحاجة الى خبرات عالم الشمال/ يبقى عالم الشمال مهيمناً على الاقتصاد العالمي ويبقى عالم الجنوب مصدرًا للمواد الأولية ومستورداً للسلع المصنعة حسب التقسيم الدولي للعمل/ يبقى عالم الجنوب بحالة <u>تبعية</u> اقتصادية وثقافية لعالم الشمال/ ...</p>	ثامناً -
٦	<p>الأسباب التي أدت إلى استئثار الولايات المتحدة الأميركية بالقرار العالمي: دولة ذات الاقتصاد الأكبر في العالم يُمثل <u>ناتجها المحلي</u> أكثر من ثلثي الناتج وربع الاقتصاد العالمي (م٢)/ تشكل سوقاً استهلاكياً ضخماً بفضل القوة الشرائية المرتفعة للسكان/ امتلاكها لأهم <u>الشركات متعددة الجنسيات</u> المهيمنة على الاقتصاد العالمي (م٢)/ تحتل الصدارة في حقل الاختراعات وبخاصة التكنولوجيا الرقمية التي تتفوق فيها على منافسيها (م٢)/ امتلاكها قدرات عسكرية ضخمة وهائلة (عدد وعتاد)/ قواعد عسكرية منتشرة في معظم بقاع الأرض/ الدولار الأميركي العملة التي تستعمل في جميع المبادلات التجارية العالمية ويمثل قسماً كبيراً من احتياطي البنوك العالمي/ امتلاك حق النقض الفيتو في مجلس الأمن وهيمنتها على قرارات منظمة الأمم المتحدة/ ...</p>	-
	<p>خطوة إدارية وأخرى ديموغرافية على حكومات دول عالم الجنوب القيام بهما من أجل تحقيق التنمية المستدامة في دوله: العمل على الحد من الفساد وذلك بتطوير الإدارة واصلاح الأنظمة الاقتصادية والسياسية.../ وقف الهدر في المال العام/ تخفيض معدل <u>النمو الطبيعي</u> للسكان وذلك بالحد من النسل وتأخير سن الزواج/ رفع مستوى التعليم عند الجنسين من خلال مجانية التعليم/ تطبيق سياسات تنظيم الأسرة/ ...</p>	-
	<p>ست علامات موزعة على الشكل التالي: △ علامة واحدة لسببين: نصف علامة لكل سبب. △ علامتان لسببين: علامة واحدة لكل سبب. △ علامة واحدة لخطوتين: نصف علامة لكل خطوة. △ علامة واحدة لاستعمال المصطلحات (ربع علامة لكل مصطلح). △ علامة واحدة لاستثمار المستند رقم (٢) (فكرة واحدة).</p>	