

مسابقة في مادة الجغرافيا

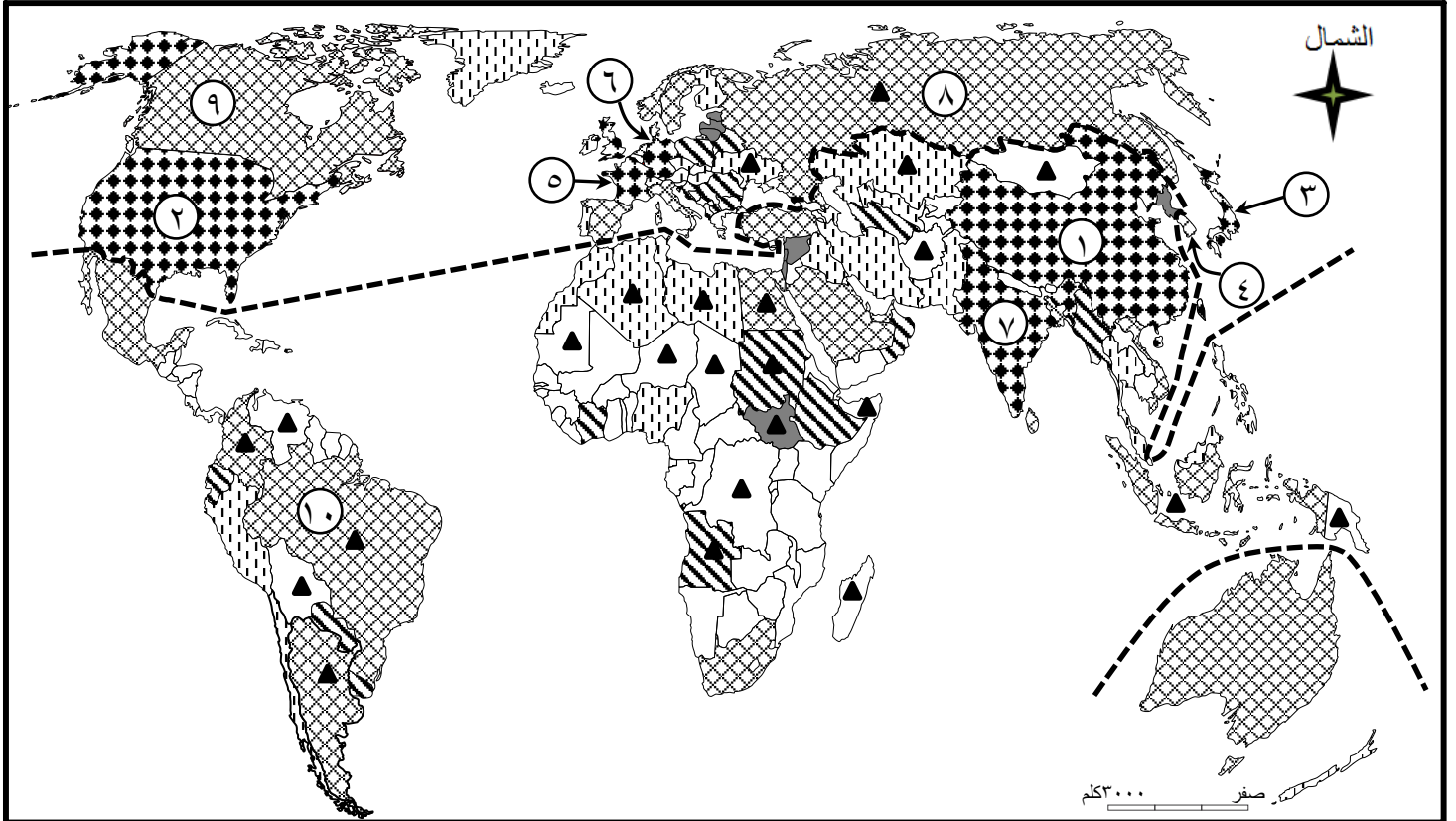
المدّة: ساعتان

الاسم:

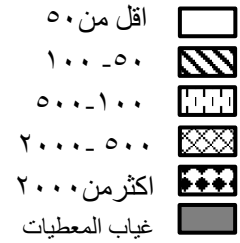
الرقم:

مُسَابَقَة اخْتِيَارِيَّة بَيْن مُعَالَجَة مَوْضُوع جُغْرَافِي وَتَحْلِيل مُسْتَنْدَات:

□ تحليل مستندات



الناتج القومي (مليار دولار)



الترتيب بحسب براءات الاختراع

١٠

مؤشر الفساد مرتفع

▲

الحد الفاصل بين عالمي الشمال والجنوب



المصدر: التّحديث الإحصائي، أدلة التّمنية البشريّة ومؤشّراتها، ٢٠١٨

المُسْتَنْد رقم (١ - أ)

الدولة	الترتيب بحسب براءات الاختراع
الصين	١
الولايات المتحدة الأمريكية	٢
اليابان	٣
كوريا الجنوبيّة	٤
فرنسا	٥
ألمانيا	٦
الهند	٧
روسيا الاتحادية	٨
كندا	٩
البرازيل	١٠

المُسْتَنْد رقم (١ - ب)

أولاً: أجب على الأسئلة التالية مُعْتَمِداً على المُسْتند رقم ١ (أ - ب).

(ربع علامة)

١. حدّد طبيعة المُسْتند رقم (١ - أ)

(علامتان)

٢. من خلال المُسْتند رقم ١ (أ - ب)، اختر الإجابة الصّحيحة:

١- دولة من قارة آسيا وأخرى من قارة أفريقيا تتراوح فيهما قيمة الناتج القومي بين

١٠٠ و ٥٠٠ مليار دولار:

أ- تايلند وجمهورية جنوب أفريقيا.

ب- إيران ومدغشقر.

ج- كازاخستان ونيجيريا.

٢- دولة من عالم الشمال وأخرى من عالم الجنوب تزيد فيهما قيمة الناتج القومي عن

٢٠٠٠ مليار دولار، وتتفوق الثانية على الأولى في مرتبتها ببراءات الاختراع:

أ- كندا والبرازيل.

ب- الولايات المتحدة الأميركية والصين.

ج- المملكة المتحدة وفرنسا.

٣- قارة تتدنى في جميع دولها قيمة الناتج القومي عن ٢٠٠٠ مليار دولار:

أ- آسيا.

ب- أفريقيا.

ج- أوروبا.

٤- دولة من أميركا الجنوبيّة وأخرى من قارة أوقيانيا تتراوح فيهما قيمة الناتج

القومي بين ٥٠٠ و ٢٠٠٠ مليار دولار:

أ- الأرجنتين وأستراليا.

ب- كولومبيا واندونيسيا.

ج- المكسيك وغينيا الجديدة.

٣. من خلال المُستند رقم (١- أ):

(نصف علامة)

• استنتج عائقاً إدارياً يمنع تحقيق التّمية في غالبية دول عالم الجنوب

(نصف علامة)

• بّرر استنتاجك بالدليل المناسب.

٤. يظهر المستند رقم (١)، التفوق الاقتصادي للولايات المتّحدة الأميركية على الرغم من المعوقات التي تعترضها.

اوضح اثنين من العوائق الداخليّة التي تحدّ من تفوق الولايات المتّحدة الأميركية على الصعيد العالمي.

(علامة واحدة)

الدولة	الولايات المتحدة	ألمانيا	كوريا الجنوبية	روسيا الاتحادية	كولومبيا	العراق	مصر	الهند
النمو الطبيعي للسكان (بالألف)	٤	٢-	٢	صفر	١٢	٢٨	٢٣	١٤
نسبة السكان الذين يعيشون دون مستوى خط الفقر (%)	١٥	١٦,٧	١٢,٥	١٣,٣	٢٧,٨	٢٣	٢٥,٢	٢١,٩
العمر المتوقع عند الولادة (سنة)	٧٨,٥	٨٠,٥	٨٢,٥	٧١,٥	٧٥,٥	٦٩	٧١,٥	٦٨,٥
نسبة الذين يعرفون القراءة والكتابة (بين ١٥ و ٢٤ سنة) (%)	١٠٠	١٠٠	٩٩	٩٩,٥	٩٩	٨١,٥	٩٣	٨٩
نصيب الفرد من الناتج المحلي الاجمالي (دولار أميركي)	٥٧٦٣٨	٤٢١٦١	٢٧٥٣٩	٨٧٤٨	٥٨٠,٦	٤٦١٠	٣٤٧٨	١٧١٠
حصّة الصناعة من الناتج المحلي الاجمالي (%)	٢٠,٥	٣٠,٥	٣٨,٦	٣٢,٤	٣٢,٦	٣٧,٣	٣٢,٩	٢٨,٨
عدد السكان (مليون نسمة)	٣٢٩	٨١	٥١	١٤٣	٤٩	٤٠	٩٥	١٣٥٨

المصدر: Images économiques du monde 2019

المُسْتَنْد رقم (٢)

ثانياً أجب على الأسئلة التالية مُعْتَمِداً على المُسْتَنْد رقم (٢).

١. حدّد طبيعة المُسْتَنْد رقم (٢)، وموضوعه. (ثلاثة أرباع العلامة)
٢. من خلال المُسْتَنْد رقم (٢):

• استنتج خاصية اقتصادية وأخرى اجتماعية تتميز بهما معظم دول عالم

(علامة واحدة) الجنوب.

• برّر استنتاجك بالدليل المناسب لكلٍ منهما. (نصف علامة)

اربط أرقام كُـلِّ من المصطلحات الواردة في العمود الأوّل بما يناسبها من أحرف

العبارات الواردة في العمود الثّاني:

(علامتان)

- | | |
|---------------------|---|
| ١- العراق | أ- تزيد فيها قيمة الناتج القومي عن ٢٠٠٠ مليار دولار ويتفوق فيها معدّل الوفيّات على معدّل المواليد. |
| ٢- ألمانيا | ب- تتراوح قيمة الناتج القومي بين ٥٠٠ و ٢٠٠٠ مليار دولار وتسجّل مُؤشّر فساد مرتفع. |
| ٣- الهند | ج- تسجّل أعلى نسبة أميّة وأعلى نسبة نموّ طبيعيّ للسّكان. |
| ٤- روسيا الإتحاديّة | د- تزيد فيها قيمة الناتج القومي على ٢٠٠٠ مليار دولار وتسجّل أدنى عمر متوقّع عند الولادة وأدنى نصيب للفرد من الناتج المحلّي الإجماليّ. |

وردت في بعض تقارير خبراء ومُستشاري المؤسسات الماليّة الدوليّة بعض التّساؤلات عن نموذج التّنمية وعن مفاهيم «الأمن الوقائي» ضدّ الأزمات في بعض البلدان التي طبّقت أوامر صندوق النّقد الدولي بحذافيرها، وقد ارتفعت فيها نسبة الفقر والبطالة والظلم، لأنّ نمط التّنمية الذي يدعو إليه كلّ من البنك الدولي وصندوق النّقد الدولي، لا يُفيد سوى الأثرياء بفعل عمليّات الخَصْصَة والحوافز من المال العام وزيادة الضرائب والإستفادة من الإنفاق الحكومي على البنى التّحتيّة، دون خلق وظائف جديدة، بل تسريح من كانوا يعملون.

أمّا على الصّعيد العالمي، فقد ارتفعت الفوارق وتعمّقت الهوة الطبقيّة بين الأثرياء والفُقراء، من جرّاء التّقسيم الدولي للعمل، بين البلدان الغنيّة والبلدان الفقيرة، حيث احتكرت بلدان الشّمال رأس المال والصناعات والتّقنيّات والقوّة العسكريّة والأسواق، لتستغلّ شركاتها الخامات والموادّ الأوّليّة، وبالأخصّ النفط والغاز الطّبيعي قبل نفاذهما، فتحوّلها إلى إنتاج صناعي ذا قيمة إضافيّة قبل بيعه بأسعار مرتفعة إلى بلدان الجنوب، وبالمقابل يعاني سكّان البلدان الفقيرة من تدهور الوضع الصّحي والتّعليمي والخدماتي.

المصدر: تقرير التنمية البشريّة، ٢٠١٦ (بتصرّف)

المُسْتند رقم (٣)

رابعًا: من خلال المُستندات (١، ٢، ٣)، حدّد الدّخيل في العبارات التّاليّة: (علامة ونصف)

١- مكوّنان اثنان يدخلان في احتساب قيمة مُؤشّر التّنمية البشريّة:

العمر المتوقّع عند الولادة	النّموّ الطّبيعيّ للسّكان	نصيب الفرد من النّاتج المحلّي الإجمالي
----------------------------	---------------------------	--

٢- دولتان تتساويان من حيث نسبة الذين يعرفون القراءة والكتابة (بين ١٥ و ٢٤ سنة) ويختلفان من حيث العمر المتوقّع عند الولادة:

كوريا الجنوبيّة	مصر	كولومبيا
-----------------	-----	----------

٣- دولتان يُسجّل فيهما مُؤشّر فساد مرتفع وتتراوح فيهما قيمة النّاتج القومي بين ٥٠ و ١٠٠ مليار دولار:

السودان	أنغولا	منغوليا
---------	--------	---------

٤- مشكلتان اجتماعيّتان يعاني منهما معظم سكّان دول عالم الجنوب:

زُعب الإنفاق على البنى التّحتيّة	تدهور الوضع الصّحي	ارتفاع نسبة البطالة
----------------------------------	--------------------	---------------------

٥- سياستان يفرضهما صندوق النّقد الدولي لتحقيق التّنمية في دول عالم الجنوب:

الخَصْصَة	زيادة الضرائب	التّقسيم الدولي للعمل
-----------	---------------	-----------------------

٦- عاملان أدّيا إلى ارتفاع قيمة النّاتج القومي في معظم دول عالم الشّمال:

امتلاك الشّركات متعدّدة الجنسيّات	امتلاك التّقنيّات	بيع الموادّ الأوّليّة
-----------------------------------	-------------------	-----------------------

خامساً: أجب على الأسئلة التالية مُعْتَمِداً على المُسْتند رقم (٣).

١. يشير المُسْتند رقم (٣)، إلى أنّ النّفط والغاز الطّبيعي مهذّدان بالنّفاد، الأمر الذي ينعكس سلّباً على أسعاره.

أوضح ثلاثة عوامل تؤدي إلى ارتفاع أسعار النّفط. (علامة ونصف)

٢. بالرّغم من وعود العولمة لسكّان العالم بالرّفاهيّة، تستمرّ الأزمات الاقتصاديّة، ويتبادل دول عالميّ الشّماليّ والجنوبيّ الاتّهامات حول التّسبّب بهذه الأزمات، ما استوجب عقد العديد من المؤتمرات التي أدت جميعها إلى الفشل.

انطلاقاً من المُسْتند رقم (٣) والمُصطلحات التّاليّة «الهجرة- السّلع المصنّعة- الهيمنة- النّظام الرّأسمالي» ومن معلوماتك المكتسبة،

عالج المسألة أعلاه، موضّحاً:

- عاملاً سياسياً أدى إلى قيام النّظام العالمي الجديد.
- قضيّتين، من الضّروري أن تبحثهما دول عالم الجنوب في حوارها مع دول عالم الشّماليّ والسبب الذي يدفعها إلى طرح كلّ منهما.
- سببين اثنين حالاً دون نجاح مؤتمرات الحوار القائمة بين دول عالميّ الشّماليّ والجنوبيّ.

(ست علامات)

أكبر الدلائل على ذلك هو «البريكست» (خروج بريطانيا من الإتحاد الأوروبي)، وازدياد شعبية الأحزاب اليمينية المتطرفة التي تؤمن بهذه السياسة، التي تُطبَّق من خلال إجراءات عدَّة ، مثل زيادة الرسوم الجمركية على السلع المستوردة وتحديد كمياتها، ومنع الأجانب من "الإستيلاء" على الأسواق المحلية والشركات الوطنية، فالحماية تُناهض العولمة وتتناقض مع حرية التجارة، إذ تهدف هذه الأخيرة إلى حماية الأسواق الداخلية من المنافسة الخارجية، والتشجيع على استهلاك المنتجات المحلية. وعلى الرغم من تحذير حكومات مجموعة الدول العشرين من مساوئ الحماية، يتخذ غالبية دول عالمي الشمال والجنوب إجراءات لزيادتها، حيث أظهرت الدراسات، أن الهند تأتي في الصدارة من ناحية عدد هذه الإجراءات، تليها الولايات المتحدة الأمريكية.

ووفقاً لصندوق النقد الدولي، حقق الاقتصاد الهندي نمواً بلغ ٧,٩ ٪ عام ٢٠١٦ ، وهو أعلى معدل نمو في الاقتصادات العالمية المتقدمة والصاعدة، بفعل استفادة هذا الاقتصاد من تراجع أسعار السلع العالمية، إذ حقق مكاسب تجارية ضخمة، دفعت التضخم إلى التراجع أكثر مما هو متوقع، كما استفادت من بعض الإصلاحات المتعلقة بالأسواق وخصخصة الكثير من الشركات المملوكة للدولة والتشجيع على الاستثمار الأجنبي، بينما لا زالت تعاني من نسبة ديون مرتفعة تبلغ حوالي ٦٨,٨٩ ٪ من الناتج المحلي الإجمالي

المصدر: إيهاب النواب، Annabaa.org، ٢٠١٧/٠٥/٠٧ (بتصرف)

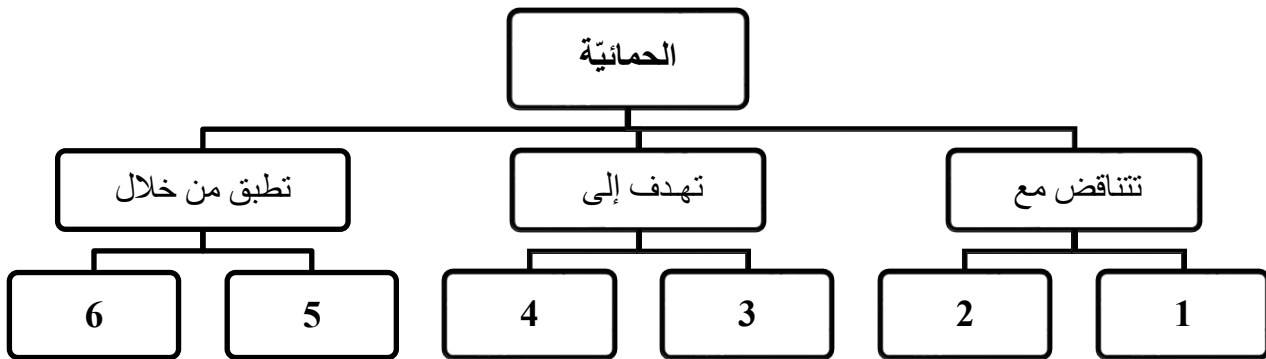
المستند رقم (٤)

سادساً: أجب على الأسئلة التالية معتمداً على المستند رقم (٤).

١. اعتماداً على المستند رقم (٤)، أكمل الرسم الهيكلي التالي مستعيناً بالعبارات التالية: (علامة ونصف)

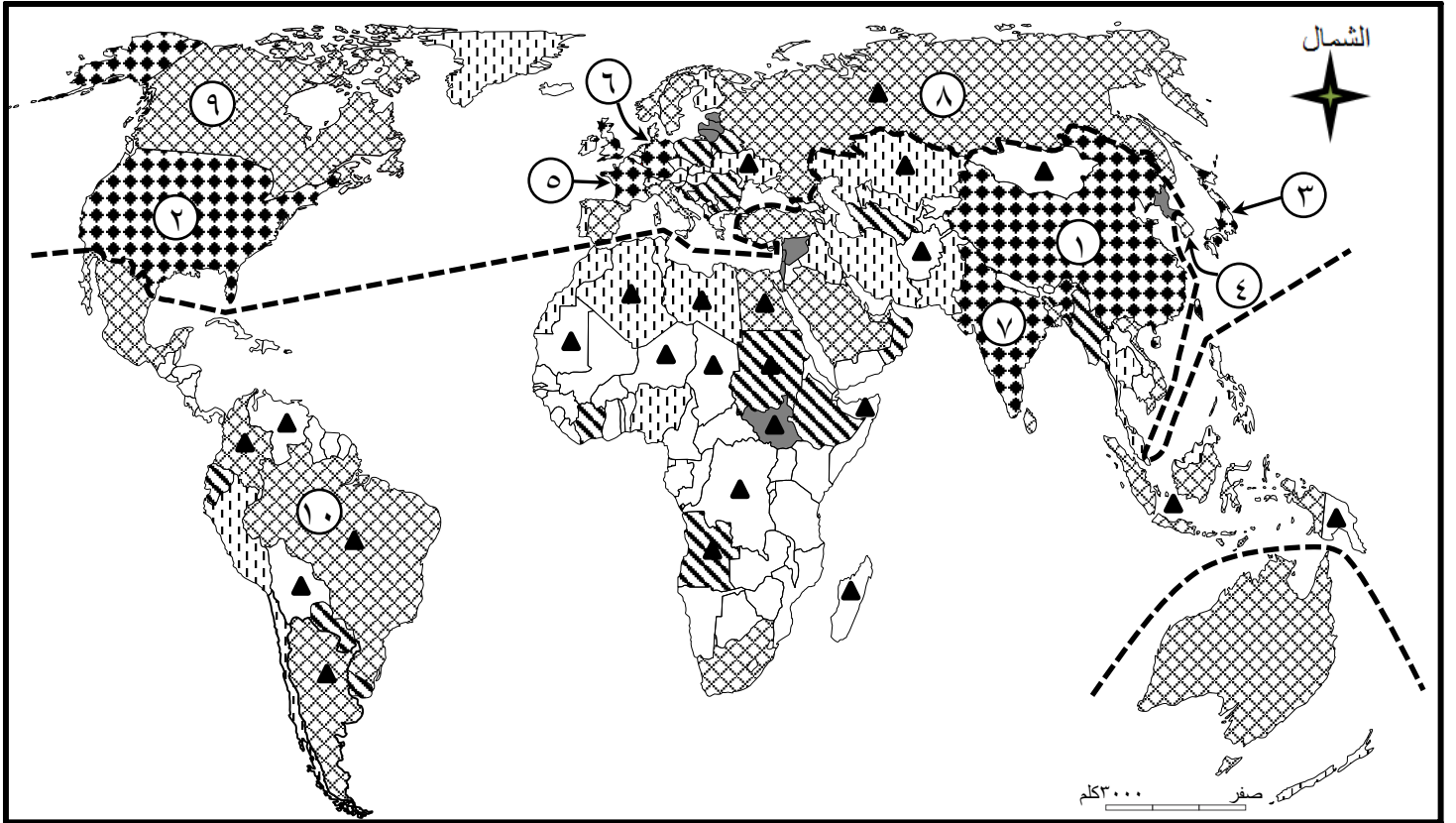
حماية السوق الداخلية - زيادة الرسوم الجمركية - التشجيع على استهلاك المنتجات المحلية -

العولمة - التجارة الحرة - منع الأجانب من الإستيلاء على الأسواق المحلية والشركات الوطنية.

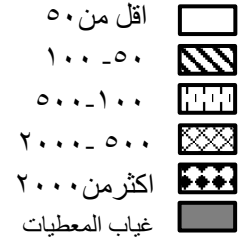


٢. يشير المستند رقم (٤)، إلى ارتفاع نسبة النمو الاقتصادي الهندي.

أوضح اثنين من المقومات الطبيعية المتوفرة للقطاع الزراعي في الهند. (علامة واحدة)



الناتج القومي (مليار دولار)



الترتيب بحسب براءات الاختراع

١٠

مؤشر الفساد مرتفع

▲

الحد الفاصل بين عالمي الشمال والجنوب



المصدر: التّحديث الإحصائي، أدلة التّمية البشريّة ومؤشّراتها، ٢٠١٨

المُسْتند رقم (١ - أ)

الدّولة	الترتيب بحسب براءات الاختراع
الصّين	١
الولايات المتّحدة الأميركيّة	٢
اليابان	٣
كوريا الجنوبيّة	٤
فرنسا	٥
ألمانيا	٦
الهند	٧
روسيا الإتحاديّة	٨
كندا	٩
البرازيل	١٠

المُسْتند رقم (١ - ب)

الدولة	الولايات المتحدة	ألمانيا	كوريا الجنوبية	روسيا الاتحادية	كولومبيا	العراق	مصر	الهند
النمو الطبيعي للسكان (بالألف)	٤	٢-	٢	صفر	١٢	٢٨	٢٣	١٤
نسبة السكان الذين يعيشون دون مستوى خط الفقر (%)	١٥	١٦,٧	١٢,٥	١٣,٣	٢٧,٨	٢٣	٢٥,٢	٢١,٩
العمر المتوقع عند الولادة (سنة)	٧٨,٥	٨٠,٥	٨٢,٥	٧١,٥	٧٥,٥	٦٩	٧١,٥	٦٨,٥
نسبة الذين يعرفون القراءة والكتابة (بين ١٥ و ٢٤ سنة) (%)	١٠٠	١٠٠	٩٩	٩٩,٥	٩٩	٨١,٥	٩٣	٨٩
نصيب الفرد من الناتج المحلي الاجمالي (دولار أميركي)	٥٧٦٣٨	٤٢١٦١	٢٧٥٣٩	٨٧٤٨	٥٨٠٦	٤٦١٠	٣٤٧٨	١٧١٠
حصّة الصناعة من الناتج المحلي الاجمالي (%)	٢٠,٥	٣٠,٥	٣٨,٦	٣٢,٤	٣٢,٦	٣٧,٣	٣٢,٩	٢٨,٨
عدد السكان (مليون نسمة)	٣٢٩	٨١	٥١	١٤٣	٤٩	٤٠	٩٥	١٣٥٨

المصدر: Images économiques du monde 2019

المُسْتَنْد رقم (٢)

وردت في بعض تقارير خبراء ومُستشاري المؤسسات المالية الدولية بعض التساؤلات عن نموذج التنمية وعن مفاهيم «الأمن الوقائي» ضدّ الأزمات في بعض البلدان التي طبقت أوامر صندوق النقد الدولي بحذافيرها، وقد ارتفعت فيها نسبة الفقر والبطالة والظلم، لأنّ نمط التنمية الذي يدعو إليه كلّ من البنك الدولي وصندوق النقد الدولي، لا يُفيد سوى الأثرياء بفعل عمليّات الخصخصة والحوافز من المال العام وزيادة الضرائب والإستفادة من الإنفاق الحكومي على البنى التحتيّة، دون خلق وظائف جديدة، بل تسريح من كانوا يعملون.

أمّا على الصعيد العالمي، فقد ارتفعت الفوارق وتعمّقت الهوة الطبقيّة بين الأثرياء والفقراء، من جرّاء التقسيم الدولي للعمل، بين البلدان الغنيّة والبلدان الفقيرة، حيث احتكرت بلدان الشمال رأس المال والصناعات والتقنيّات والقوّة العسكريّة والأسواق، لتستغلّ شركاتها الخامات والموادّ الأوليّة، وبالأخصّ النفط والغاز الطبيعيّ قبل نفاذهما، فتحوّلها إلى إنتاج صناعيّ ذا قيمة إضافيّة قبل بيعه بأسعار مرتفعة إلى بلدان الجنوب، وبالمقابل يعاني سكّان البلدان الفقيرة من تدهور الوضع الصحيّ والتعليمي والخدماتي.

المصدر: تقرير التنمية البشريّة، ٢٠١٦ (بتصرّف)

المُسْتَنْد رقم (٣)

لم تنجح محاولات مجموعة الدول العشرين في محاربة "الحمايية" التجارية التي تفرضها بعض دول العالم حيث يبدو أن هذه السياسة أصبحت النزعة الجديدة للاقتصاد العالمي.

أكبر الدلائل على ذلك هو «البريكست» (خروج بريطانيا من الإتحاد الأوروبي)، وازدياد شعبية الأحزاب اليمينية المتطرفة التي تؤمن بهذه السياسة، التي تطبق من خلال إجراءات عدّة، مثل زيادة الرسوم الجمركية على السلع المستوردة وتحديد كمياتها، ومنع الأجانب من "الإستيلاء" على الأسواق المحلية والشركات الوطنية، فالحمايية تهاض العولمة وتتناقض مع حرية التجارة، إذ تهدف هذه الأخيرة إلى حماية الأسواق الداخلية من المنافسة الخارجية، والتشجيع على استهلاك المنتجات المحلية. وعلى الرغم من تحذير حكومات مجموعة الدول العشرين من مساوئ الحمايية، يتخذ غالبية دول عالمي الشمال والجنوب إجراءات لزيادتها، حيث أظهرت الدراسات، أن الهند تأتي في الصدارة من ناحية عدد هذه الإجراءات، تليها الولايات المتحدة الأمريكية.

ووفقاً لصندوق النقد الدولي، حقق الاقتصاد الهندي نمواً بلغ ٧,٩ ٪ عام ٢٠١٦ ، وهو أعلى معدل نمو في الاقتصادات العالمية المتقدمة والصاعدة، بفعل استنفادة هذا الاقتصاد من تراجع أسعار السلع العالمية، إذ حقق مكاسب تجارية ضخمة، دفعت التضخم إلى التراجع أكثر مما هو متوقع، كما استفادت من بعض الإصلاحات المتعلقة بالأسواق وخصخصة الكثير من الشركات المملوكة للدولة والتشجيع على الاستثمار الأجنبي، بينما لا زالت تعاني من نسبة ديون مرتفعة تبلغ حوالي ٦٨,٨٩ ٪ من الناتج المحلي الإجمالي.

المصدر: إيهاب النواب، Annabaa.org، ٢٠١٧/٠٥/٠٧ (بتصرف)

المستند رقم (٤)

من خلال المُستندات رقم (١، ٢، ٣، ٤)، ومَعْلوماتِك المُكتسبة عالج الموضوع الجغرافي الآتي:

في الوقت الذي تُمارس فيه العديد من دُول العالم، وعلى رأسها الولايات المُتحدة الأميركيَّة ازِدواجيَّة تجاريَّة «الحمايَّة، التَّجارة الحرة»، التي انعكست سلِّبًا على المُبادلات التَّجاريَّة العالميَّة، تَمَكَّنَت بعضُ دُول عالم الجنوب كَالهند من تحقيق نُموٍّ اقتصاديًّا بارزًا.

أوضح:

- الفقرة الأولى:

- العوامل التي ساهمت في تحوُّل التَّجارة الدُّوليَّة إلى العالميَّة
- الأسباب التي تدفع بعض دُول عالم الشَّمال وعلى رأسها الولايات المُتحدة الأميركيَّة إلى اعتماد الحمايَّة التَّجاريَّة.

- الفقرة الثَّانية:

- السِّياسات الإقتصاديَّة التي اعتمَدتها الهند لِتطوير قطاعاتها الإنتاجيَّة.

- الفقرة الثَّالثة:

- مَظاهر التَّفاوُت الإقتصادي بين دُول عالمي الشَّمال والجنوب.
- مَظاهر التَّفاوُت الاجتماعي بين دُول عالمي الشَّمال والجنوب.
- مَسؤوليَّة دُول عالم الشَّمال في إعاقَة عمليَّة التَّنميَّة في دُول عالم الجنوب.