

تتألف هذه المسابقة من أربعة تمارين، موزعة على خمس صفحات. يسمح باستعمال الآلة حاسبة غير مبرمجة.

## مسابقة في مادة الفيزياء

المدة: ساعة واحدة

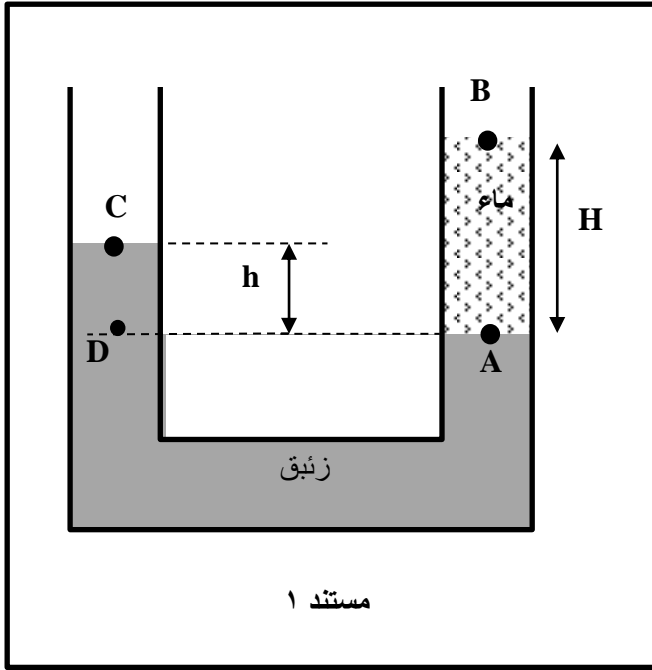
(عربي)

الاسم: .....

الرقم: .....

اعتمدنا انبوبا بشكل U، بمقطع موحد S، يحتوي على زيتيق. صببنا في أحد فرعيه، كمية ماء حجمها  $V = 80 \text{ cm}^3$  (الماء والزيتيق لا يمتزجان).

عند الاتزان، يكون ارتفاع الماء  $H = 40 \text{ cm}$  ويكون ارتفاع الزيتيق فوق سطح فصل السوائل  $h$  (المستند ١).



معطيات:

- $g = 10 \text{ N/kg}$  ؛
- الضغط الجوي في بيروت:
- $P_0 = 102000 \text{ Pa}$  ؛
- الكتلة الحجمية (كثافة) للماء:
- $\rho_{\text{ماء}} = 1000 \text{ kg/m}^3$  ؛
- الكتلة الحجمية (كثافة) للزيتيق:
- $\rho_{\text{Hg}} = 13600 \text{ kg/m}^3$  .

اختر، مبرراً، الاجابة الصحيحة:

١. اذا كان  $P_C$  يساوي الضغط الجوّي، الضغط  $P_C$  عند C هو:
- أ- أكبر من الضغط عند B      ب- يساوي الضغط عند B.      ج- أقل من الضغط عند B.

٢. اذا كان الحجم يساوي المساحة ضرب الارتفاع، قيمة S هي:

- أ-  $3200 \text{ cm}^2$       ب-  $0.5 \text{ cm}^2$       ج-  $2 \text{ cm}^2$

٣. الضغط الكامل  $P_A$  عند A هو:

- أ-  $502000 \text{ Pa}$       ب-  $4000 \text{ Pa}$       ج-  $106000 \text{ Pa}$

٤. اذا كان  $P_D - P_C = 4000 \text{ Pa}$ ، قيمة h تساوي تقريبا :

- أ-  $0.029 \text{ m}$       ب-  $0.136 \text{ m}$       ج-  $0.29 \text{ m}$

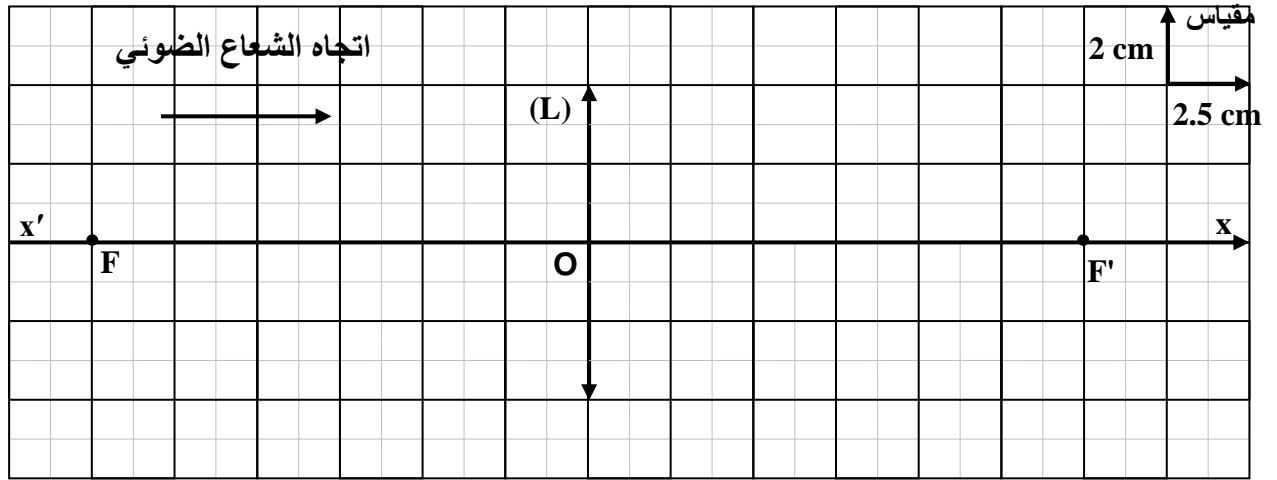
٥. أعدنا اجراء نفس التجربة على جبل الباروك، حيث الضغط الجوي أقل من  $P_0$ . قيمة h :

- أ- تبقى هي نفسها      ب- تزداد      ج- تنقص

موضع صورة وهمية معطاة بعدسة مقربة

التمرين ٢ (٦ علامات)

يظهر المستند ٢ عدسة مقربة (L) ، مركزها البصري O ، محورها البصري x'x ، وبؤرتها الشبئية F وبؤرتها الصورية F' . وُضع جسم مضيء (AB) طوله  $AB = 2 \text{ cm}$  عمودياً مع المحور البصري بالنقطة A وعلى مسافة  $d_1$  من (L) . هي صورة (AB) المعطاة بـ (L) ، موجودة على مسافة  $d_2$  من (L) .



مستند ٢

١. بيّن ان المسافة البؤرية لـ (L) ، مستعملاً المقياس، هي  $f = 15 \text{ cm}$  .

٢. يعطي الجدول التالي، بعض قيم لـ  $d_1$  ، التي تتناسب مع قيم  $d_2$  .

$d_1$ (cm)	2,5	5	7,5	10
$d_2$ (cm)	3	7,5	x	30

٢-١. استناداً الى الجدول، كيف تتغير  $d_2$  عندما تزداد  $d_1$  ؟

٢-٢. اختر x ، من خلال القيم التالية:

40 cm	15 cm	5 cm
-------	-------	------

٣. أعد رسم المستند ٢، على الورقة الملليمترية وبنفس المقياس.

٤. الجسم (AB) موجود على مسافة  $7.5 \text{ cm}$  من (L) .

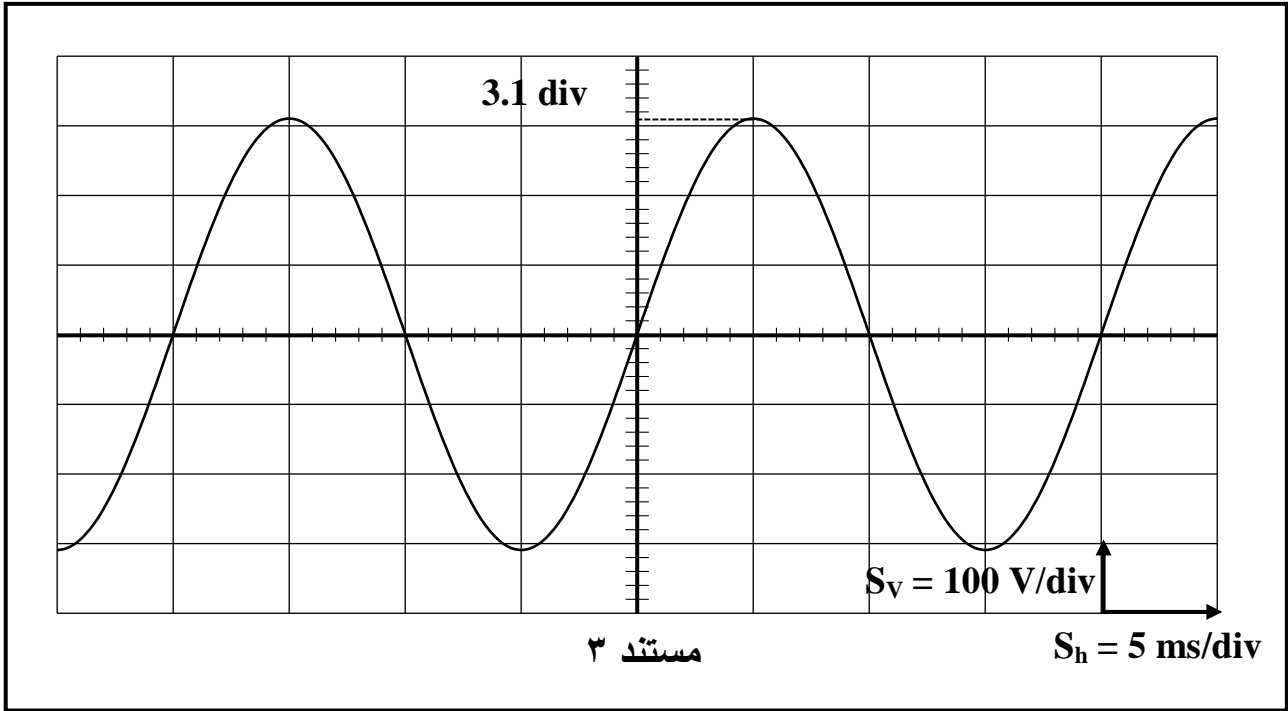
٤-١. ارسم (AB) على الرسم السابق آخذا بعين الاعتبار المقياس المعطى.

٤-٢. أنشئ رسماً، بدون تفسير، الصورة (A'B') .

٤-٣. تحقق، معتمداً على الرسم، من قيمة x .

التمرين ٣ (٤ علامات) مميزات التوتر الكهربائي المنزلي

يمثل المنحنى المتذبذب للمستند ٣، تغيرات التوتر (u) لمأخذ كهرباء لبنان كدالة زمنية.



١. اعتماداً على المستند ٣ :

١-١. حدد نوعية التوتر (u) .

١-٢. برهن أن القيمة العظمى  $U_m$  لـ (u) تعادل 310V .

١-٣. برهن أن الزمن الدوري T يساوي 20 ms .

٢. استنتج:

٢-١. أن القيمة الفعالة U لـ (u) تساوي تقريباً 220 V. خذ:  $\sqrt{2} = 1.41$  .

٢-٢. قيمة تردد التوتر f لـ (u) .

٣. نقرأ على صفائح المدونات لجهازين كهربائين، المؤشرات التالية:

الجهاز A
110 V ; 60 Hz ; AC ~

الجهاز B
220 V ; 50 Hz ; AC ~

معتمداً على السؤال ٢، اختر، مبرراً، الجهاز الكهربائي الذي يستطيع ان يعمل بشكل طبيعي عندما تغذيه بالتوتر (u) .

## التمرين ٤ (٥ علامات) تشغيل مصباح بشكل طبيعي

يحمل مصباح (L)، المؤشرات (12 V; 6 W) وهو يشبه بناقل أومي ذو مقاومة  $r$ .

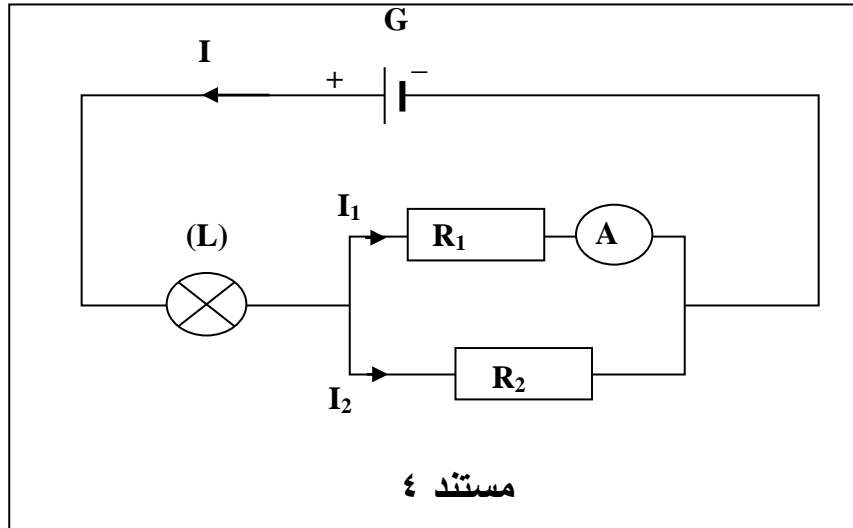
١. برهن ان شدة التيار الذي يسري بـ (L) عندما يعمل بشكل طبيعي هو  $I_0 = 0.5 \text{ A}$ .

٢. برهن ان مقاومة  $r$  للمصباح هي  $24 \Omega$ .

٣. وُضع المصباح (L) في دارة كهربائية كما يبين المستند ٤.

الناقلان الأوميان ( $R_1$ ) و ( $R_2$ ) عندهما على التوالي مقاومتان  $R_1 = 10 \Omega$  و  $R_2 = 20 \Omega$ .

يشير الأميتر (A)، مقاومته مهملة، الى  $0.1 \text{ A}$  ( $I_1 = 0.1 \text{ A}$ ).



١-٣. احسب، مطبقاً قانون أوم، قيمة التوتر  $U_1$  على طرفي ( $R_1$ ).

٢-٣. أ. برّر ان قيمة التوتر  $U_2$  على طرفي ( $R_2$ ) تساوي قيمة التوتر  $U_1$  على طرفي ( $R_1$ ).

ب. استنتج، مطبقاً قانون أوم، أنّ شدة التيار  $I_2$  يساوي  $0.05 \text{ A}$ .

٣-٣. برهن أنّ شدة التيار  $I$  الذي يمر بـ (L) يساوي  $0.15 \text{ A}$ .

٤-٣. برّر أنّ (L) لا يعمل بشكل طبيعي في هذه الدارة.