

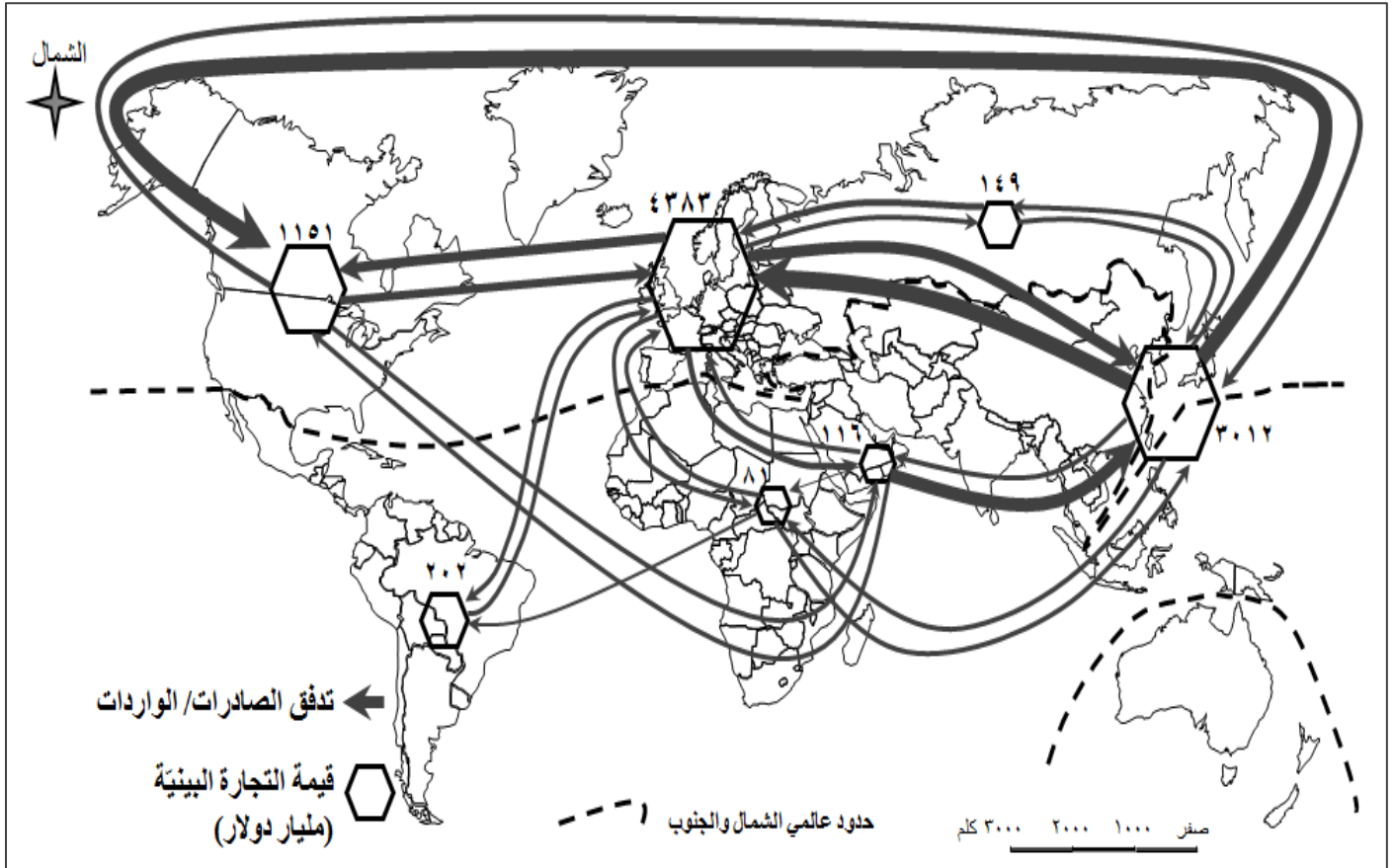
مسابقة اختيارية بين معالجة موضوع جغرافي وتحليل مستندات

مسابقة في مادة الجغرافيا

المدة: ساعتان

الاسم:

الرقم:



المصدر : منظمة التجارة العالمية – إحصاء ٢٠١٣

المستند رقم (١)

الأسئلة:

(ربع علامة)
(نصف علامة)

أولاً: أ- حدّد طبيعة المستند رقم (١)
ب- حدّد موضوع المستند رقم (١).

(علامتان)

ثانياً: من خلال المستند رقم (١)، اختر الإجابة الصحيحة:

<p>٢- واقع الميزان التجاري لآسيا الشرقية مع أميركا الشمالية: أ- راجح. ب- خاسر. ج- متوازن.</p>	<p>١- الأقطاب الاقتصادية الأساسية في المبادلات التجارية العالمية: أ- أميركا الشمالية، آسيا، أوروبا الغربية. ب- الاتحاد الأوروبي، الولايات المتحدة الأميركية، جنوبي شرقي آسيا. ج- أميركا الشمالية، آسيا الشرقية، الاتحاد الأوروبي.</p>
<p>٤- التكتل الاقتصادي الذي يتميز بارتفاع قيمة التجارة البيئية فيما بين دوله: أ- آسيان. ب- الإتحاد الأوروبي. ج- الناftا.</p>	<p>٣- قيمة التجارة البيئية لدول أميركا الجنوبية تبلغ: أ- ١١٦ مليار دولار. ب- ٢٠٢ مليار دولار. ج- ١٤٩ مليار دولار.</p>

(نصف علامة)

ثالثاً:

(علامة واحدة)

أ- من خلال المستند رقم (١) إستنتج مكانة عالم الشمال في المبادلات التجارية العالمية.
ب- يشير المستند رقم (١) الى محدودية المبادلات التجارية البيئية في دول عالم الجنوب، أوضّح سببين أدبا الى ذلك.

عدد السكان (مليون)	نسبة صادرات المواد الاولية الزراعية من الصادرات العالمية (%)	نسبة صادرات التكنولوجيا المتقدمة من صادرات السلع المصنعة (%)	قيمة الاستثمارات الاجنبية الوافدة (مليون دولار)	نسبة الانفاق على البحث العلمي من الناتج المحلي (%)	نسبة النمو الاقتصادي (%)	نصيب الفرد من الناتج المحلي الإجمالي بالدولار	المؤشر الدولة
٣٢١	٢	١٩	٥٥٨٧٩٦٩	٢,٧٣	٢,٦	٥٦١١٥	الولايات المتحدة الاميركية
١٢٧	١	١٧	١٧٠٦٩٨	٣,٤٧	١,٢	٣٤٥٢٣	اليابان
٨١	١	١٧	١١٢١٢٨٢	٢,٨٣	١,٧	٤١١٧٨	المانيا
١٣٧١	صفر	٢٦	١٢٢٠٩٠٣	٢,٠٥	٦,٩	٨٠٦٩	الصين
١٣١١	٢	٨	٢٨٢٢٧٢	٠,٩	٧,٩	١٥٩٣	الهند
٢٥٧	٥	٧	٢٢٤٨٤٣	٠,٠٨	٤,٨	٣٣٤٦	اندونيسيا
٢٠٧	٥	١٢	٤٨٥٩٩٨	٠,٩	٣,٨	٨٦٧٧	البرازيل
١٦	٢	١	١٤٧٣٨	٠,٠١	٣,١	١١٥٨	كمبوديا
٥٠٩	١	١٧	٥٥٤٨٧٦٠	٢,٠٣	٢,٢	٣٢٠١٧	الاتحاد الاوروبي
٦٢١	٦	٢٢	١١٩٩٠٠٠	غير متوفر	٤,٥	٣٦٠٠	آسيان

المصدر: البنك الدولي ٢٠١٥

المستند رقم (٢)

(ربع علامة)

رابعاً: حدّد طبيعة المستند رقم (٢).

(علامة واحدة)

خامساً: من خلال المستند رقم (٢)، أشطب الدخيل.

- أ- المؤشران الاقتصاديان المرتبطان بقياس مستوى التقدّم الاقتصادي للدول: نصيب الفرد من الناتج المحلي الإجمالي- نسبة النمو الاقتصادي- عدد السكان.
- ب- الدولتان اللتان تستقطبان القيمة الأكبر من الاستثمارات الأجنبية الوافدة: الولايات المتحدة - الصين - إندونيسيا.

سادساً: من خلال المستند رقم (٢)، استنتج طبيعة العلاقة القائمة بين نسبة الإنفاق على البحث العلمي من الناتج المحلي ونسبة صادرات التكنولوجيا المتقدمة من صادرات السلع المصنعة، مبرراً إجابتك بالدليل المناسب. (علامة واحدة)

منذ مدة طويلة والهند تتقدم بثبات نحو العالم الحديث، وهي تشغل موقعًا نادرًا تحسد عليه في المسرح العالمي. فالهند تتميز بنظام ديمقراطي رائد في العالم. إنها موطن ثاني أكبر مجموعة من السكان الذين يتكلمون الإنكليزية، كما تتباهى باقتصاد متنوع وسريع النمو. وعلى الساحة الجيوسياسية، هناك الكثير من الساعين لكسب وُدّ الهند؛ فالصين واليابان والولايات المتحدة الأميركية، يسعون لدمج الهند في خطتهم الأمنية لآسيا، بينما يوجّه كلٌّ من الاتحاد الأوروبي، وروسيا إشارات الغزل إلى نيودلهي، لتوقيع اتفاقيات تجارية ودفاعية مربحة.

شقت الهند طريقها ببراعة بين هذه القوى المتنافسة، حيث حقق الاقتصاد الهندي نموًا نسبته ٧,٩٪ خلال الربع الأول من عام ٢٠١٦، مرتكزًا على التطور الزراعي، الذي أدى بدوره إلى ارتفاع كبير في صادرات الغذاء، كما أن التحسينات التي شهدتها القطاع الصحي من تطور في الخدمات والرعاية الطبية قد أدت إلى تنوع ديمغرافي كبير، مع توقعات بأن تصبح الهند قريبًا صاحبة أكبر قوة عاملة في العالم وأكثرها شبابًا. وتمكنت الهند في السنوات الأخيرة من استقطاب عدد كبير من الشركات العالمية التي تنتمي إلى مختلف القطاعات والصناعات بدءًا من الإنتاج الدوائي، وصولًا إلى صناعات التعدين وتكنولوجيا الفضاء، وهي تتمتع حاليًا باستقرار مالي واقتصادي إلى حد كبير مقارنة بأوائل التسعينات، إضافة إلى اندماجها الناجح في الاقتصاد العالمي ببعض الصناعات الأكثر تقدمًا مثل صناعة البرمجيات، كما يبلغ احتياط الهند من النقد الاجنبي نحو ٤٠٠ مليار دولار.

تعمل الهند لتحقيق طموحاتها بالوصول في نسبة صادراتها إلى ١٪ من إجمالي الصادرات العالمية واستقطاب المزيد من الاستثمارات الأجنبية، وتحقيق معدل نمو سنوي بنسبة ٩٪ خلال السنوات العشرة المقبلة.... ولتحقيق ذلك تحتاج الهند إلى تحسين أكبر في : معدلات التنمية البشرية، تسريع الخصخصة، الاستقرار السياسي، وإلى معالجة كلٍّ من التلوث المتسارع للهواء، وتصاعد النزاع حول كشمير مع باكستان الذي يهدد بوضع قوتين نوويتين شديديتي العداء بعضهما لبعض على شفا الحرب.

المستند رقم (٣) المصدر: شذى خليل، مركز الروابط للبحوث والدراسات الاستراتيجية، ١٤-أذار - ٢٠١٧ (بتصرف)


سابعًا: من خلال المستندات رقم (٣)، أكمل الجمل التالية بما يناسبها:

(نصف علامة)

أ- دولة من عالم الجنوب تتنافس معظم دول عالم الشمال على كسب ودّها تجاريًا وعسكريًا.....

ب- عائقًا بينيًا يحدّ من انطلاقة النمر الهندي.....

الدول العشر الاولى بإنتاج وإستهلاك النفط (مليون برميل يومياً)



ثامناً: من خلال المستند رقم (٤ - أ):

- أ- صنّف الدول التالية (السعودية، كندا، الصين، البرازيل) ما بين مصدرة ومستوردة للنفط. (علامة واحدة)
- ب- أكمل الجملة التالية: الدولة الأميركية الأكثر إستيراداً للنفط هي..... (نصف علامة)

تاسعاً: يشير المستند رقم (٤ - أ) إلى بعض الدول المنتجة والمستهلكة للنفط، أوضّح:

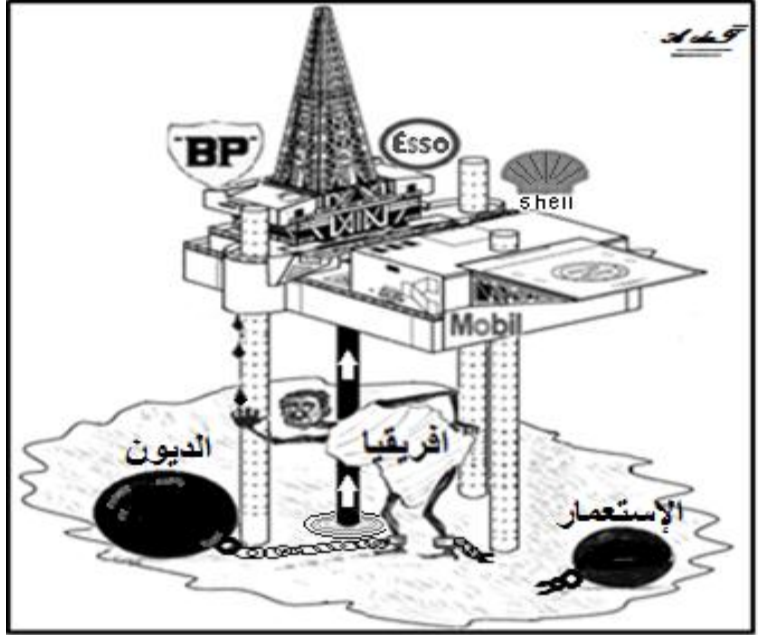
- أ- أهميتين اقتصاديتين للنفط بالنسبة لدول عالم الشمال المستهلكة، وأهمية اجتماعية بالنسبة للدول المنتجة. (علامة ونصف)
- ب- انعكاساً واحداً للنمو الذي تحقّقه القوى الاقتصادية في العالم على تطور سعر النفط عالمياً. (نصف علامة)

المصدر: تقرير بريتش بترول يوم- ٢٤ حزيران، ٢٠١٥

المستند رقم (٤-أ)

عاشراً:

- أ- استنتج من خلال المستند رقم (٤ - ب) سبباً يدفع بالشركات متعدّدة الجنسيات للاستثمار في بعض دول عالم الجنوب. (نصف علامة)
- ب- اوضح انعكاسين ايجابيين لانتقال بعض فروع الشركات متعدّدة الجنسيات إلى دول عالم الجنوب. (علامة واحدة)



المستند رقم (٤-ب)

عندما تريد أن تكتب عن اليابان لا تعرف من أين تبدأ! من الدولة التي تفتقر إلى الموارد الطبيعية وتعاني مشكلات متعددة من حيث المناخ والجغرافيا، ورغم هذه الظروف غير الملائمة أصبحت قوةً تكنولوجية عالمية، أو من الإنسان الياباني الذي سخر كل قوته حتى تكون دولته من الدول الصناعية الكبرى وقطباً اقتصادياً عالمياً، ما جعل كل دول العالم تتسابق لربط العلاقات التجارية بها، ولإرسال بعثات من شبابها للدراسة في مجال التكنولوجيا فيها.

شعب اليابان عامة شعب يعتمد الصدق وحب إنجاز العمل في كل تعاملاته، إذ تشكل الفئة النشيطة فيه ٦٨ ٪ من إجمالي السكان، وتتجلى قوة العنصر البشري الياباني في مستواه التعليمي، حيث أن ٩٩ ٪ من اليابانيين متعلمون ومجهزون بمختلف وسائل الاتصال الحديثة، إضافة إلى اهتمام الدولة بالتكوين والبحث العلمي والعمل على تشجيع الإدخار، واستثماره في قطاعي الصناعة والتربية.

واليابان هي الدولة التي فرضت عليها الولايات المتحدة الأميركية التنحي جانباً عن الشأن الدولي بعد الحرب العالمية الثانية، والابتعاد عن صناعة الأسلحة، أمنت لنفسها مركزاً مهماً في مجموعة العلاقات الدفاعية الإقليمية، وطورت قدرتها على العمل مع القوى الأخرى بشكل مميز. فهي ثالث قوة اقتصادية في العالم، والأميز في شبكات التجارة والإنتاج العالمية، وتحتل المرتبة الأولى في المجال التكنولوجي والصناعي. إذ وصلت في مجال الإلكترونيات والإنسان الآلي "الروبوت" إلى درجة يندهش لها حتى العالم الغربي، كما مارست بدهاء نفوذها المالي على دول مثل ميانمار وسريلانكا في إطار سعيها لمواجهة الدبلوماسية المالية للصين.

عموماً، في عام ٢٠١٦ أثبتت اليابان أنها قوة عظمى في حد ذاتها.

المصدر: دار الشروق- سما يوسف ١٤-٤-٢٠١٧ (بتصرف)

المستند رقم (٥)

(علامة واحدة)

إحدى عشرة:

أكمل الجملة التالية:

- أ- دولة تشكل القوى العاملة فيها ٦٨ ٪ من عدد سكانها وتواجه تحديات طبيعية عديدة
- ب- تواجه دولة اليابان تحديات طبيعية عديدة أبرزها

(علامة واحدة)

اثنى عشرة: أشطب الدّخيل:

- أ- اليابان دولة فرضت نفسها كقوة عظمى بالعالم بفعل: سياسة الحكومة اليابانية- سياسة الولايات المتحدة الأميركية- إمكانيات الشعب الياباني الهائلة.
- ب- تبرز قوة اليابان على الساحة العالمية: في المجال التكنولوجي-المجال الصناعي- المجال الزراعي.

ثلاثة عشرة: في ظلّ ظاهرة العولمة، استمرّ عالم الجنوب يعاني مشاكل عديدة بالرغم من النهضة الاقتصادية التي حققتها بعض دوله والتي تتعرض منتجاتها لإجراءات عديدة ومتنوعة من القوى الاقتصادية الكبرى في الأسواق العالمية.

انطلاقاً من المستندين رقم (٣) ورقم (٤) - ب)

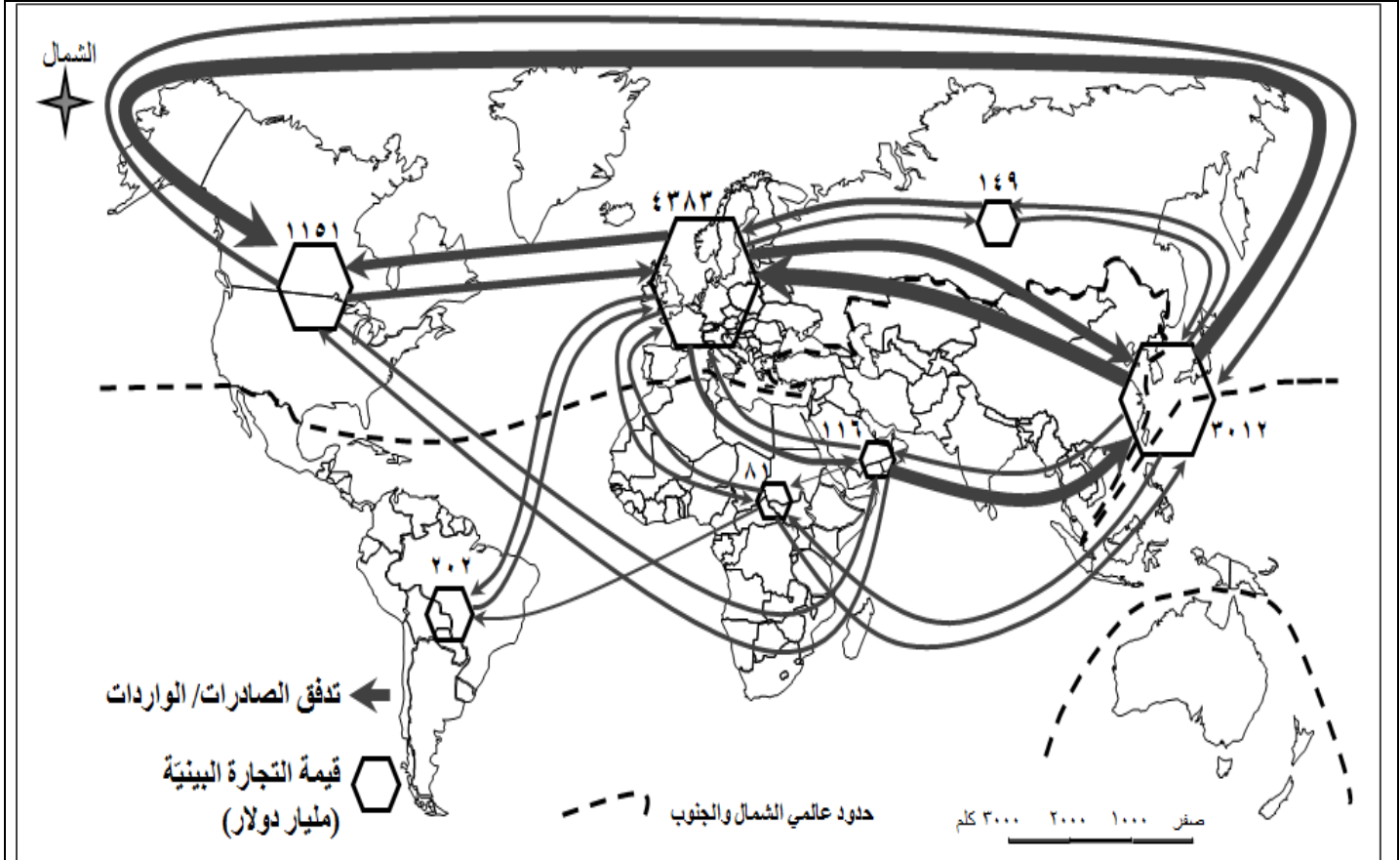
والمصطلحات التالية: " الفساد الاداري - الديون- الثورة الخضراء - التأميم"

ومعلوماتك المكتسبة

عالج المسألة الواردة أعلاه موضّحاً:

- عائقًا (سياسيًا – إداريًا)، وآخر ماليًا يحدان من عملية التنمية في بعض دول عالم الجنوب.
- سياسة واحدة اعتمدها الحكومة الهندية لتحقيق التنمية في المجال الزراعي
- سياسة واحدة اعتمدها الحكومة الهندية لتحقيق التنمية في المجال الصناعي.
- إجراءين عمليين يمكن لدول عالم الجنوب اعتمادهما لتتمكن من تصريف فائض منتجاتها المصنعة. (ست علامات)

□ معالجة الموضوع :



المصدر : منظمة التجارة العالمية – إحصاء

المستند رقم (1)

عدد السكان (مليون)	نسبة صادرات المواد الاولية الزراعية من الصادرات العالمية (%)	نسبة صادرات التكنولوجيا المتقدمة من صادرات السلع المصنعة (%)	قيمة الاستثمارات الاجنبية الوافدة (مليون دولار)	نسبة الانفاق على البحث العلمي من الناتج المحلي (%)	نسبة النمو الاقتصادي (%)	نصيب الفرد من الناتج المحلي الإجمالي بالدولار	المؤشر الدولة
321	2	19	5587969	2,73	2,6	56115	الولايات المتحدة الاميركية
127	1	17	170698	3,47	1,2	34523	اليابان
81	1	17	1121282	2,83	1,7	41178	المانيا
1371	صفر	26	1220903	2,05	6,9	8069	الصين
1311	2	8	282272	0,9	7,9	1593	الهند

٢٥٧	٥	٧	٢٢٤٨٤٣	٠,٠٨	٤,٨	٣٣٤٦	اندونيسيا
٢٠٧	٥	١٢	٤٨٥٩٩٨	٠,٩	٣,٨	٨٦٧٧	البرازيل
١٦	٢	١	١٤٧٣٨	٠,٠١	٣,١	١١٥٨	كمبوديا
٥٠٩	١	١٧	٥٥٤٨٧٦٠	٢,٠٣	٢,٢	٣٢٠١٧	الاتحاد الاوروبي
٦٢١	٦	٢٢	١١٩٩٠٠٠	غير متوفر	٤,٥	٣٦٠٠	آسيان

المستند رقم (٢)

المصدر: البنك الدولي ٢٠١٥

منذ مدة طويلة والهند تتقدم بثبات نحو العالم الحديث، وهي تشغل موقعًا نادرًا تحسد عليه في المسرح العالمي. فالهند تتميز بنظام ديمقراطي رائد في العالم. إنها موطن ثاني أكبر مجموعة من السكان الذين يتكلمون الإنكليزية، كما تتباهى باقتصاد متنوع وسريع النمو. وعلى الساحة الجيوسياسية، هناك الكثير من الساعين لكسب وُدّ الهند؛ فالصين واليابان والولايات المتحدة الأميركية، يسعون لدمج الهند في خطتهم الأمنية لآسيا، بينما يوجّه كلٌّ من الاتحاد الأوروبي، وروسيا إشارات الغزل إلى نيودلهي، لتوقيع اتفاقيات تجارية ودفاعية مربحة.

شكّفت الهند طريقها ببراعة بين هذه القوى المتنافسة، حيث حقق الاقتصاد الهندي نموًا نسبيته ٧,٩٪ خلال الربع الأول من عام ٢٠١٦، مرتكزًا على التطور الزراعي، الذي أدى بدوره الى ارتفاع كبير في صادرات الغذاء، كما أن التحسينات التي شهدها القطاع الصحي من تطور في الخدمات والرعاية الطبية قد أدت الى تنوع ديمغرافي كبير، مع توقعات بأن تصبح الهند قريبًا صاحبة أكبر قوة عاملة في العالم وأكثرها شبابًا. وتمكنت الهند في السنوات الأخيرة من استقطاب عدد كبير من الشركات العالمية التي تنتمي الى مختلف القطاعات والصناعات بدءًا من الإنتاج الدوائي، وصولًا الى صناعات التعدين وتكنولوجيا الفضاء، وهي تتمتع حاليًا باستقرار مالي واقتصادي إلى حد كبير مقارنة بأوائل التسعينات، إضافة الى اندماجها الناجح في الاقتصاد العالمي ببعض الصناعات الأكثر تقدمًا مثل صناعة البرمجيات، كما يبلغ احتياط الهند من النقد الاجنبي نحو ٤٠٠ مليار دولار.


تعمل الهند لتحقيق طموحاتها بالوصول في نسبة صادراتها إلى ١٪ من إجمالي الصادرات العالمية واستقطاب المزيد من الاستثمارات الأجنبية، وتحقيق معدل نمو سنوي بنسبة ٩٪ خلال السنوات العشرة المقبلة....

ولتحقيق ذلك تحتاج الهند إلى تحسين أكبر في : معدلات التنمية البشرية، تسريع الخصخصة، الاستقرار السياسي، وإلى معالجة كلٍّ من التلوث المتسارع للهواء، وتصاعد النزاع حول كشمير مع باكستان الذي يهدّد بوضع قوتين نوويتين شديديتي العداة بعضهما لبعض على شفا الحرب.

المستند رقم (٣) المصدر: شذى خليل، مركز الروابط للبحوث والدراسات الاستراتيجية، ١٤-أذار - ٢٠١٧ (بتصرف)



المستند رقم (٤-ب)



المستند رقم (٤-أ)

المصدر: تقرير بريتش بتروليوم- ٢٤ حزيران، ٢٠١٥

عندما تريد أن تكتب عن اليابان لا تعرف من أين تبدأ! من الدولة التي تفتقر إلى الموارد الطبيعية وتعاني مشكلات متعددة من حيث المناخ والجغرافيا، ورغم هذه الظروف غير الملائمة أصبحت قوة تكنولوجية عالمية، أو من الإنسان الياباني الذي سخر كل قوته حتى تكون دولته من الدول الصناعية الكبرى وقطباً اقتصادياً عالمياً، ما جعل كل دول العالم تتسابق لربط العلاقات التجارية بها، وإرسال بعثات من شبابها للدراسة في مجال التكنولوجيا فيها.

شعب اليابان عامة شعب يعتمد الصدق وحب إنجاز العمل في كل تعاملاته، إذ تشكل الفئة النشيطة فيه ٦٨٪ من إجمالي السكان، وتتجلى قوة العنصر البشري الياباني في مستواه التعليمي، حيث أن ٩٩٪ من اليابانيين متعلمون ومجهزون بمختلف وسائل الاتصال الحديثة، إضافة إلى اهتمام الدولة بالتكوين والبحث العلمي والعمل على تشجيع الإخار، واستثماره في قطاعي الصناعة والتربية.

واليابان هي الدولة التي فرضت عليها الولايات المتحدة الأمريكية التنحي جانباً عن الشأن الدولي بعد الحرب العالمية الثانية، والابتعاد عن صناعة الأسلحة، أمنت لنفسها مركزاً مهماً في مجموعة العلاقات الدفاعية الإقليمية، وطورت قدرتها على العمل مع القوى الأخرى بشكل مميز. فهي ثالث قوة اقتصادية في العالم، والأميز في شبكات التجارة والإنتاج العالمية، وتحل المرتبة الأولى في المجال التكنولوجي والصناعي. إذ وصلت في مجال الإلكترونيات والإنسان الآلي "الروبوت" إلى درجة يندعش لها حتى العالم الغربي، كما مارست بدهاء نفوذها المالي على دول مثل ميانمار وسريلانكا في إطار سعيها لمواجهة الدبلوماسية المالية للصين.

عموماً، في عام ٢٠١٦ أثبتت اليابان أنها قوة عظمى في حد ذاتها.

المصدر: دار الشروق- سما يوسف ٤-١٤-٢٠١٧ (بتصرف)

المستند رقم (٥)

□ معالجة موضوع جغرافي

من خلال المستندات رقم ١-٢-٣-٤ (أ و ب) - ٥ ومعلوماتك المكتسبة عالج الموضوع الجغرافي الآتي:

يشهد العالم اليوم في ظل العولمة، تدفقات كثيفة بين عالمي الشمال والجنوب، تنتوع ما بين الأفراد والرساميل والسلع والخدمات؛ وتطوراً اقتصادياً ملحوظاً تحققه بعض دول آسيا الشرقية والجنوبية، يرى فيه البعض بوادر تحوّل في بنية المجال الاقتصادي العالمي القائم. **أوضح:**

- العوامل التي أدت الى تحوّل التجارة الدولية نحو العالمية، ومكانة كل من عالمي الشمال والجنوب في هذه التجارة.
- الحاجات الاقتصادية المتبادلة بين عالمي الشمال والجنوب، ومظاهر العلاقة الاقتصادية غير المتكافئة القائمة بين هذين العالمين.
- سياسات الحكومة اليابانية لتأكيد مكانتها الاقتصادية على الساحة العالمية، ومظاهر القوة الاقتصادية لكل من الهند وآسيان والتي تسمح لهما بإمكانية منافسة القوى الاقتصادية الكبرى.