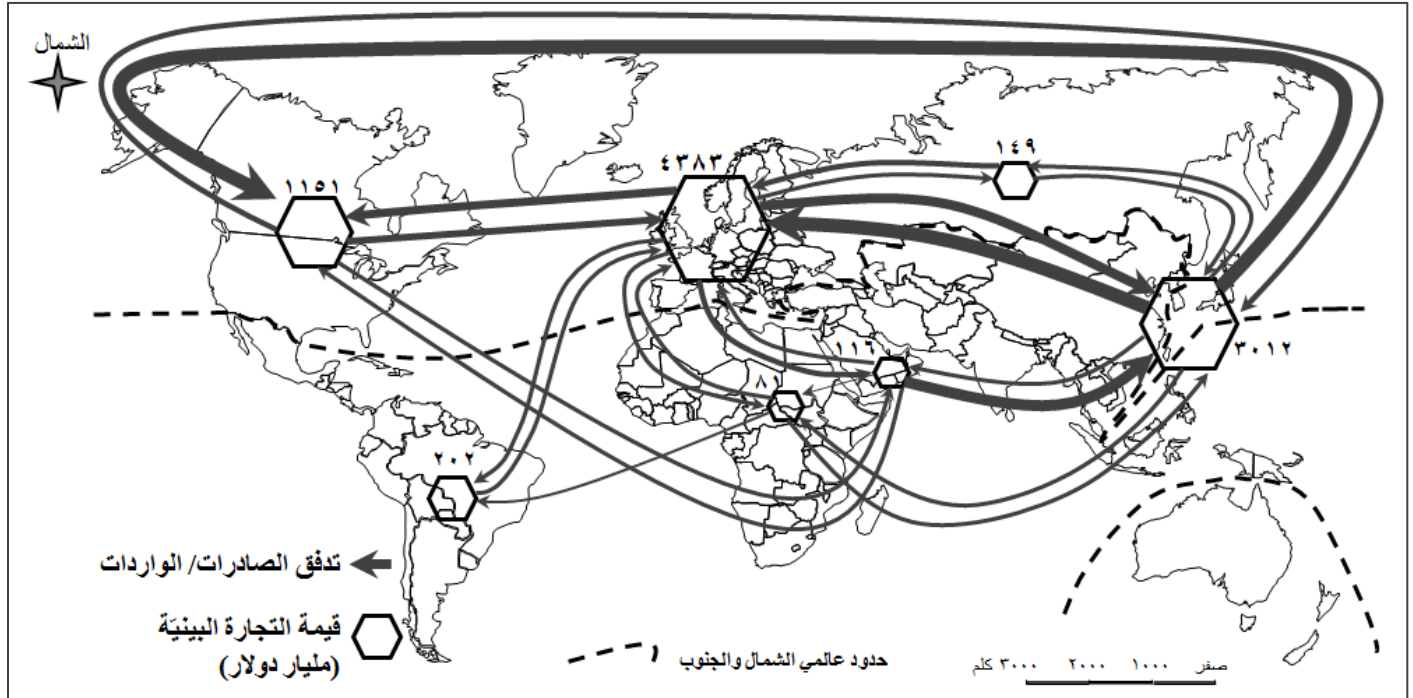


الاسم: مسابقة في مادة الجغرافيا
الرقم: المدة: ساعتان

مسابقة اختيارية بين معالجة موضوع جغرافي وتحليل مستندات:



المصدر: منظمة التجارة العالمية ٢٠١٣

المستند رقم (١)

عدد السكان (مليون)	نسبة صادرات المواد الأولية الزراعية من الصادرات العالمية (%)	نسبة صادرات التكنولوجيا المتقدمة من صادرات السلع المصنعة (%)	قيمة الاستثمارات الاجنبية الوافدة (مليون دولار)	نسبة الانفاق على البحث العلمي من الناتج المحلي (%)	نسبة النمو الاقتصادي (%)	نصيب الفرد من الناتج المحلي الإجمالي (دولار)	المؤشر	الدولة
٣٢١	٢	١٩	٥٥٨٧٩٦٩	٢,٧٣	٢,٦	٥٦١١٥		الولايات المتحدة الاميركية
١٢٧	١	١٧	١٧٠٦٩٨	٣,٤٧	١,٢	٣٤٥٢٣		اليابان
٨١	١	١٧	١١٢١٢٨٢	٢,٨٣	١,٧	٤١١٧٨		المانيا
١٣٧١	صفر	٢٦	١٢٢٠٩٠٣	٢,٠٥	٦,٩	٨٠٦٩		الصين
١٣١١	٢	٨	٢٨٢٢٧٢	٠,٩	٧,٩	١٥٩٣		الهند
٢٥٧	٥	٧	٢٢٤٨٤٣	٠,٠٨	٤,٨	٣٣٤٦		اندونيسيا
٢٠٧	٥	١٢	٤٨٥٩٩٨	٠,٩	٣,٨	٨٦٧٧		البرازيل
١٦	٢	١	١٤٧٣٨	٠,٠١	٣,١	١١٥٨		كمبوديا
٥٠٩	١	١٧	٥٥٤٨٧٦٠	٢,٠٣	٢,٢	٣٢٠١٧		الاتحاد الاوربي
٦٢١	٦	٢٢	١١٩٩٠٠٠	غير متوفر	٤,٥	٣٦٠٠		آسيان

المصدر: البنك الدولي ٢٠١٥

المستند رقم (٢)


منذ مدة طويلة والهند تتقدم بثبات نحو العالم الحديث، وهي تشغل موقعًا نادرًا تحسد عليه في المسرح العالمي. فالهند تتميز بنظام ديمقراطي رائد في العالم. إنها موطن ثاني أكبر مجموعة من السكان الذين يتكلمون الإنكليزية، كما تتباهى باقتصاد متنوع وسريع النمو. وعلى الساحة الجيوسياسية، هناك الكثير من الساعين لكسب وُدّ الهند؛ فالصين واليابان والولايات المتحدة الأميركية، يسعون لدمج الهند في خطتهم الأمنية لآسيا، بينما يوجّه كلٌّ من الاتحاد الأوروبي، وروسيا إشارات الغزل إلى نيودلهي، لتوقيع اتفاقيات تجارية ودفاعية مربحة.

شقت الهند طريقها ببراعة بين هذه القوى المتنافسة، حيث حقق الاقتصاد الهندي نموًا نسبته ٧,٩٪ خلال الربع الأول من عام ٢٠١٦، مرتكزًا على التطور الزراعي، الذي أدى بدوره الى ارتفاع كبير في صادرات الغذاء، كما أن التحسينات التي شهدتها القطاع الصحي من تطور في الخدمات والرعاية الطبية قد أدت الى تنوع ديمغرافي كبير، مع توقعات بأن تصبح الهند قريبًا صاحبة أكبر قوة عاملة في العالم وأكثرها شبابًا. وتمكنت الهند في السنوات الأخيرة من استقطاب عدد كبير من الشركات العالمية التي تنتمي الى مختلف القطاعات والصناعات بدءًا من الإنتاج الدوائي، وصولًا الى صناعات التعدين وتكنولوجيا الفضاء، وهي تتمتع حاليًا باستقرار مالي واقتصادي إلى حد كبير مقارنة بأوائل التسعينات، إضافة الى اندماجها الناجح في الاقتصاد العالمي ببعض الصناعات الأكثر تقدمًا مثل صناعة البرمجيات، كما يبلغ احتياط الهند من النقد الاجنبي نحو ٤٠٠ مليار دولار.


تعمل الهند لتحقيق طموحاتها بالوصول في نسبة صادراتها إلى ١٪ من إجمالي الصادرات العالمية واستقطاب المزيد من الاستثمارات الأجنبية، وتحقيق معدل نمو سنوي بنسبة ٩٪ خلال السنوات العشرة المقبلة....

ولتحقيق ذلك تحتاج الهند إلى تحسين أكبر في : معدلات التنمية البشرية، تسريع الخصخصة، الاستقرار السياسي، وإلى معالجة كل من التلوث المتسارع للهواء، وتصاعد النزاع حول كشمير مع باكستان الذي يهدد بوضع قوتين نوويتين شديدي العدا بعضهما لبعض على شفا الحرب.

المستند رقم (٣) المصدر: مركز الروابط للبحوث والدراسات الاستراتيجية- شذى خليل، ٢٠١٧ - ٣-١٤ (بتصرف)



المستند رقم (٤-ب)



المستند رقم (٤-أ) المصدر: تقرير بريتش بتروليوم- ٢٤ حزيران ٢٠١٦

عندما تريد أن تكتب عن اليابان لا تعرف من أين تبدأ! من الدولة التي تفتقر إلى الموارد الطبيعية وتعاني مشكلات متعددة من حيث المناخ والجغرافيا، ورغم هذه الظروف غير الملائمة أصبحت قوة تكنولوجية عالمية، أو من الإنسان الياباني الذي سخر كل قوته حتى تكون دولته من الدول الصناعية الكبرى وقطبًا اقتصاديًا عالميًا، ما جعل كل دول العالم تتسابق لربط العلاقات التجارية بها، وإرسال بعثات من شبابها للدراسة في مجال التكنولوجيا فيها.

شعب اليابان عامة شعب يعتمد الصدق وحب إنجاز العمل في كل تعاملاته، إذ تشكل الفئة النشيطة فيه ٦٨٪ من إجمالي السكان، وتتجلى قوة العنصر البشري الياباني في مستواه التعليمي، حيث أن ٩٩٪ من اليابانيين متعلمون ومجهزون بمختلف وسائل الاتصال الحديثة، إضافة إلى اهتمام الدولة بالتكوين والبحث العلمي والعمل على تشجيع الإدخار، واستثماره في قطاعي الصناعة والتربية.

واليابان هي الدولة التي فرضت عليها الولايات المتحدة الأميركية التنحي جانبًا عن الشأن الدولي بعد الحرب العالمية الثانية، والابتعاد عن صناعة الأسلحة، أمّنت لنفسها مركزًا مهمًا في مجموعة العلاقات الدفاعية الإقليمية، وطورت قدرتها على العمل مع القوى الأخرى بشكل مميز. فهي ثالث قوة اقتصادية في العالم، والأميز في شبكات التجارة والإنتاج العالمية، وتحل المرتبة الأولى في المجال التكنولوجي والصناعي. إذ وصلت في مجال الإلكترونيات والإنسان الآلي "الروبوت" إلى درجة يندش لها حتى العالم الغربي، كما مارست بدهاء نفوذها المالي على دول مثل ميانمار وسريلانكا في إطار سعيها لمواجهة الدبلوماسية المالية للصين.

عمومًا، في عام ٢٠١٦ أثبتت اليابان أنها قوة عظمى في حد ذاتها.

المصدر: دار الشروق- سما يوسف ٢٠١٧-٤-١٤ (بتصرف)

المستند رقم (٥)

من خلال المستندات رقم ١-٢-٣-٤ (أ و ب) - ٥ ومعلوماتك المكتسبة عالج الموضوع الجغرافي الآتي:
يشهد العالم اليوم في ظل العولمة، تدفقات كثيفة بين عالمي الشمال والجنوب، تنتوع ما بين الأفراد والرساميل والسلع والخدمات؛ وتطورًا اقتصاديًا ملحوظًا تحققه بعض دول آسيا الشرقية والجنوبية، يرى فيه البعض بوادر تحوّل في بنية المجال الاقتصادي العالمي القائم. أوضح:

- العوامل التي أدت الى تحوّل التجارة الدولية نحو العالمية، ومكانة كل من عالمي الشمال والجنوب في هذه التجارة.
- الحاجات الاقتصادية المتبادلة بين عالمي الشمال والجنوب، ومظاهر العلاقة الاقتصادية غير المتكافئة القائمة بين هذين العالمين.
- سياسات الحكومة اليابانية لتأكيد مكانتها الاقتصادية على الساحة العالمية، ومظاهر القوة الاقتصادية لكل من الهند وآسيان والتي تسمح لهما بإمكانية منافسة القوى الاقتصادية الكبرى.

□ تحليل مستندات

الأسئلة:

أولاً: حدّد طبيعة كلّ من المستنديين رقم (١) ورقم (٤- ب) وموضوع المستند رقم (١).

(علامة واحدة)

ثانياً: من خلال المستنديين رقم (١) ورقم (٤)، اختر الإجابة الصحيحة:

(علامتان)

<p>٢- واقع الميزان التجاري لآسيا الشرقية مع أميركا الشمالية: أ- راجح. ب- خاسر. ج- متوازن.</p>	<p>١- الأقطاب الاقتصادية الأساسية في المبادلات التجارية العالمية: أ- أميركا الشمالية، آسيا ، أوروبا الغربية. ب- الاتحاد الأوروبي، الولايات المتحدة الأمريكية ، جنوبي شرقي آسيا. ج- أميركا الشمالية، آسيا الشرقية، الاتحاد الأوروبي.</p>
<p>٤- مظهرًا اقتصاديًا وآخر تكنولوجياً يبرزان قوة اليابان على الساحة العالمية: أ- قطبًا سياسيًا وقدرات علمية هائلة. ب- القطب الثالث اقتصاديًا والاول في المجال التكنولوجي. ج- طاقة بشرية ضعيفة واستثمارات تكنولوجية هائلة.</p>	<p>٣- قيمة التجارة البينية لدول اميركا الجنوبية تبلغ: أ- ١١٦ مليار دولار. ب- ٢٠٢ مليار دولار. ج- ١٤٩ مليار دولار.</p>

ثالثاً: من خلال المستندات رقم (١) ورقم (٣) ورقم (٤- أ) ورقم (٥)، أكمل الجمل التالية بما يناسبها:

(علامتان)

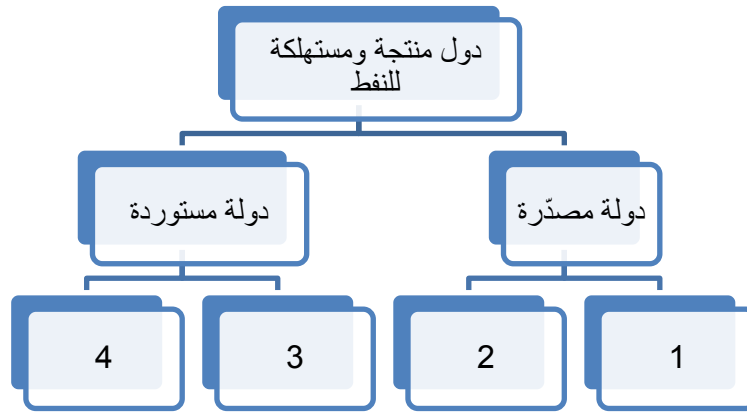
- ١- التكتل الاقتصادي الذي يتميز بارتفاع قيمة التجارة البينية فيما بين دوله
- ٢- دولة تشكل القوى العاملة فيها ٦٨ ٪ من عدد سكانها وتواجه تحديات طبيعية عديدة
- ٣- دولة من عالم الجنوب تتنافس معظم دول عالم الشمال على كسب ودّها تجاريًا وعسكريًا
- ٤- الدولة الأميركية الأكثر استيرادًا للنفط هي

رابعاً: من خلال المستندات رقم (٢) ورقم (٣) ورقم (٥) اشطب الدخيل:

(علامتان)

- ١- المؤشران الاقتصاديان المرتبطان بقياس مستوى التقدّم الاقتصادي للدول: نصيب الفرد من الناتج المحلي الإجمالي- نسبة النمو الاقتصادي- عدد السكان.
- ٢- اليابان دولة فرضت نفسها كقوة عظمى بالعالم بفعل: سياسة الحكومة اليابانية- سياسة الولايات المتحدة الأميركية- إمكانيات الشعب الياباني الهائلة.
- ٣- عائقان يحذّان من انطلاقة النمر الهندي: الحروب والنزاعات - تلوث الهواء- النظام الديمقراطي.
- ٤- الدولتان اللتان تستقطبان القيمة الأكبر من الاستثمارات الأجنبية الوافدة: الولايات المتحدة الأميركية - الصين - إندونيسيا.

خامساً: من خلال المستند رقم (٤ - أ)، صنّف الدول التالية (البرازيل، كندا، الصين، السعودية) ما بين مصدرة ومستوردة للنفط. (علامة واحدة)



سادساً: من خلال المستند رقم (٢)، استنتج طبيعة العلاقة القائمة بين نسبة الإنفاق على البحث العلمي من الناتج المحلي ونسبة صادرات التكنولوجيا المتقدمة من صادرات السلع المصنعة، مبرراً إجابتك بالدليل المناسب. (علامة واحدة)

سابعاً: أ- من خلال المستند رقم (١)، استنتج مكانة عالم الشمال في المبادلات التجارية العالمية.
ب- يشير المستند رقم (١) الى محدودية المبادلات التجارية البيئية في دول عالم الجنوب، أوضح سببين أدت الى ذلك. (علامة واحدة)

ثامناً: أ- استنتج من خلال المستند رقم (٤ - ب)، سبباً يدفع بالشركات متعددة الجنسيات للاستثمار في بعض دول عالم الجنوب.
ب- أوضح انعكاسين إيجابيين لانتقال بعض فروع الشركات متعددة الجنسيات إلى دول عالم الجنوب. (علامة واحدة)

تاسعاً: يشير المستند رقم (٤ - أ) إلى بعض الدول المنتجة والمستهلكة للنفط، أوضح:
أ- أهميتين اقتصاديتين للنفط بالنسبة لدول عالم الشمال المستهلكة، وأهمية اجتماعية بالنسبة للدول المنتجة.
ب- انعكاساً واحداً للنمو الذي تحققه القوى الاقتصادية في العالم على تطور سعر النفط عالمياً. (علامة ونصف) (علامة ونصف)

عاشراً: في ظلّ ظاهرة العولمة، استمرّ عالم الجنوب يعاني مشاكل عديدة بالرغم من النهضة الاقتصادية التي حققتها بعض دوله والتي تتعرض منتجاتها لإجراءات عديدة ومتنوعة من القوى الاقتصادية الكبرى في الأسواق العالمية.
انطلاقاً من المستند رقم (٣) ورقم (٤- ب) والمصطلحات التالية: " الفساد الاداري - الديون- الثورة الخضراء - التأميم" ومعلوماتك المكتسبة عالج المسألة الواردة أعلاه موضحاً:

- عائقاً (سياسياً - إدارياً)، وآخر مالياً يحدّان من عملية التنمية في بعض دول عالم الجنوب.
 - سياسة واحدة اعتمدها الحكومة الهندية لتحقيق التنمية في المجال الزراعي وأخرى في المجال الصناعي.
 - إجراءات عمليين يُمكن لدول عالم الجنوب اعتمادهما لتتمكن من تصريف فائض منتجاتها المصنعة.
- (ست علامات)

العلامة	التصحيح	جزء السؤال
	معالجة الموضوع الجغرافي	
٢	مقدمة الموضوع تحديد وتوضيح المصطلحات والمفاهيم الأساسية: العولمة/ المجال الاقتصادي العالمي- عالم الشمال - عالم الجنوب- آسيا الشرقية والجنوبية - القوى الاقتصادية الكبرى - آسيان - المبادلات التجارية العالمية - التجارة الدولية- الهند - اليابان . ٥ علامتان لأربعة مفاهيم ومصطلحات واضحة، ١/٢ علامة لكل منها.	م-١ أ
٢	أفكار الإشكالية وارتباطها بالموضوع إشكالية مقترحة: - ما الظروف التي جعلت من التجارة الدولية تجارة عالمية وهيأت لها فرص النمو والازدهار ؟ - هل يمكن لكل من عالمي الشمال والجنوب الاستغناء عن الآخر؟ وما هي أشكال العلاقة الاقتصادية الغير متكافئة القائمة بينهما؟ - كيف تمكن اليابانيون من وضع اقتصادهم في مرتبة عالمية متقدمة؟ وهل ستستمر الاقطاب الثلاث بالهيمنة على الاقتصاد العالمي أم ستواجه منافسة من قبل قوى صاعدة من عالم الجنوب ؟ ٥ الإشكالية المقترحة للدلالة فقط، تقبل أي إشكالية أخرى مناسبة. ٥ علامتان للإشكالية: علامة لأفكارها المرتبطة بالموضوع، وعلامة لأسلوب صياغتها.	م-١ ب
٠,٢٥	توسيع الموضوع (الفقرة الأولى) عنوان مقترح: العولمة رافعة التجارة / العولمة محرك التجارة العالمية / التجارة الدولية الى أين في ظل العولمة . ٥ ١/٤ علامة للعنوان المناسب. (العنوان المقترح للدلالة فقط، يُقبل أي عنوان آخر مناسب)	م-٢ أ
٠,٢٥	الفكرة الرئيسية: عوامل عديدة ساهمت في تحوّل التجارة نحو العالمية من دول الجنوب. ٥ ١/٤ علامة للفكرة الرئيسية. (الفكرة الرئيسية المقترحة هي للدلالة فقط، تقبل أي فكرة رئيسية أخرى مناسبة)	م-٢ ب
٢	الأفكار الثانوية: عوامل تحوّل التجارة نحو العالمية : - ثورة الاتصالات والمواصلات ودورها في تسريع المبادلات وزيادة كمياتها- الشركات متعددة الجنسيات وفروعها المنتشرة في العديد من الدول والسياسات التي اعتمدها في مجال تعزيز المبادلات وتسهيلها- اتفاقيات الغات التي أدت الى تخفيض الرسوم الجمركية أو إلغاؤها على معظم السلع المتبادلة بين العديد من دول العالم وأدت هذه الإجراءات الضريبية بدورها الى تنشيط المبادلات التجارية - قيام منظمة التجارة العالمية وسياساتها الهادفة إلى تحرير المبادلات التجارية (تخفيض أو إلغاء الرسوم الجمركية ، إزالة جميع العوائق التي تحد من التبادل العالم ، إلغاء مبدأ الدولة المفضلة في التأمّل التجاري ...) - ظهور قوى اقتصادية جديدة (الصين، البرازيل ،) (م٢) و الهند (م٣) الامر الذي أدى الى تزايد الانتاج الصناعي العالمي وبالتالي زيادة المبادلات التجارية - تزايد عدد سكان العالم وزيادة الطلب على السلع - تمدن الريف وتحوّل المجتمع العالمي بأكثرية إلى مجتمع استهلاكي - ارتفاع مستوى معيشة السكان ، وبالتالي ارتفاع قدراتهم الشرائية، ولاسيما في الدول المتقدمة (م٢) والدول النفطية الى زيادة الطلب على المنتجات الأساسية والكمالية ، الأمر الذي أدى الى تعزيز حركتي الصادرات والواردات - التطور التكنولوجي الذي أسهم بزيادة الإنتاج الصناعي والزراعي(م٢)- ثورة الإعلام والإعلان ودورها في الترويج للسلع- انتشار نمط الاستهلاك الغربي (الأميركي) في معظم مناطق العالم... مكانة الشمال : تحتل دول عالم الشمال مكانة مهمة على الساحة العالمية بينما معظم دول عالم الجنوب دورها ضعيف ومهمش وبخاصة دول القارة الافريقية في هذا المجال باستثناء دول آسيا الشرقية (م١) . ٥ علامتان لثماني أفكار واضحة، ١/٤ علامة لكل منها.	م-٢ ج
٠,٢٥	توسيع الموضوع (الفقرة الثانية) عنوان مقترح: الشمال والجنوب حاجات متبادلة / هيمنة بارزة وتبعية واضحة . ٥ ١/٤ علامة للعنوان المناسب. (العنوان المقترح للدلالة فقط، يُقبل أي عنوان آخر مناسب)	م-٣ أ
٠,٢٥	الفكرة الرئيسية: عناصر اقتصادية متنوعة يحتاج اليها كل من العالمين ومظاهر العلاقة القائمة بينهما . ٥ ١/٤ علامة للفكرة الرئيسية. (الفكرة الرئيسية المقترحة للدلالة فقط، تُقبل أي فكرة رئيسية أخرى مناسبة)	م-٣ ب
٢	الأفكار الثانوية - حاجة الشمال من الجنوب: حاجته إلى نفط الجنوب لعدم قدرة معظم دوله لتأمين اكتفائه الذاتي (م٤-أ)- حاجته إلى المواد الأولية التي ينتجها الجنوب- حاجته إلى اليد العاملة المدربة والرخيصة الأجر في بعض دول الجنوب- حاجته إلى أسواق الجنوب الاستهلاكية الواسعة بسبب ضخامة عدد السكان(م٢)-	م-٣ ج

	<p>- حاجة الجنوب من الشمال: حاجة الجنوب إلى مساعدات الشمال المتنوعة (العينية والفنية والمالية..)- حاجته إلى استثمارات شركات الشمال متعددة الجنسيات (م٢)- حاجته إلى أسواق الشمال الاستهلاكية الواسعة بسبب ارتفاع القدرة الشرائية لدى سكانه (م٢)- حاجته إلى التكنولوجيا المتقدمة التي يتميز بها الشمال (م٢) - حاجته إلى القروض وأموال الدين بشروط مناسبة. (م٤-ب) ..</p> <p>- مظاهر العلاقة الاقتصادية بينهما : تحكم دول الشمال بأسعار المواد الأولية التي يصدرها الجنوب من خلال تمركز أهم البورصات العالمية في عواصم الدول الكبرى-التحكم بشروط المبادلات التجارية (عدم التوازن بين أسعار المواد الأولية التي يصدرها الجنوب والمنتجات الصناعية التي يصدرها الشمال)-إستنثار عالم الشمال بمعظم وسائل النقل ، وتحكمها بغالبية المبادلات التجارية العالمية (م١) امتلاك دول الشمال للتكنولوجيا ذات التقنية العالية وحجبها عن دول الجنوب-سيطرة عالم الشمال على حركة الرساميل والتوظيفات المالية العالمية (م٢)- المديونية و الشروط المجحفة التي تفرضها المؤسسات المالية الدائنة (م٤-ب)- امتلاكها أهم مراكز الأبحاث العلمية.(م٥وم٢)- التقسيم الدولي للعمل الذي فرض على دول عالم الجنوب تصدير المواد الأولية ومصادر الطاقة بأسعار رخيصة وسمح لدول عالم الشمال بتصدير السلع المصنعة بأسعار مرتفعة.</p> <p>° علامتان لثماني أفكار متنوعة وواضحة، ١/٤ علامة لكل منها.</p>	
٠,٢٥	<p>توسيع الموضوع (الفقرة الثالثة) عنوان مقترح: التصميم والتخطيط سر النجاح والتفوق ° ١/٤ علامة للعنوان المناسب. (العنوان المقترح للدلالة فقط يُقبل أي عنوان آخر مناسب)</p>	م-٤-أ
٠,٢٥	<p>الفكرة الرئيسية: إجراءات عديدة كانت وراء التفوق الياباني ، ومناقشة قوية من قبل بعض القوى الإقليمية ° ١/٤ علامة للفكرة الرئيسية. (الفكرة الرئيسية المقترحة للدلالة فقط، تُقبل أي فكرة أخرى مناسبة)</p>	م-٤-ب
٢,٥	<p>° الأفكار الثانوية: سياسة الحكومة اليابانية : العمل المتواصل وإتقان التكنولوجيا(م٥)- السياسات الاستثمارية التي نفذتها الحكومات اليابانية - سياسة الادخار التي ينتهجها الإنسان الياباني وتشجيع الدولة على ذلك (م٥)-الإشراف الحكومي على الصناعة من خلال وزارة الصناعة والتجارة(مفاوضات تجارية، دراسة الأسواق، وضع السياسات المناسبة..)- إقامة البنى التحتية المتطورة..- إنشاء الدولة المراكز الصناعية والتقنية للأبحاث والتطوير إذ تنفق لهذا الغرض ٣,١ ٪ من ناتجها الداخلي الإجمالي (م٤وم٢) . - إعداد اليد العاملة الصناعية الخبيرة. حماية السوق الداخلية من المنتجات الأجنبية- ضخامة التوظيفات اليابانية في جنوبي شرقي آسيا للاستفادة من اليد العاملة الرخيصة - ممارسة الدولة بدهاء نفوذها المالي على دول مثل ميانمار وسريلانكا.(م٥)</p> <p>مكانة الهند : نمو الاقتصاد الهندي بمعدل ٧,٩ ٪ سنوياً (م٣) - ارتفاع كبير في صادرات الغذاء (٣) - استقطاب عدد كبير من الشركات العالمية التي تنتمي إلى مختلف القطاعات والصناعات بدءاً من الإنتاج الدوائي، ووصولاً إلى صناعات التعدين وتكنولوجيا الفضاء(م٣)- استقرار مالي واقتصادي إلى حد كبير (٣) -اندماجها الناجح في الاقتصاد العالمي ببعض الصناعات الأكثر تقدماً مثل صناعة البرمجيات (م٣) - احتياط الهند من النقد الأجنبي حوالي ٤٠٠ مليار دولار مليار (م٣). - نسبة صادراتها من التكنولوجيا المتقدمة ٨ ٪ من السلع المصنعة (م٢)- استثمارات خارجية تصل إلى حدود ٤٤,٠٠٩ \$(م٢)- دخولها مجال الفضاء (الأقمار الصناعية) والمجال النووي...</p> <p>مكانة آسيان: أصبح العديد من دولها (إندونيسيا، ماليزيا، الفلبين...) (م٢) في مصاف الدول المصنعة- احتلال هذه الرابطة مكانة أساسية في التبادل التجاري العالمي لاسيما مع القوى الاقتصادية الكبرى (اليابان، الولايات المتحدة الأمريكية، الاتحاد الأوروبي) مما أدى إلى ازدهار مرافئها ومناطقها الحرة (سنغافورة...)- استقطبت دول هذه الرابطة الكثير من الشركات متعددة الجنسيات- تحول بعض دولها من الإنتاج الصناعي التقليدي إلى الصناعات المتطورة (الميكانيكية والالكترونية...)- ارتفاع قيمة الناتج المحلي لمعظم دول هذه الرابطة وكذلك ارتفاع نصيب الفرد من هذا الناتج (م٢)- ارتفاع حجم التبادل في هذه المنطقة وتحقيق فائض في الميزان التجاري - أصبح بعض دولها مصدرًا للمنتجات الزراعية- يضم هذا التكتل واحدة من الدول الأساسية في أوبك (اندونيسيا-م٢) - إمكانات مالية كبيرة (بورصة سنغافورة)-</p> <p>° علامتان ونصف لعشرة أفكار متنوعة وواضحة، ١/٤ علامة لكل منها.</p>	م-٤-ج
٣	<p>استخلاص معلومات من المستندات المرفقة والربط بينها وبين أفكار الموضوع. ٣٥ علامات لست أفكار من المستندات، لكل منها ١/٢ علامة، شرط الإشارة الصريحة للمستند الذي وردت فيه.</p>	م-٥
١,٥	<p>تنظيم الموضوع: توافق مضمون الفقرات مع شطور الموضوع. ١,٥٠ ° علامة لمدى توافق مضمون الفقرات مع شطور الموضوع، لكل فقرة ١/٢ علامة.</p>	م-٦-أ
١,٥	<p>تنظيم الموضوع: توازن الفقرات. ١,٥٠ ° علامة لمدى التوازن، ١/٢ علامة لكل فقرة.</p>	م-٦-ب
٠,٥	<p>الخاتمة: الرد على الإشكالية. ° ١/٢ علامة.</p>	م-٧-أ
٠,٥	<p>الخاتمة: فتح الأفاق. ° ١/٢ علامة.</p>	م-٧-ب
١	<p>الشكل:- المصطلحات والمفاهيم: ١/٢ علامة- ترتيب المسابقة: ١/٤ علامة- إمكانية قراءة المسابقة: ١/٤ علامة</p>	م-٨

	تحليل المستندات	
١	<p>طبيعة المستند رقم (١): خريطة.</p> <p>طبيعة المستند رقم (٤-ب): رسم كاريكاتوري.</p> <p>موضوع المستند رقم (١): تدفقات/تيارات / حركية/ اتجاهات المبادلات التجارية العالمية.</p> <p>◦ علامة واحدة، ١/٤ علامة لطبيعة المستند و ١/٢ علامة للموضوع.</p>	أولاً
٢	<p>اختيار الإجابة الصحيحة. ١- ج، ٢- أ، ٣- ب، ٤- ب.</p> <p>◦ علامتان لأربع إجابات ١/٢/ علامة لكل منها.</p>	ثانياً
٢	<p>إكمال الجمل: ١- الاتحاد الأوروبي، ٢- اليابان، ٣- الهند، ٤- الولايات المتحدة الأمريكية .</p> <p>◦ علامتان لأربع إجابات ١/٢/ علامة لكل منها.</p>	ثالثاً
٢	<p>الدخيل: ١- عدد السكان ، ٢- سياسة الولايات المتحدة ، ٣- النظام الديمقراطي ، ٤- إندونيسيا.</p> <p>◦ علامتان لأربع إجابات ١/٢/ علامة لكل منها.</p>	رابعاً
١	<p>تصنيف الدول</p> <p>١- كندا، ٢- السعودية، ٣- البرازيل، ٤- الصين.</p> <p>◦ علامة واحدة للدول المصدرة والمستوردة، ١/٤ علامة لكل دولة.</p>	خامساً
١	<p>طبيعة العلاقة : علاقة توافقية.</p> <p>التبرير: كلما ارتفعت نسبة الانفاق على البحث العلمي كلما زادت نسبة صادرات السلع ذات التكنولوجيا المتقدمة، مثال اليابان: نسبة الإنفاق على البحث العلمي ٣,٤٧٪ و نسبة صادرات السلع ذات التكنولوجيا المتقدمة ١٧٪ او اي مثل آخر.</p> <p>◦ علامة واحدة للطبيعة والتبرير، ٢/١ علامة للطبيعة ١/٢ علامة للتبرير.</p>	سادساً
١,٥	<p>أ. مكانة عالم الشمال في المبادلات التجارية العالمية : مكانة مهمة معظم المبادلات التجارية تتم بين دول عالم الشمال</p> <p>◦ نصف علامة للمكانة</p> <p>ب. سببين لمحدودية المبادلات التجارية البينة بين دول عالم الجنوب: معظم إنتاج دول عالم الجنوب من المواد الأولية ومصادر الطاقة – تشابه الانتاج الزراعي والصناعي في معظم دول عالم الجنوب – قلة الانتاج الصناعي وتدني نوعيته وجودته – قلة الفائض المع للتصدير بسبب ضخامة الإستهلاك المحلي.</p> <p>◦ علامة واحدة لسببين، ٢/١ علامة لكل منهما.</p>	سابعاً
١,٥	<p>أ- سبباً يدفع بالشركات متعددة الجنسيات للاستثمار في بعض دول عالم الجنوب:</p> <p>- استقرار نسبي في الوضعين السياسي والاقتصادي- توفر البنى التحتية اللازمة لإقامة المشاريع الاقتصادية- وجود التشريعات المالية الملائمة... – تقديم الإغراءات الضريبية الملائمة...- وفرة المواد الأولية وتنوعها ورخص أسعارها...- وجود اليد العاملة الماهرة وقليلة الاجر</p> <p>◦ نصف علامة للسبب.</p> <p>ب- إنعكاسين إيجابيين لانتقال بعض فروع الشركات متعددة الجنسيات إلى دول عالم الجنوب:</p> <p>على دول عالم الجنوب: وصول التكنولوجيا المتطورة نسبياً لهذه الدول من خلال المشاريع التي تقيمها هذه الشركات- استثمار الموارد الطبيعية المعطلة في هذه الدول بالشكل الملائم...- تزايد انتاج هذه الدول وكذلك صادراتها- توفر المزيد من فرص العمل للقوة العاملة في هذه الدول- تزايد الواردات المالية لحكومات هذه الدول بفعل الرسوم والضرائب التي تدفعها هذه الشركات...</p> <p>على دول عالم الشمال:- تحويل الارباح المحققة اليها بفعل استثماراتها في دول عديدة وفي مجالات متنوعة – تامين الكثير من السلع لمواطني دول الشمال باسعار مناسبة نتيجة تخفيض كلفة انتاجها بفعل تصنيعها في دول تتوفر فيها عناصر الانتاج المناسبة – عززت من قوة عالم الشمال الاقتصادية في مختلف الميادين (تجارة، صناعة، زراعة، خدمات)...</p> <p>◦ علامة واحدة لإنعكاسين، ١/٢ علامة لكل انعكاس.</p>	ثامناً

<p>٢</p>	<p>أ- أهميتين اقتصاديتين للنفط بالنسبة لدول عالم الشمال المستهلكة: يوفر النفط لها الوقود الاساسي لوسائل المواصلات البرية والبحرية والجوية ولآلياتها العسكرية - يؤمن الطاقة المحركة الاساسية لمعاملها ومصانعها- يؤمن المادة الاولية للعديد من الصناعات وبخاصة الصناعات البتروكيمياوية - يؤمن فرص العمل لآلاف العمال وبخاصة في مصافي تكرير النفط ومصانع المشتقات النفطية - تحقيق الارباح الكبيرة وبخاصة للشركات الكبرى تأتي تنقب عن النفط وتستخرجه وتسوقه في العديد من الدول المنتجة وغير المنتجة - الارباح التي تحققها من جراء تصديرها للمشتقات النفطية الى كثير من دول العالم.</p> <p>- أهمية اجتماعية بالنسبة للدول المنتجة: ساهمت عائدات النفط في رفع مستويات المعيشة في الدول المنتجة - رفع مستوى الخدمات الاجتماعية المختلفة (تعليم - صحة - سكن - ...) - تأمين التعليم لمختلف أفراد المجتمع مما ساهم في رفع مستوياته وتراجع نسب الامية... ◦ علامة ونصف للإجابة الواضحة، علامة واحدة لأهميتين اقتصاديتين، ١/٢ علامة لكل منهما، و ١/٢ علامة للأهمية الاجتماعية.</p> <p>ب- تأثير نمو القوى الاقتصادية على سعر النفط العالمي: يؤدي النمو الاقتصادي في هذه القوى إلى تزايد الطلب العالمي على النفط (تلبية لحاجات الصناعة..)، الأمر الذي يؤدي إلى ارتفاع سعره عالمياً. ◦ نصف علامة للأثر.</p>	<p>تاسعاً</p>
<p>٦</p>	<p>- عائقاً (سياسياً - إدارياً)، وآخر مالياً يحذان من عملية التنمية في بعض دول عالم الجنوب: - تخلف الانظمة السياسية والإدارية حيث أن الفساد الإداري المستشري في معظم أجهزة الدولة (رشواي ، هدر للمال العام) وضعف فاعلية الجهاز القضائي كلها عوامل أوقعت البلاد في عجز مالي متفاقم وساهم في غياب الاستثمارات فغابت بالتالي الأموال المخصصة للتنمية - تواجه السياسات التنموية في دول عالم الجنوب عوائق كثيرة أبرزها على الصعيد المالي ضخامة الديون (م-٤-ب) وارتفاع كلفة خدمة الدين ما يحرم الحكومات من الاموال اللازمة لتمويل التنمية في مختلف القطاعات الاقتصادية- نقص الاموال بفعل تدني اسعار صادراتها من المواد الاولية المختلفة ومن مصادر الطاقة - هروب الرساميل الوطنية الى الخارج بفعل الاضرابات والازمات السياسية او توظيفها في القطاع التجاري دون القطاعات الإنتاجية - ضعف القدرة على الإدخار بسبب تزايد الحاجة الى تأمين المزيد من الخدمات مما يحول دون تكوين فائض مالي للاستثمار المحلي.</p> <p>سياسة واحدة اعتمدها الحكومة الهندية لتحقيق التنمية في المجال الزراعي : الثورة الخضراء التي قامت على استعمال البذور المؤصلة والتوسع في استخدام المبيدات والأسمدة وتحسين طرق الري (الأبار الارتوازية، السودان...) - قوانين الإصلاح الزراعي (تحديد الملكية، توزيع أراضي إنشاء التعاونيات...)- إقامة مدارس زراعية لتدريب اليد العاملة الزراعية.</p> <p>سياسة واحدة اعتمدها الحكومة الهندية لتحقيق التنمية في المجال الصناعي: فقد تمكنت الهند في السنوات الأخيرة من استقطاب عدد كبير من الشركات العالمية الى مختلف القطاعات والصناعات بدءا من الإنتاج الدوائي(م٣) - تدريب اليد العاملة من خلال مراكز التدريب والتطوير العلمي حيث بلغ نسبة الانفاق على البحث العلمي ٠,٠٩ ٪ من الناتج المحلي الداخلي (م٢) - سياسة توازن بين القطاعين العام والخاص -تأمين الصناعات الأساسية (طيران، تعدين) -تطوير شبكة المواصلات عدا عن خصخصة بعض المؤسسات الحكومية وتنظيم المجال الصناعي (مناطق صناعية جديدة وتطوير القديم منها ونتيجة السياسات التي تعتمدها القوى الكبرى في وجه منتوجات الجنوب .</p> <p>إجراءين عمليين يُمكن لدول عالم الجنوب اعتمادهما لتتمكن من تصريف فائض منتجاتها المصنعة: السعي الى إزالة كل معوقات التبادل التجاري بين دول هذا العالم، الأمر الذي يمكن بعض الدول من تصريف فائض إنتاجها(م١) - تأمين ظروف التعاون الاقتصادي لاسيما في مجال تصنيع هذه المنتجات محلياً- تكثّل هذه الدول بمواقف موحّدة لمواجهة دول الشمال الأمر الذي يمكنها من الحصول على السعر الملائم- تحسين نوعية المنتجات - العمل على تخفيض كلفة الإنتاج الامر الذي ساعدها على المنافسة في الاسواق العالمية...</p> <p>◦ علامتان للعوائق (علامة لكل عائق) ◦ علامة واحدة لسياستين (نصف علامة لكل سياسة) ◦ علامة واحدة لإجراءين ◦ علامة لاستخدام المصطلحات ◦ علامة واحدة لاستعمال المستندات بفكرة</p>	<p>عاشراً</p>