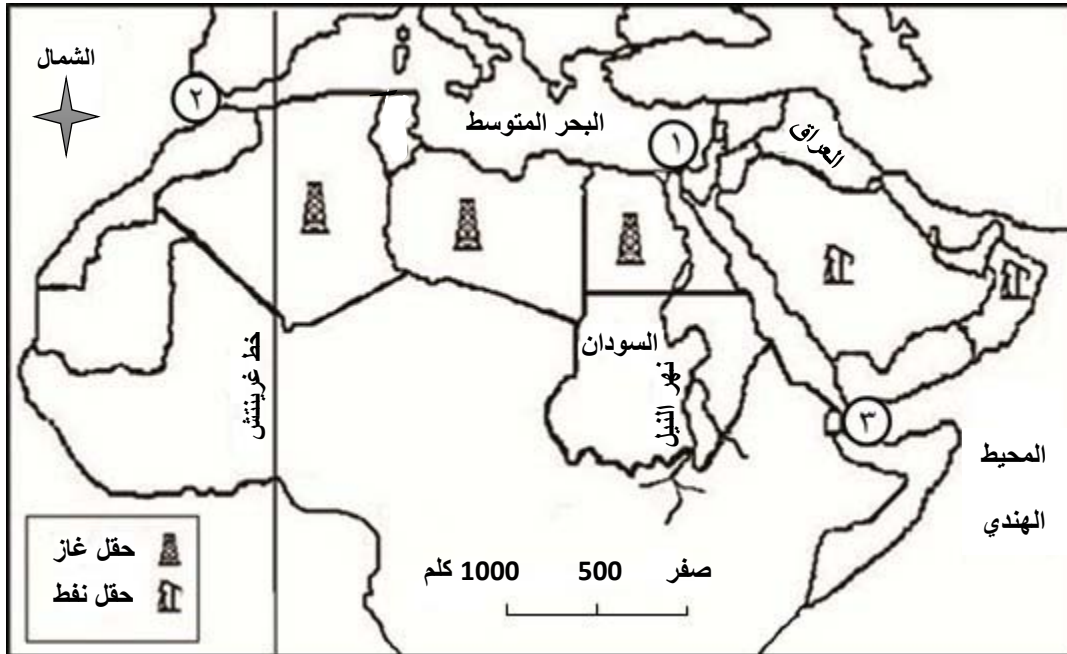


الاسم:  
الرقم:

مسابقة في مادة الجغرافيا  
المدة: ساعة واحدة

المجال الأول: تحديد مواقع واتجاهات (أربع علامات)



المستند رقم (1)

على ورقة الإجابة، من خلال المستند رقم (1) :

1- أكتب :

- أ. أسماء ثلاث دول عربيّة أفرقيّة توجد فيها حقول غاز ودولتين عربيّتين أسويبتين توجد فيهما حقول نفط .  
ب. أسماء كلّ من الممرات المائيّة المشار إليها على الخريطة بالأرقام ( 1 - 2 - 3 ) .  
ج. اسمي دولتين عربيّتين تقعان إلى الغرب من خط غرينتش .

2- حدّد :

- أ. الاتجاه العام لمجرى نهر النيل .  
ب. موقع الممر المائي رقم ( 3 ) بالنسبة إلى الممر المائي رقم ( 2 ) .  
ج. موقع السودان بالنسبة إلى العراق .

المجال الثاني : استعمال مستندات (ثماني علامات)

أثبتت زراعة البطيخ جدوى اقتصادية رابحة تمّ معها استثمار مساحات واسعة من أراضي القاع وشرقي الهرمل، ساهم في ازدهارها توفر اليد العاملة الوافدة من سوريا ووفرة المياه والطقس المناسب إلى جانب الإمكانيات الماديّة لبعض المستثمرين لتوفير الأديوية والأسمدة وأجور العمال وثمان المازوت الذي يعجز عن توفيره المزارع الصغير بسهولة. وأضحت هذه الزراعة مصدر دخل أساسي وعامل جذب للإستثمار بعد أن سجلت نجاحًا في النوع والوزن والأحجام القياسية لتغزو سائر الأسواق اللبنانيّة. تحتاج شتول البطيخ المزروعة في منطقة سهل القاع والهرمل لفترة زمنيّة قد تصل لحوالي الشهرين للنضوج. وتواجه هذه الزراعة منافسة حادة في الأسواق، لهذا طالب المزارعون بتأمين الحماية اللازمة لها وخصوصًا أنها بعيدة، في معظم مراحلها، عن المواد الكيماويّة وتروى من مصادر مياه نقيّة.

المصدر: جمال الساحلي، الوكالة الوطنيّة للإعلام ، 2017/3/23 (بتصرّف).

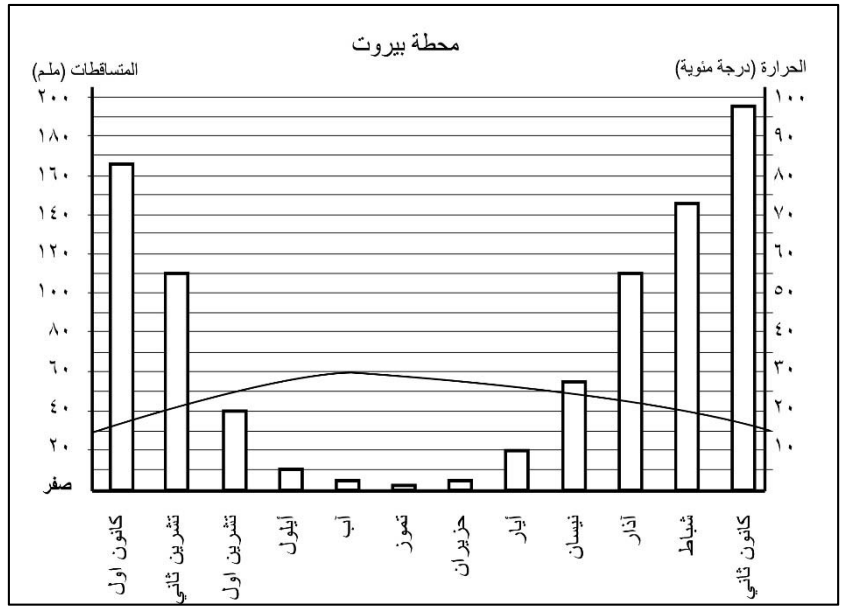
المستند رقم (2)

3- حدّد طبيعة المستند رقم ( 2 ) وموضوعه .

4- من خلال المستند رقم ( 2 )، حدّد :

- أ. اسمي منطقتين رئيسيتين لزراعة البطيخ، ومشكلة واحدة تواجه هذه الزراعة .  
ب. عاملين أدّى إلى ازدهار هذه الزراعة .  
5- يشير المستند رقم ( 2 ) إلى دور القطاع الخاص في تطوير الزراعة اللبنانيّة، أذكر :  
أ. خطوتين قامت بهما الدولة اللبنانيّة لتطوير القطاع الزراعي .  
ب. إثنين من التحولات التي طرأت على القطاع الزراعي في لبنان .

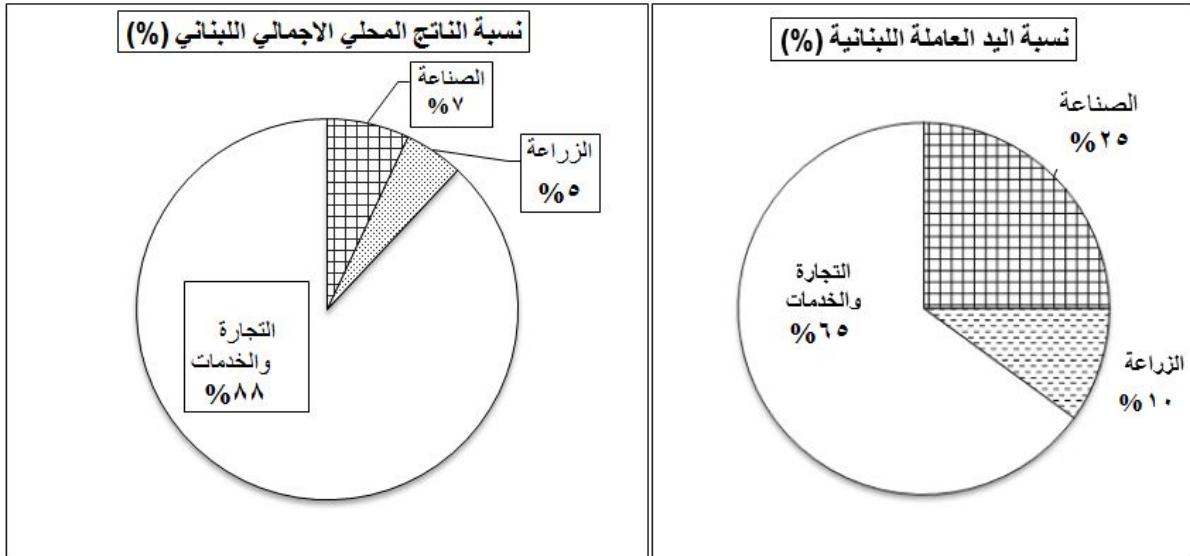
- 6- حدّد طبيعة المستند رقم ( 3 ) وموضوعه . (علامة واحدة)  
 7- من خلال المستند رقم ( 3 ) :  
 أ. حدّد اسم الشهر الذي يتلقى أكبر كمية من المتساقطات  
 واسم الشهر الذي تسجل فيه أعلى درجة حرارة .  
 (نصف علامة)  
 ب. حدّد اسم الشهر الذي تبدأ فيه فترة الجفاف واسم الشهر  
 الذي تنتهي فيه . (نصف علامة)  
 ج. أحسب المدى الحراري السنوي في هذه المحطة .  
 (علامة واحدة)  
 د. إستنتج نوع المناخ السائد في مدينة بيروت .  
 (نصف علامة)



المصدر: Climat-data.org-2016

المستند رقم (3)

### المجال الثالث : كتابة نص جغرافي (ست علامات)



المستند رقم ( 4 - ب )

المستند رقم ( 4 - أ )

المصدر: <http://almodon.com> (31-12-2016)

8- بالإعتماد على المستنديين رقم ( 4 - أ و 4 - ب ) ومعلوماتك ، أكتب نصًا جغرافيًا بحدود ( 12 - 15 سطرًا ) حول الإقتصاد اللبناني، تبيّن فيه:

- طبيعة الإقتصاد اللبناني وإثنين من مميزاته .
- أهميتين لكلّ من القطاعات الإقتصاديّة الثلاثة في لبنان .
- مفهوم تجارة الترانزيت وأهميتين لها بالنسبة للبنان.
- دورًا واحدًا للصناعة في تنشيط القطاع التجاري اللبناني .

● شكل المسابقة : ( تماسك النص، مصطلحات ومفاهيم، ترتيب المسابقة، إمكانية قراءتها). (علامتان)

الدورة الإستثنائية 2017 الخميس في 27 / 7 / 2017	الشهادة المتوسطة	وزارة التربية والتعليم العالي المديرية العامة للتربية دائرة الامتحانات
	مسابقة في مادة الجغرافيا المدة: ساعة واحدة	مشروع معيار التصحيح

العلامة	التصحيح	رقم السؤال
1,25	- دول عربية أفريقية توجد فيها حقول غاز : مصر - ليبيا - الجزائر . - دول عربية آسيوية توجد فيها حقول نفط : السعودية - سلطنة عُمان . • ربع علامة لكل إجابة صحيحة .	1 - أ
0,75	اسماء الممرات المائية : ( 1 ) قناة السويس . ( 2 ) مضيق جبل طارق . ( 3 ) مضيق باب المندب . • ربع علامة لكل إجابة صحيحة .	1 - ب
0,50	دول عربية غربي غرينتش : المغرب - موريتانيا . • ربع علامة لكل إجابة صحيحة .	1 - ج
0,50	الاتجاه العام لمجرى نهر النيل : من الجنوب إلى الشمال . • نصف علامة للإجابة الصحيحة .	2 - أ
0,50	يقع الممر المائي رقم ( 3 ) جنوب شرق الممر المائي رقم ( 2 ) . • نصف علامة للموقع .	2 - ب
0,50	موقع السودان بالنسبة للعراق : تقع السودان جنوب غرب العراق . • نصف علامة للموقع .	2 - ج
1	طبيعة المستند رقم ( 2 ) : نص / مقالة . موضوعه : زراعة البطيخ في لبنان . • نصف علامة لطبيعة المستند ونصف علامة لموضوعه .	3
1	- المناطق الرئيسية التي يزرع فيها البطيخ : القاع - شرقي الهرمل . - مشكلة تواجه زراعة البطيخ : منافسة حادة في الأسواق . • ربع علامة لكل منطقة - نصف علامة للمشكلة .	4 - أ
0,50	العوامل التي أدت إلى ازدهار زراعة البطيخ : توفر اليد العاملة - وفرة المياه - الطقس المناسب - الإمكانات المادية لبعض المستثمرين . • نصف علامة لعاملين، ربع علامة لكل عامل .	4 - ب
1	الخطوات التي قامت بها الدولة اللبنانية لتطوير القطاع الزراعي : إنشاء وزارة الزراعة - فتح عددًا من المدارس المهنية وكلية الزراعة في الجامعة اللبنانية - إقامة عدد من المكاتب الزراعية ( حبوب وشمندر سكري...) - تنفيذ بعض مشاريع الري الكبرى كمشروع الليطاني - إقامة المشروع الأخضر لمساعدة الفلاحين - إنشاء مراكز للأبحاث العلمية الزراعية (تل عمارة، العبدية، الفنار...) - وضع الروزنامة الزراعية - اعتماد الإجازة المسبقة لحماية الإنتاج الزراعي المحلي - تشجيع العمل التعاوني - عقد الإتفاقيات الدولية لتأمين تصريف الإنتاج ... • علامة واحدة لخطوتين، نصف علامة لكل خطوة .	5 - أ
1	التحولات التي طرأت على القطاع الزراعي في لبنان : اعتماد الزراعة المحمية ( الخيم البلاستيكية) - اعتماد وسائل الري الحديثة ( الري بالتنقيط والرش) - استخدام آلات حديثة للحراثة والحصاد - تأصيل البذور واعتماد المعالجات البيولوجية والأدوية لمكافحة الأمراض - اعتماد الطرق الحديثة في تربية الحيوانات - زيادة المساحات المروية... • علامة واحدة لتحويلين، نصف علامة لكل تحول .	5 - ب
1	طبيعة المستند رقم (3) : رسم بياني مُناخي . موضوعه : توزيع معدلات الامطار والحرارة على أشهر السنة في مدينة بيروت لعام 2016 .	6

	<ul style="list-style-type: none"> <li>• نصف علامة لطبيعة المستند ونصف علامة لموضوعه .</li> </ul>	
0.50	<ul style="list-style-type: none"> <li>- اسم الشهر الذي يتلقى أكبر كمية من المتساقطات : كانون الثاني .</li> <li>- اسم الشهر الذي تسجل فيه أعلى درجة حرارة : آب .</li> <li>• ربع علامة للاسم الصحيح .</li> </ul>	7- أ
0.50	<ul style="list-style-type: none"> <li>- اسم الشهر الذي تبدأ فيه فترة الجفاف : أيار .</li> <li>- اسم الشهر الذي تنتهي فيه فترة الجفاف : تشرين الأول .</li> <li>• ربع علامة للاسم الصحيح .</li> </ul>	7- ب
1	<ul style="list-style-type: none"> <li>- المدى الحراري السنوي = أعلى درجة حرارة – أدنى درجة حرارة .</li> <li>- المدى الحراري السنوي في هذه المحطة : 30°م – 16°م = 14°م .</li> <li>• علامة واحدة للإجابة الصحيحة .</li> </ul>	7- ج
0.50	<ul style="list-style-type: none"> <li>• نوع المناخ السائد في مدينة بيروت : المناخ المتوسطي .</li> <li>• نصف علامة لنوع المناخ .</li> </ul>	7- د
1.5	<p>طبيعة الإقتصاد اللبناني : إقتصاد رأسمالي حر / ليبرالي .</p> <p>مميزات النظام الإقتصادي في لبنان : تشجيع المبادرة الفردية – السماح بالملكية الخاصة ضمن القوانين السائدة – إختيار الفرد نوع العمل الذي يريده – إعطاء الحرية للمنافسة المشروعة وللتبادل التجاري ولنقل الأموال .</p> <ul style="list-style-type: none"> <li>• نصف علامة لطبيعة النظام الإقتصادي في لبنان، علامة واحدة لميزتين، نصف علامة لكل ميزة .</li> </ul>	
1.5	<p>أهميتين لكل من القطاعات الإقتصادية الثلاث :</p> <p>* القطاع الأولي : تسهم الزراعة بنسبة 5 % من الناتج المحلي الإجمالي - يعمل فيها 10 % من اليد العاملة – تؤمن جزء من حاجات لبنان الغذائية – تؤمن مادة أولية لكثير من الصناعات – تسهم بنسبة من الصادرات اللبنانية إلى الخارج...</p> <p>* القطاع الثانوي : تسهم الصناعة ب 7 % من الناتج المحلي الإجمالي المحلي – يعمل فيه 25 % من اليد العاملة – تسهم بقسم كبير من الصادرات اللبنانية...</p> <p>* القطاع الثالثي : تسهم التجارة والخدمات بنسبة 88 % من الناتج المحلي الإجمالي اللبناني – يعمل فيهما 65 % من اليد العاملة اللبنانية – يوفر موارد مالية مهمة لتعويض العجز في الميزان التجاري...</p> <ul style="list-style-type: none"> <li>• ربع علامة لكل أهمية .</li> </ul>	8
2	<p>* تجارة الترانزيت : هي حركة مرور البضائع والأشخاص من دولة إلى دولة أخرى عبر الأراضي اللبنانية . ( أو أي تعريف آخر بهذا المعنى )</p> <p>*أهمية تجارة الترانزيت بالنسبة إلى لبنان: استيفاء رسم المرفأ أو رسم المرور عبر الأراضي اللبنانية - تساهم في سد العجز في الميزان التجاري – تشغيل وسائل النقل – تشغيل شركات التحميل والتفريغ...</p> <ul style="list-style-type: none"> <li>• علامة واحدة لتعريف المفهوم وعلامة واحدة للأهمية، نصف علامة لكل أهمية .</li> </ul>	
1	<p>دورًا واحدًا للصناعة في تنشيط القطاع التجاري اللبناني : تساهم الصناعة في تطوير القطاع التجاري عبر إستيراد المواد الأولية والآلات ومصادر الطاقة من الخارج – تساهم الصناعة في زيادة الصادرات ما يساهم في تنشيط القطاع التجاري – تؤمن الصناعة سلعة يتم تداولها بين المصنع والمستهلك عبر التجار ما يساهم في تنشيط التجارة...</p> <ul style="list-style-type: none"> <li>• علامة واحدة للدور الواضح .</li> </ul>	
2	<ul style="list-style-type: none"> <li>• شكل المسابقة:</li> <li>- نصف علامة : تماسك النص .</li> <li>- نصف علامة : تماسك النص .</li> <li>- نصف علامة : ترتيب المسابقة .</li> <li>- نصف علامة : إمكانية قراءة المسابقة .</li> </ul> <p>ملاحظة: إذا لم يتم استخدام المستند رقم ( 4 ) تحسم علامة واحدة .</p>	