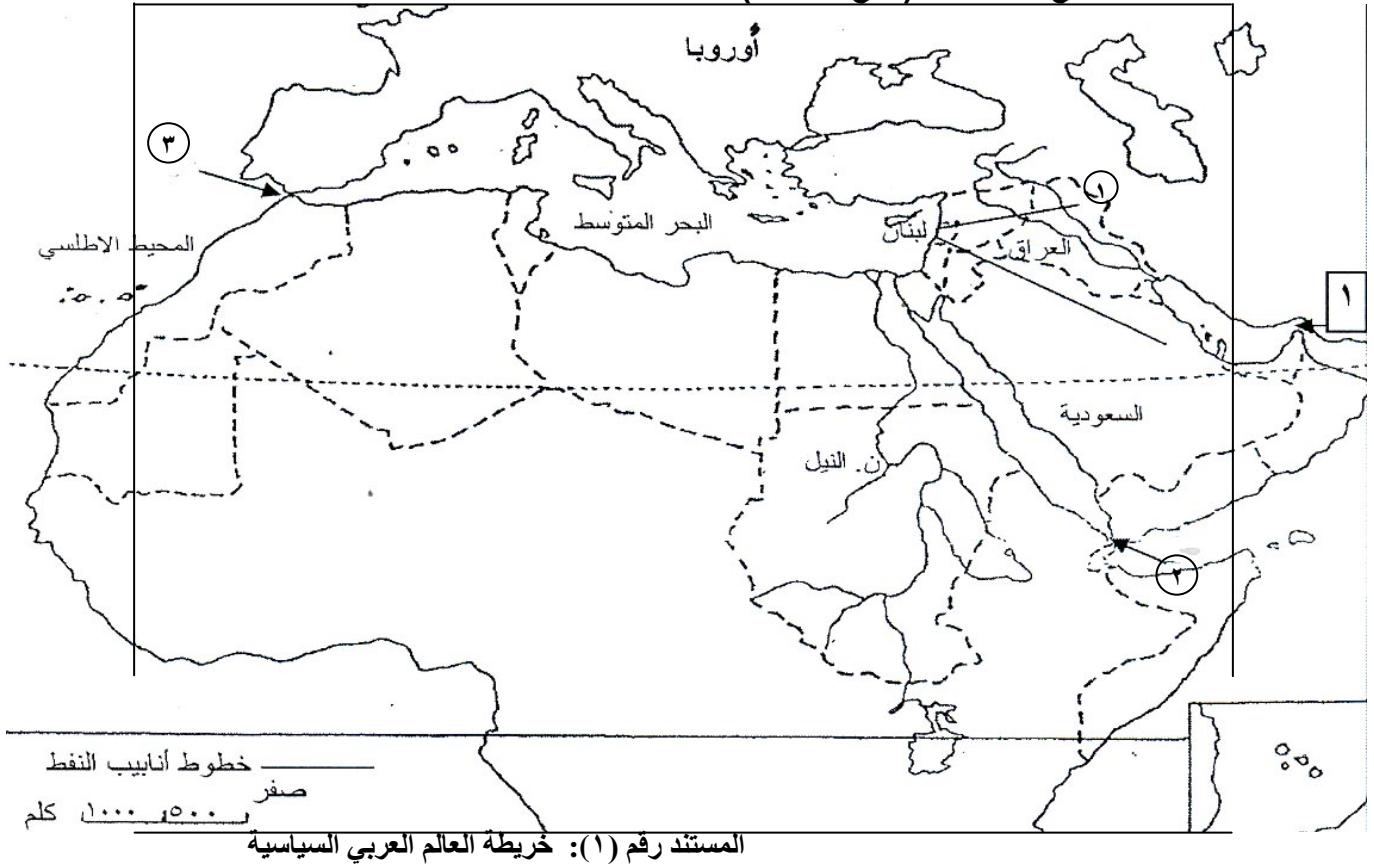


مسابقة في مادة الجغرافيا
المدة: ساعة واحدة
الاسم:
الرقم:

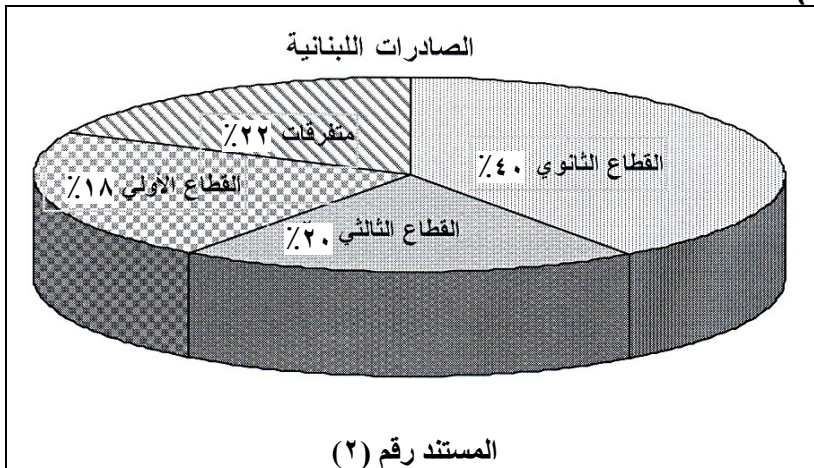
المجال الأول: تحديد مواقع واتجاهات (أربع علامات):



على ورقة الإجابة:

- ١ - اكتب اسم كل من الدول العربية الآسيوية المطلة على البحر المتوسط وذلك بالتدرج من الشمال إلى الجنوب. (ثلاثة أرباع العلامة) (ربع علامة)
- ٢ - اذكر اسم دولة عربية تطل على المحيط الأطلسي.
- ٣ - أ- حدّد الاتجاه العام لكل من أنابيب النفط التي تنطلق من العراق ومن المملكة العربية السعودية باتجاه لبنان. (علامة واحدة)
ب- حدّد الاتجاه العام لمجرى نهر النيل من المنبع إلى المصب.
- ٤ - اكتب اسم كل من الممرات المائية المشار إليها على الخريطة بحسب تسلسل الأرقام (١-٢-٣). (علامة ونصف)

المجال الثاني: استعمال مستندات (ثمانية علامات):



٥- حدّد طبيعة المستند رقم (٢) وموضوعه ووحدة القياس المعتمدة فيه.

(علامة ونصف)

٦- من خلال المستند رقم (٢):

أ - حدّد القطاع الذي يُسهم بالقسم الأكبر من الصادرات اللبنانية والقطاع الذي يُسهم بالقسم الأقل.

(نصف علامة)

ب- استنتج واقع القطاع الأولي.

(نصف علامة)

سجل الميزان التجاري اللبناني عجزاً تراكمياً في الشهر الأول من سنة ٢٠٠٧ بمقدار ٦٩٨ مليون دولار. ووفق إحصاءات تجارة لبنان الخارجية فقد نجمت هذه الزيادة في العجز عن ارتفاع قيمة المستوردات وكان أهمها المنتجات المعدنية والآلات والأجهزة الكهربائية والصناعات الغذائية، أما الصادرات فقد احتلت المعادن العادية ومصنوعاتها صدارة الترتيب يليها صادرات اللؤلؤ والأحجار الكريمة والمعادن الثمينة في المرتبة الثانية ثم الآلات والأجهزة والمعدات الكهربائية. وقد حلت إيطاليا في المرتبة الأولى من بين الدول المصدرة إلى لبنان تليها الولايات المتحدة الأمريكية فالصين ثم فرنسا وألمانيا.

أما بالنسبة للدول المستوردة من لبنان فقد احتفظت سويسرا بمرتبتها الأولى يليها الإمارات العربية المتحدة ثم سوريا والسعودية والعراق وتركيا.

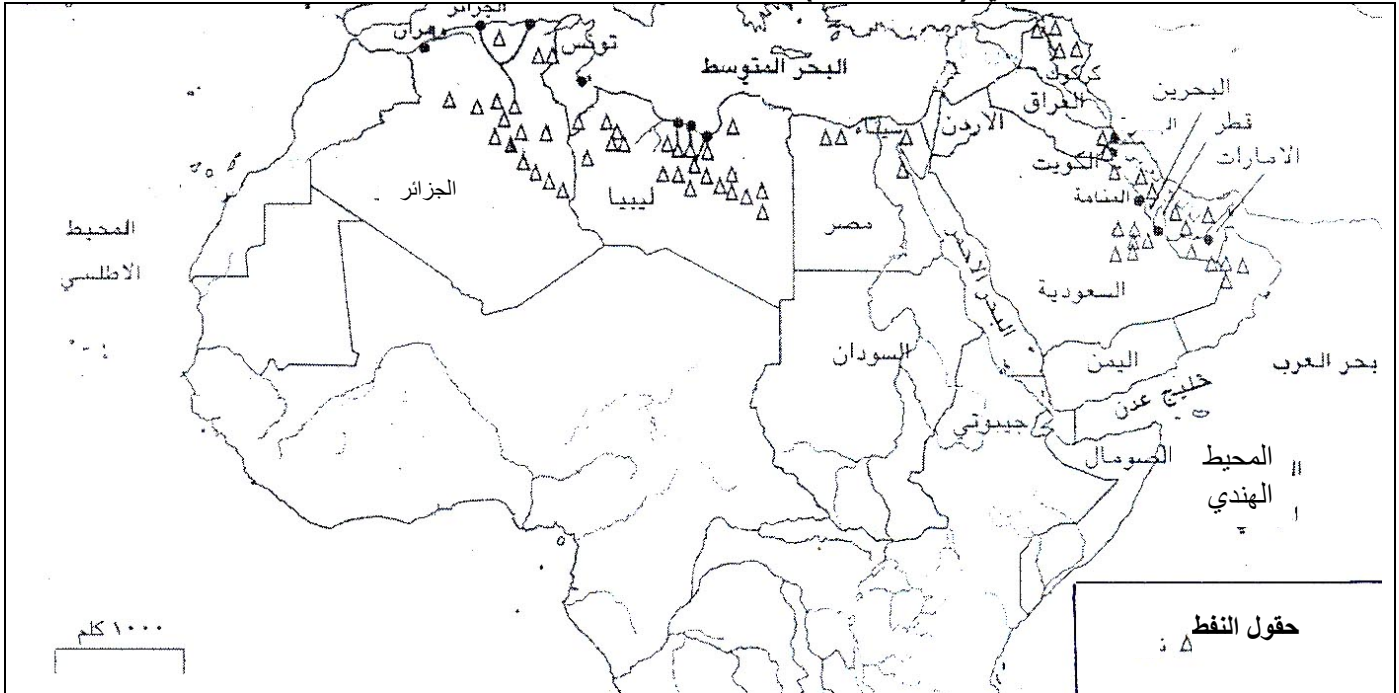
كما دلت الإحصاءات أيضاً أن حركة الترانزيت قد سجلت ثباتاً في الأشهر الأربعة الأولى من العام الحالي (٢٠٠٧) مقارنة مع الفترة ذاتها من العام (٢٠٠٦)، فيما سجلت حركة تجارة إعادة التصدير ارتفاعاً في الفترة عينها بلغ ١٠ ملايين دولار.

جريدة النهار ٢٠٠٧/٣/١٩ - بتصرف

المستند رقم (٣)

- ٧ - حدّد طبيعة المستند رقم (٣) واقترح له عنواناً مناسباً.
 ٨ - صنّف في جدول أسماء الدول التي يستورد منها لبنان حاجاته والتي يصدر إليها منتجاته.
 ٩ - حدّد المقصود في كل من عبارتي الترانزيت وتجارة إعادة التصدير.
 ١٠ - يشير المستند رقم (٣) إلى الميزان التجاري اللبناني:
 أ - عرّف بالميزان التجاري اللبناني.
 ب- بيّن واقع هذا الميزان وأذكر سبباً أدى إلى هذا الواقع.

المجال الثالث: كتابة نص جغرافي (ست علامات):



المستند رقم (٤): توزع حقول النفط في العالم العربي

- ١١- بالاعتماد على المستندين رقم (١) و (٤) ومعلوماتك اكتب نصاً جغرافياً بحدود (١٢ - ١٥ سطراً) حول النفط العربي تُبيّن فيه:

- أربعاً من ميزات النفط العربي.
 - ستاً من الدول العربية المنتجة له وكيفية استثماره.
 - أربعاً من الفوائد التي يجنيها لبنان من الثروة النفطية العربية.

شكل المسابقة:

- (تماسك النص - كتابة صحيحة للمصطلحات والمفاهيم - ترتيب المسابقة - إمكانية قراءتها).

أسس تصحيح مادة الجغرافيا

رقم السؤال	عناصر الإجابة	العلامة	الملاحظات
١	سوريا - لبنان - فلسطين.	٣/٤	ربع علامة لكل إجابة صحيحة شرط التدرج.
٢	المغرب - موريتانيا.	١/٤	ربع علامة لذكر الدولة.
٣	أ- من العراق: شمال شرق الى جنوب غرب. من السعودية: جنوب شرق الى شمال غرب. ب- الاتجاه العام لنهر النيل: من الجنوب الى الشمال.	١ ١/٢	نصف علامة لكل إجابة صحيحة.
٤	١- مضيق هرمز. ٢- مضيق باب المندب. ٣- مضيق جبل طارق.	١ ١/٢	نصف علامة لكل إجابة صحيحة.
٥	طبيعة المستند (٢) : رسم بياني دائري موضوعه : - حصة القطاعات الاقتصادية من الصادرات اللبنانية. - نصيب القطاعات الاقتصادية من الصادرات اللبنانية. - توزيع الصادرات اللبنانية على القطاعات الاقتصادية. وحدة القياس: النسبة المئوية.	١ ١/٢	نصف علامة لطبيعة المستند نصف علامة لموضوع المستند نصف علامة لوحدة القياس.
٦	أ - القطاع الذي يسهم بالقسم الأكبر: القطاع الثانوي. - القطاع الذي يسهم بالقسم الأقل: القطاع الأولي. ب - ضعيف - مهمش ...	١/٢ ١/٢	ربع علامة لكل إجابة صحيحة. نصف علامة للإجابة الصحيحة.
٧	- طبيعة المستند (٣) : مقالة أو نص . - عنوانه: تجارة لبنان الخارجية وأنواعها. (أو أي فكرة تربط التجارة الخارجية بفكرة أخرى واردة في المستند.)	١	نصف علامة لطبيعة المستند. نصف علامة لعنوان المستند.
٨	الدول التي يستورد منها لبنان: إيطاليا - الولايات المتحدة - الصين - فرنسا - ألمانيا. الدول التي يصدر إليها: سويسرا - الإمارات العربية المتحدة - سوريا - السعودية - العراق - تركيا.	١	نصف علامة لذكر دولتين للاستيراد ونصف علامة لذكر دولتين تصديراً. ملاحظة: يجب أن تكون الإجابة على شكل جدول.
٩	- المقصود بعبارة الترانزيت: الترانزيت هي حركة مرور البضائع من وإلى الدول العربية عبر الأراضي اللبنانية (مرافئ، مطار) وتشمل أيضا الأشخاص. - المقصود بعبارة تجارة إعادة التصدير: إعادة تصدير البضائع المستوردة من المناطق الحرة على شكلها الأصلي أو بعد تصنيعها لقاء رسوم زهيدة. ملاحظة: أي تعريف يشمل هذه الأفكار.	٢	علامة لكل تعريف صحيح.
١٠	أ- الميزان التجاري هو الفرق بين قيمة الصادرات وقيمة الواردات. ب- واقع الميزان التجاري: عاجز. - السبب: تفوق قيمة الواردات على قيمة الصادرات أو أي سبب مناسب وصحيح.	١ ١/٢	نصف علامة للتعريف الصحيح. نصف علامة لواقع الميزان. نصف علامة للسبب.

رقم السؤال	عناصر الإجابة	العلامة	الملاحظات
١١	- ميزات النفط العربي: - ضخامة الاحتياطي - غزارة أباره - قرب خزاناته من سطح الأرض - انخفاض كلفة استخراج - ضخامة إنتاجه - قربها من المسطحات المائية... - أهم الدول العربية المنتجة للنفط: الجزائر - ليبيا - مصر - السعودية - الكويت - العراق - الإمارات العربية المتحدة... - كيفية استثماره: - تصديره خاماً. - يشكل مصدراً للطاقة اللازمة للصناعة. - يشكل مادة أولية للصناعة البتروكيمياوية. - يؤمن حاجة المستهلك المحلي. - فوائد النفط العربي بالنسبة للبنان: - تأمين فرص العمل. - إيداع قسم من عائدات النفط العربي في المصارف اللبنانية. - التحويلات المالية للعاملين اللبنانيين في الدول النفطية إلى لبنان... - عائدات مرور أنابيب النفط (سابقاً). - ارتفاع مداخيله ساهم بازدهار السياحة في لبنان من خلال السياح العرب...	١ ١ ١/٢ ١ ١/٢ ٢	المطلوب أربع مميزات لكل منها ربع علامة. المطلوب ست دول لكل دولة ربع علامة. المطلوب ٣ إجابات. نصف علامة لكل إجابة صحيحة. المطلوب أربع فوائد. نصف علامة لكل إجابة صحيحة.
	ملاحظة : ١ - إذا لم يتم استخدام المستند ولو بفكرة واحدة تحسم علامة . ٢ - إذا تجاوز عدد الأسطر /١٧/ سطرًا تحسم علامة .		
	شكل المسابقة (علامتان) : - تماسك النص ١/٢ علامة - مصطلحات ومفاهيم ١/٢ علامة - إمكانية القراءة ١/٢ علامة - الترتيب ١/٢ علامة	٢	