


<p>المادة: الجغرافيا الشهادة: المتوسطة</p> <p>نموذج رقم -٣- المدة: ساعة واحدة</p>	<p>الهيئة الأكاديمية المشتركة قسم: الاجتماعيات</p>	 <p>المركز اللبناني للبحوث والأبحاث</p>
---	--	--

نموذج مسابقة (يراعي تعليق الدروس والتوصيف المعدل للعام الدراسي ٢٠١٦-٢٠١٧ وحتى صدور المناهج المطورة)

المجال الأول: تحديد مواقع واتجاهات (أربع علامات)

من خلال المستند رقم (١):
١- اختر:
أ- مدينة داخلية يتراوح عدد سكانها بين ١٠٠٠٠٠٠ - ٥٠٠٠٠٠٠ نسمة:

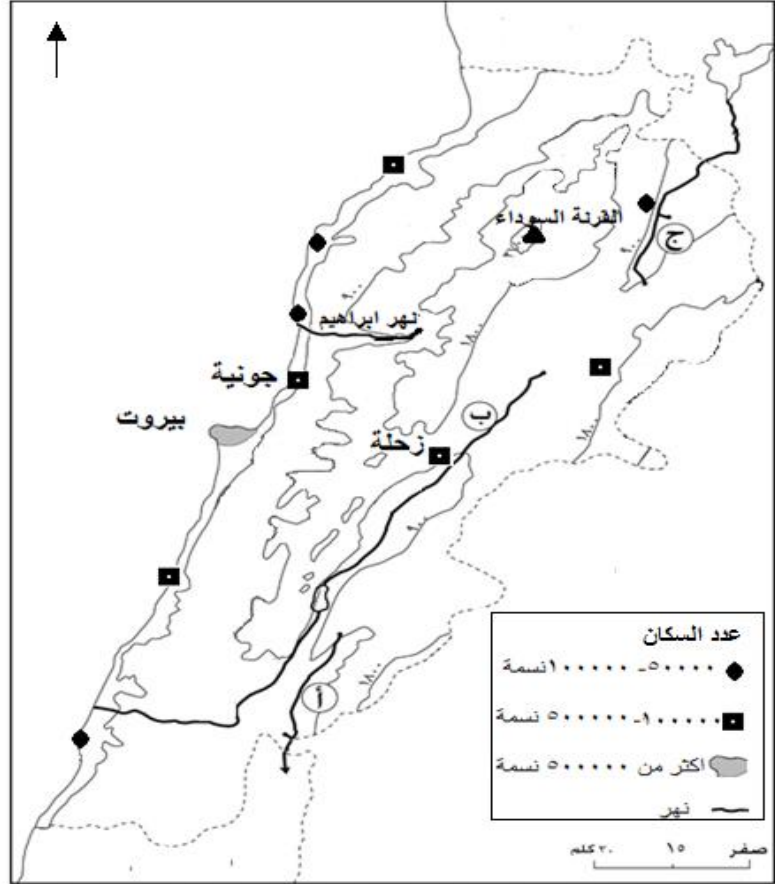
- الهرمل - طرابلس - بعلبك.
(ربع علامة)
ب- مدينتين ساحليتين يتراوح عدد سكانهما بين ٥٠٠٠٠٠ و ١٠٠٠٠٠٠ نسمة:

- جبيل - الهرمل - صيدا - صور.
(نصف علامة)
ج- الوحدة التضاريسية التي تضم العدد الأكبر من التجمعات السكانية:

- المنطقة الساحلية - سلسلة جبال لبنان الغربية- السهول الساحلية.
(ربع علامة)

٢- أذكر:
أ- أسماء كل من الأنهار المشار إليها بالأحرف (أ، ب، ج).
ب- اسم المسطح المائي الذي يصب فيه نهر إبراهيم .

(نصف علامة)
(ثلاثة أرباع العلامة)



المستند رقم (١)

٣- أربط عبارات المجموعة الأولى بما يناسبها من عبارات في المجموعة الثانية.

١. موقع بيروت بالنسبة لزحلة
٢. موقع جونبة بالنسبة لزحلة
٣. موقع جونبة بالنسبة للقرنة السوداء

٤- حدّد:

- أ-الاتجاه العام للنهر المشار إليه بالحرف (ج) من منبعه حتى نقطة عبوره للحدود اللبنانية.
- ب- الاتجاه العام للشاطئ اللبناني.

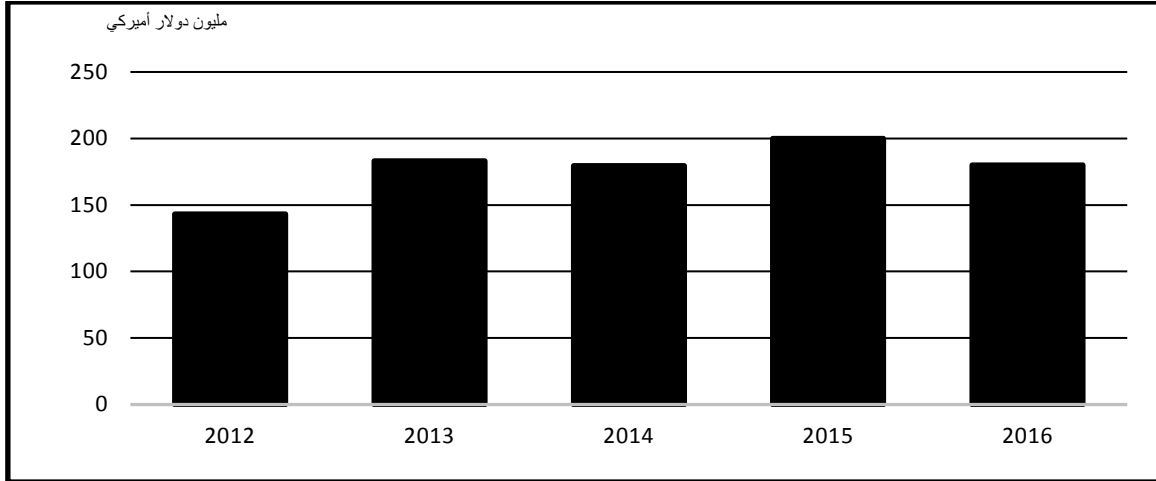
المجال الثاني: استعمال مستندات (ثمانى علامات)

إن نهر الليطاني يوازي بأهميته في لبنان ما تمثله أنهر السين والرين في فرنسا، يتألف الحوض الأعلى للنهر من قسمين ملوثين، فالقسم الأول منه يمتد من المنبع إلى مصب نهر الغزير ومصدره نبعاً عجر وشمسين، حيث أنّ كمية منسوب المياه محدودة فيه، ما يتيح فرص تراكم المياه المبتدلة التي ترمى من القرى في المجرى، كما تزداد نسبة التلوث فيه جراء رمي كل من النفايات الصلبة من أكياس نيلون وعلب بلاستيك ومواد زراعية مستعملة ومخلفات النفايات الصناعية الصادرة عن عددٍ محدودٍ من المعامل، أما الجزء الثاني من هذا الحوض، يعاني من التلوث مع فارق مهم أنّ النفايات الصناعية تتراكم فيه بسبب إنتشار الرقعة الجغرافية للمعامل في قرى عدّة، أما الحوض الأسفل للنهر، يمكنه من خلال انحدار المجرى أن ينجح في "تنظيف نفسه بنفسه" ويقلص من خلاله نسبة التلوث فيه، وقد دعا المسؤولون إلى عدم استخدام مياه الحوض الأعلى لري المحاصيل الزراعية لأنها غير صالحة، كذلك مياه الحوض الأسفل بسبب رمي أوساخ مرامل المنطقة في مجرى النهر.

روزيت فاضل، جريدة النهار، ٢١ آب ٢٠١٦ (بتصرف).

المستند رقم (٢)

- ٥- حدّد طبيعة المستند رقم (٢)، موضوعه ومصدره. (علامة واحدة)
- ٦- من خلال المستند رقم (٢)، حدّد:
 أ- المشكلة الأساسية التي تواجهها مياه نهر الليطاني في لبنان.
 ب- أربعة أسباب لمشكلة مياه نهر الليطاني.
 ٧- اعتماداً على معلوماتك المكتسبة: أوضح ثلاث أهميات إقتصادية لمشروع نهر الليطاني. (علامة ونصف)



المستند رقم (٣) إيرادات مرفأ بيروت. جريدة الأخبار العدد: ٣٠٤٠، تاريخ ٢٢ / ١١ / ٢٠١٦.

- ٨- حدّد طبيعة المستند رقم (٣) وموضوعه. (ثلاثة أرباع العلامة)
- ٩- من خلال المستند رقم (٣)، حدّد:
 أ- وحدة القياس المعتمدة فيه.
 ب- الاتجاه العام لمسار إيرادات مرفأ بيروت ما بين سنتي ٢٠١٢ و ٢٠١٦.
 ج- السنة التي بلغت فيها الإيرادات القيمة الأعلى.
 ١٠- اعتماداً على معلوماتك المكتسبة، أذكر:
 أ- أهميتين إقتصاديتين لمرفأ بيروت على الصعيد المحلي وأهمية إقتصادية أخرى على الصعيد العربي. (علامة ونصف)
 ب- اسمي مرفأين متخصصين ونوع النشاط لكل منهما. (علامة واحدة)

المجال الثالث: كتابة نص جغرافي (ست علامات)

بدأ التكامل الاقتصادي العربي كتجربة قبل الاتحاد الأوروبي بأكثر من عشر سنوات، بينما وصل الأوروبيون إلى طرح فكرة الوحدة الاندماجية بين بلدان الاتحاد، ويعدّ الاندماج أعلى مراحل التكامل الاقتصادي، حيث يقوم على تنسيق السياسات الاقتصادية، تقسيم العمل بين الدول المعنية، عقد إتفاقيات تجارية مشتركة أو تخفيض الجمارك على منتجات كلا البلدين أو البلدان التي تشترك في هذه العلاقة وإزالة قيود الحدود والعملات بينها؛ بالرغم من أن المقومات التي تجمع بين البلدان العربية تكفل لها تحقيق مثل هذا النجاح، لكن العوامل السياسية وقفت حائلاً أمام العرب لتحقيق التكامل الاقتصادي فيما بينهم.


المستند رقم (٤) تجربة التكامل الاقتصادي العربي. توفيق الحفار، التكامل الاقتصادي العربي، ٢٠١٣ (بتصرف).

١١- إنطلاقاً من المستند رقم (٤) ومعلوماتك المكتسبة، أكتب نصاً جغرافياً بحدود (١٢-١٥ سطراً) عن التكامل العربي، مبيّناً فيه:

- مفهوم التكامل العربي. (علامة واحدة)
- إثنين من الإمكانيات الطبيعية وإثنين من الإمكانيات البشرية المتوفرة في العالم العربي. (علامتان)
- أربعة إجراءات (سياسات) المفترض اعتمادها في سبيل تحقيق التكامل. (علامتان)
- إثنين من أهميات تحقيق التكامل الاقتصادي. (علامة واحدة)

شكل المسابقة (تماسك النص، مصطلحات ومفاهيم، ترتيب المسابقة وإمكانية قراءتها). (علامتان)

عملاً موفقاً

المادة: الجغرافيا الشهادة: المتوسطة نموذج رقم - ٣ - المدة: ساعة واحدة	الهيئة الأكاديمية المشتركة قسم: الاجتماعيات	 المركز القومي للبحوث والدراسات
--	--	---

أسس التصحيح (تراعي تعليق الدروس والتوصيف المعدل للعام الدراسي ٢٠١٦-٢٠١٧ وحتى صدور المناهج المطورة)

المجال الأول: تحديد مواقع واتجاهات (أربع علامات)			
رقم السؤال	عناصر الإجابة	العلامة	الملاحظات
١	أ بعلبك	ربع علامة	
	ب جبيل - صور.	نصف علامة	ربع علامة لكل مدينة.
	ج السهول الساحلية.	ربع علامة	
٢	أ (أ) نهر الحاصباني (ب) نهر الليطاني (ج) نهر العاصي	ثلاثة أرباع العلامة	ربع علامة لكل نهر.
	ب البحر الأبيض المتوسط.	نصف علامة	
٣	١- ج. ٢- أ. ٣- ب.	ثلاثة أرباع العلامة	ربع علامة لكل رابط.
٤	أ من الجنوب الى الشمال.	نص علامة	
	ب من الشمال الشرقي الى الجنوب الغربي.	نصف علامة	
المجال الثاني: استعمال مستندات (ثماني علامات)			
٥	المستند رقم (٢): - طبيعته: نص. - موضوعه: تلوث مياه نهر الليطاني. مشكلة مياه نهر الليطاني. - مصدره: روزيت فاضل، جريدة النهار، ٢١ آب ٢٠١٦ (بتصرف).	علامة واحدة	(أو أي موضوع آخر صحيح) ربع علامة لكل من طبيعة المستند ومصدره ونصف علامة لموضوعه.
	أ مشكلة تلوث مياه النهر.	نصف علامة	
٦	- تراكم المياه المبتذلة التي ترمى من القرى في المجرى. - رمي النفايات الصلبة من أكياس نيلون وعلب بلاستيك ... في مجرى النهر. - التخلص من النفايات الصناعية الصادرة عن عددٍ محدودٍ من المعامل. - رمي أساخ مرامل المنطقة في مجرى النهر.	علامة واحدة	ربع علامة لكل سبب.
	ب		
٧	- تأمين مياه الري للمزروعات. - توليد الطاقة الكهربائية. - نشوء مشاريع سياحية بالقرب منه.	علامة ونصف	نصف علامة لكل أهمية.
٨	المستند رقم (٣): - طبيعته: رسم بياني عمودي. - موضوعه: تطور إيرادات مرفأ بيروت ما بين سنتي ٢٠١٢ و ٢٠١٦.	ثلاثة أرباع العلامة	ربع علامة لطبيعة المستند ونصف علامة لموضوعه.
	أ وحدة القياس: دولار أميركي.	ربع علامة	
٩	ب الاتجاه العام لمسار إيرادات مرفأ بيروت ما بين سنتي ٢٠١٢ و ٢٠١٦: تصاعدي.	ربع علامة	
	ج السنة التي بلغت فيها الإيرادات القيمة الأعلى: سنة ٢٠١٥.	ربع علامة	

<p>(أو أي اجابة صحيحة أخرى) نصف علامة لكل أهمية.</p>	<p>علامة ونصف</p>	<p>أهميتان اقتصاديتان لمرفأ بيروت على الصعيد المحلي: - تشغيل اليد العاملة المحلية. - تنشيط حركة الترانزيت. - تأمين نقل البضائع من وإلى لبنان. أهمية اقتصادية على الصعيد العربي: - يعتبر المعبر الأساسي للبضائع المشحونة بين الدول العربية والدول الأوروبية وغيرها.</p>	<p>أ</p>	<p>١٠</p>
<p>(أو أي اجابة صحيحة أخرى) ربع علامة لذكر اسم المرفأ وربع علامة لتحديد نوع النشاط الذي يقوم به.</p>	<p>علامة واحدة</p>	<p>- مرفأ سلعتا: لتصدير أسمدة وأتربة كيمياوية. - مرفأ الزهراني: لاستيراد مشتقات النفط.</p>	<p>ب</p>	
<p>المجال الثالث: كتابة نص جغرافي (ست علامات)</p>				
<p>ملاحظة مهمة: إستثمار المستند بفكرة واحدة.</p>				
<p>(أو أي اجابة صحيحة أخرى) نصف علامة لكل فكرة.</p>	<p>علامة واحدة</p>	<p>مفهوم التكامل العربي: هو التعاون والتنسيق بين الدول العربية على اختلافها بحيث تكمل الواحدة الأخرى لتحقيق الإكتفاء الذاتي.</p>		
<p>(أو أي اجابة صحيحة أخرى) نصف علامة لكل إمكانية.</p>	<p>علامتان</p>	<p>اثنتان من الإمكانيات الطبيعية المتوفرة في العالم العربي: - موقعه الجغرافي الإستراتيجي وأهميته على الصعيد التجارة العالمية. - توفر ثروات مهمة من مصادر الطاقة والمعادن. - اتساع مساحة العالم العربي، ما يوفر مجالاً مهماً للاستغلال الزراعي. - تنوع الأقاليم المناخية فيه، ما يسمح بتنوع الانتاج الزراعي. اثنتان من الإمكانيات البشرية المتوفرة في العالم العربي: - توفر رساميل مهمة من العائدات المالية للنفط يمكن الاستفادة منها في مشاريع اقتصادية عربية مشتركة. - ارتفاع عدد السكان الذي يؤمن سوقاً استهلاكياً مهماً وأيدي عاملة رخيصة.</p>		
<p>نصف علامة لكل إجراء.</p>	<p>علامتان</p>	<p>أربعة إجراءات (سياسات) المقترض اعتمادها في سبيل تحقيق التكامل: - تنسيق السياسات الاقتصادية. - تقسيم العمل بين الدول المعنية. - عقد إتفاقيات تجارية مشتركة. - تخفيض الجمارك على منتجات كلا البلدين أو البلدان التي تشترك في هذه العلاقة. - إزالة قيود الحدود والعملات بين البلدين التي تشترك في هذه العلاقة.</p>	<p>١١</p>	
<p>(أو أي اجابة صحيحة أخرى) نصف علامة لكل أهمية.</p>	<p>علامة واحدة</p>	<p>إثنتان من أهميات تحقيق التكامل العربي الاقتصادي: - يوفر الظروف الملائمة للنهوض الاقتصادي لمجموع الدول العربية. - استغلال الإمكانيات الطبيعية والاقتصادية والبشرية للدول العربية لتحقيق التنمية. - يوفر الشروط الملائمة لتطوير القطاعات الانتاجية ورفع كفاءتها الاقتصادية . - يوفر فرصة مهمة لتخفيف مشكلة البطالة في العالم العربي . - يسهم في تحقيق الأمن الغذائي . - تأمين حاجات السكان من مختلف المنتجات. - الحؤول دون السيطرة الاقتصادية للدول المتقدمة.</p>		
<p>نصف علامة لكل عنصر.</p>	<p>علامتان</p>	<p>تماسك النص، مصطلحات ومفاهيم، ترتيب المسابقة وامكانية قراءتها.</p>	<p>شكل المسابقة</p>	