
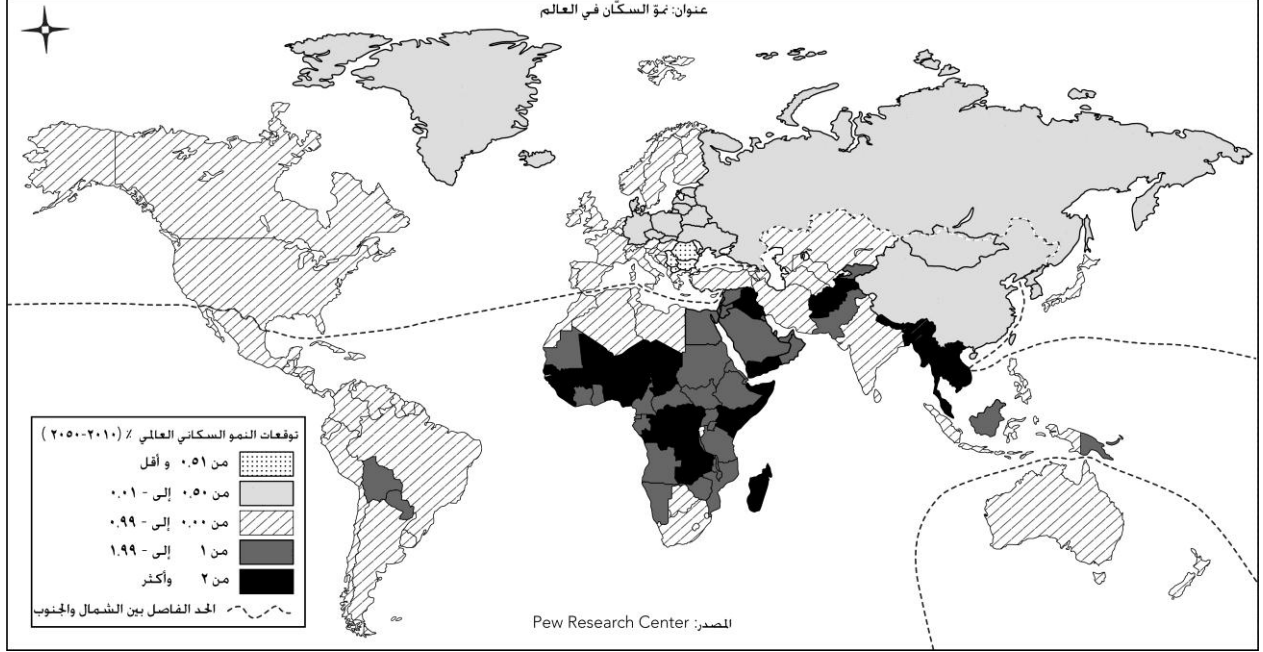


<p>المادة: الجغرافيا الشهادة: الثانوية العامة الفروع: العلوم العامة/ علوم الحياة / الاجتماع والاقتصاد نموذج رقم ١ - المدة: ساعة واحدة</p>	<p>الهيئة الأكاديمية المشتركة قسم: الاجتماعيات</p>	 <p>المركز التربوي للبحوث والإنماء</p>
---	--	---

نموذج مسابقة (يراعي تعليق الدروس والتوصيف المعدل للعام الدراسي 2017 - 2016 وحتى صدور المناهج المطورة)



المستند رقم (١)

الدول العشر الأولى بإنتاج النفط في العالم		الدول العشر الأولى بتصدير النفط في العالم	
الكمية (مليون برميل يومياً)	الدولة	الكمية (مليون برميل يومياً)	الدولة
٤.١٦٤	الولايات المتحدة	١.٢١٥	إيران
٢.٥٢٢	المكسيك	١.٢٧١	المكسيك
٢.٧٩٩	فنزويلا	١.٦٦٩	أنغولا
٢.٧٩٦	الإمارات	١.٩٣٧	فنزويلا
٢.٩٢٤	الكويت	٢.٠٥٨	الكويت
٩.٦٣٧	السعودية	٢.١٩٣	نيجيريا
١٠.١٤٦	روسيا	٢.٣٩٠	العراق
٧.٤٤١	الصين	٢.٧٠١	الإمارات
٣.٥٧٥	إيران	٤.٧١٠	روسيا
٢.٩٧٩	العراق	٧.٥٧١	السعودية

المصدر: الأوبك عام ٢٠١٣

المستند رقم (٢)

بنغلادش... الثانية عالمياً بتصدير الملابس.

يشكل قطاع صناعة الملابس وتصديره في بنغلادش القطاع الإقتصادي الأكبر في البلاد، سواء لجهة عدد العاملين فيه أو لجهة ما يدره من عائدات والتي تصل الى نحو ٨٠% من العائدات الإجمالية للصادرات. ومن ناحية ثانية، تحتل بنغلادش الموقع الثاني عالمياً بعد الصين في قائمة البلدان المصدرة للملابس، علماً بأن ٦٠% من هذه الصادرات تتجه نحو أوروبا و ٢٥% منها تتجه نحو الولايات المتحدة.

وعلى الرغم من أن المصانع في بنغلادش تكسو العالم وتجنبي شركات العلامات التجارية المعروفة في عالم الأزياء من ورائها ثروات طائلة، فإن ما يجري فيها من هضم لحقوق العاملين، وما يسودها من أوضاع بائسة يكشف الجانب المظلم من قصة صناعة

النسيج والملابس في دولة ذات الكثافة السكانية الأعلى في العالم. وهذه القصة التي لم يفتح العالم عيونَه على تفاصيلها إلا عقب حادثين مأساويين، أدت الأولى الى مقتل ١١٢٩ عاملاً وعاملة ممن يتقاضون أجراً يومياً زهيداً لا يتجاوز الدولار الواحد. أما الحادثة الثانية فكانت عبارة عن إشتعال حريق ضخم في أحد المصانع تسبب بمقتل ١١٢ شخصاً.

هاتان الحادثتان كشفنا مدى ضعف معايير السلامة المطبقة وبؤسها في مصانع تدرُ الملايين على أصحابها والمستثمرين فيها والمتعاملين معها عالمياً، مثال سلسلة محال "zara" للأزياء النسائية التي تتعامل مع ٢٥٠ مصنعاً فيها، وشركة H&M التي تتعامل مع ٢٦٠ مصنعاً. إذ لم يكفِ عمال وعاملات هذه المصانع أن حقوقهم منتهكة لجهة الأجور والإجازات والحوافز، إنما فُرضَ عليهم العمل من دون رحمة لساعات طويلة في ظروف تفتقد الحد الأدنى لمعايير السلامة والأمان.

المصدر: د. عبدالله المدني، الإتحاد، ٢٥ أغسطس ٢٠١٣. (بتصرف)

المستند رقم (٣)

أجب عن الأسئلة الواردة انطلاقاً من المستندات المرفقة:

أولاً: اختر الإجابة الصحيحة: (أربع علامات)

٣- من المتوقع في خلال الأربعين سنة القادمة أن تتراوح نسبة النمو السكاني ما بين ٠,٠٠٠% إلى ٠,٠٩٩% في كل من:

- دول أفريقيا الشمالية و دول آسيا الشرقية.
- دول القارة الأميركية و دول الساحل الشرقي للقارة الأفريقية.
- دول المغرب العربي و معظم دول القارة الأميركية.
- دول أفريقيا الجنوبية الشرقية و دول أفريقيا الشمالية.
- دول آسيا الشمالية و دول قارة اميركا الشمالية

٤- إن الشركات متعددة الجنسيات المستثمرة في دول الجنوب :

- تطبق الشروط الصحية والاجتماعية في هذه الدول.
- تطبق الحد الأدنى من معايير السلامة للعمال إلا أنها تقدم لهم أجوراً مرتفعة.
- تفرض العمل لساعات محددة مع تطبيق معايير السلامة العامة للعمال.
- تفرض العمل لساعات طويلة من دون الالتزام بتطبيق الشروط الصحية والاجتماعية للعمال.
- تفرض العمل لساعات تتناسب مع الأجر اليومي.

١- تتراوح نسبة النمو السكاني المتوقعة لدول عالم الشمال ما بين :

- أ- ٠,٥١% وما دون، إلى ٠,٩٩%.
- ب- ٠,٥١% وما دون، إلى ١%.
- ج- ٠,٥٠% إلى ٠,٠٠١%.
- د- ٠,٠٠٠% إلى ٢% وأكثر.
- هـ- ٠,٠٠٠% إلى ٠,٩٩%.

٢- دولتان من قارة أفريقيا الغربية، تطلآن على المحيط الأطلسي، ويتراوح معدل النمو السكاني فيهما بين ١,٠٠% إلى ١,٩٩% :

- أ- زمبابواي ونيجيريا.
- ب- ناميبيا وأنغولا.
- ج- المغرب ومالي.
- د- موريتانيا وأثيوبيا.
- هـ- نيجيريا وجمهورية جنوب أفريقيا.

ثانياً: إنسخ الجدول الآتي واربط بخط مفردات العمود الأول بما يناسبها من عبارات العمود الثاني: (أربع علامات)

● تضم الدولة الأكثر إنتاجاً للنفط في العالم.	
● تسجل تفاوتاً إلى حد ما بين دولها من حيث نسب معدلات النمو السكانية.	● عالم الشمال/ الدول المتقدمة
● تضم الدولة الأكثر تصديرًا للنفط في العالم.	● شركات متعددة الجنسيات
● تسجل تفاوتاً كبيراً جداً بين دولها من حيث نسب معدلات النمو السكاني فيها.	● عالم الجنوب/ الدول النامية
● تحتاج إلى عدد ضخم من المصانع التي تتعامل معها.	

ثالثاً: أجب بوضع إشارة (✓) أو (X) ثم صحح الخطأ. (أربع علامات)

- ١- تسجل الصومال نمواً سكانيًا متوسطاً يتراوح ما بين ١% و ١.٩٩%.
- ٢- تسجل القارة الأفريقية نسب معدلات نمو سكانية الأكثر انخفاضاً في العالم.
- ٣- تصدر الدول العربية المطلة على الخليج العربي معظم إنتاجها النفطي، مثل: الإمارات والكويت.
- ٤- إن تجارة صناعة الملابس بين بنغلادش والدول الصناعية محدودة جداً.

رابعاً:

استنتج سببين من المستندين (الأول والثالث)، واحد ديمغرافي والآخر اقتصادي، يدفعان دول الجنوب بشكل عام وبنغلادش بشكل خاص إلى قبول استثمار شركات صناعة الملابس في هذه الدول. (ثلاث علامات)

خامساً:

استنتج واقع الصين والولايات المتحدة بتجارة النفط عالمياً، من خلال مقارنة قائمتي الدول الأكثر إنتاجاً والأكثر تصديرًا للنفط، معللاً إجابتك بسبب واحد لهذا الواقع. (ثلاث علامات)


سادساً:

بيّن أثرين سلبيين للشركات متعددة الجنسيات على دول عالم الجنوب، من خلال مقارنة أسعار الألبسة في المحلات التجارية العالمية (المذكورة في المستند الثالث) مع أجر العمال البنغلادشيين في هذه المصانع. (ثلاث علامات)

سابعاً:

تسجل معظم دول الجنوب معدلات نمو سكانية مرتفعة حالياً تنعكس نتائجها على الوضعين الاقتصادي والاجتماعي لبلدانها، ما يُرتب عليها اتخاذ إجراءات عديدة لمواجهة آثار هذا النمو. انطلاقاً من المستندات المرفقة والمصطلحات الآتية: "الاستثمار الإنتاجي- الأعداد السكانية المتزايدة- فرص العمل- النمو الاقتصادي، ومن معلوماتك أكتب نصاً أعلاه (بمعدل ٩٠ كلمة)، مفسراً تأثير هذا النمو بفكرتين في الوضعين الاقتصادي والاجتماعي، ومقترحاً حلاً قد تعتمده دول الجنوب للحد من هذه الانعكاسات .

عملاً موفقاً

<p>المادة: الجغرافيا الشهادة: الثانوية العامة الفروع: العلوم العامة/ علوم الحياة / الاجتماع والاقتصاد نموذج رقم - ١ - المدة : ساعة واحدة</p>	<p>الهيئة الأكاديمية المشتركة قسم: الاجتماعيات</p>	 <p>المركز التربوي للبحوث والإنماء</p>
--	--	---

أسس التصحيح (تراعي تعليق الدروس والتوصيف المعدل للعام الدراسي ٢٠١٦-٢٠١٧ وحتى صدور المناهج المطورة)

الملاحظات	العلامة	الإجابات المقترحة	السؤال
<p>- علامة واحدة لكل إجابة صحيحة.</p>	<p>أربع علامات</p>	<p>أ- من 0,51 - % وأقل، الى 0,99% . ب- ناميبيا وأنغولا . ج- دول المغرب العربي و معظم دول القارة الأميركية . د- تفرض العمل لساعات طويلة من دون الالتزام بتطبيق الشروط الصحية والاجتماعية للعمال .</p>	<p>أولاً:</p>
<p>- علامة واحدة لكل إجابة صحيحة. - لا يخصص للمشتت أية علامة.</p>	<p>أربع علامات</p>	<p>الدول المتقدمة</p> <ul style="list-style-type: none"> تضم الدولة الأكثر إنتاجاً للنفط في العالم. تسجل تفاوتاً إلى حد ما بين دولها من حيث نسب معدلات النمو السكانية. <p>الدول النامية</p> <ul style="list-style-type: none"> تضم الدولة الأكثر تصديراً للنفط في العالم. تسجل تفاوتاً كبيراً جداً بين دولها من حيث نسب معدلات النمو السكاني فيها. <p>شركات متعددة الجنسيات</p> <ul style="list-style-type: none"> تحتاج إلى عدد ضخم من المصانع التي تتعامل معها. 	<p>ثانياً:</p>
<p>- علامة واحدة لكل إجابة صحيحة. - نصف علامة لوضع إشارة (X)، في حال لم تذكر عبارة خطأ، وصحح المتعلم الفكرة تحتسب كامل العلامة المخصصة. - تعتبر صحيحة كل اجابة اخرى منطقية.</p>	<p>أربع علامات</p>	<p>١- تسجل الصومال نمواً سكانياً مرتفعاً يبلغ ٢% وأكثر . ٢- تسجل القارة الأفريقية نسب معدلات نمو سكانية الأكثر ارتفاعاً في العالم . ٣- ✓ ٤- إن العلاقة التجارية بين بنغلادش والدول الصناعية مزدهرة (نشطة، مرتفعة ...) .</p>	<p>ثالثاً :</p>
<p>- علامتان للإجابة عن السبب الديمغرافي من المستند الاول . - خصّصت علامتان للسبب الديمغرافي لأنه يتضمن استنتاجاً وإعادة صياغة وتوضيح مناسب . - علامة للإجابة عن السبب الاقتصادي . - خصّصت علامة واحدة للسبب الاقتصادي، فالإجابة من المستند الثالث مع إعادة صياغتها من قبل المتعلمين دون التغيير في مضمونها العلمي .</p>	<p>ثلاث علامات</p>	<p>سببان يدفعان دول الجنوب بشكل عام وبنغلادش بشكل خاص الى قبول استثمار شركات صناعة الملابس</p> <p>المستند الأول: (سبب ديمغرافي) ارتفاع نسبة النمو السكاني وبالتالي ارتفاع أعداد اليد العاملة (العددية ، الرخيصة) الجاذبة لاستثمار شركات صناعة الملابس، ما يدفع بنغلادش لقبول هذه الاستثمارات لتوفير الكثير من فرص العمل وللمساهمة في تخفيف حدة مشكلة البطالة لديها.</p> <p>المستند الثالث: إن الأجر اليومي للعمال في بنغلادش (لا يتجاوز الدولار الواحد) منخفض جداً، يُعتبر هذا أحد الأسباب التي تدفع بدولة بنغلادش إلى قبول استثمار الشركات بهدف تحسين أوضاع العمال من خلال تحسين أجورهم، بالإضافة إلى تحريك الدورة الاقتصادية في البلاد، من خلال الأرباح أو العائدات الإجمالية للصادرات الصناعية</p>	<p>رابعاً:</p>

سابعاً:

إجابات أخرى مقترحة:

آثار اقتصادية: انخفاض نصيب الفرد من الناتج المحلي / تراجع الدورة الاقتصادية لاقتصار السكان على شراء حاجاتهم الأساسية/ زيادة إنفاق الحكومات والأسر نتيجة ارتفاع نسبة المستهلكين غير المنتجين ما يرتب أعباء اقتصادية متزايدة....
آثار اجتماعية: ارتفاع الأمية ما يؤدي إلى قلة اليد العاملة الكفوءة /تدني مستوى المعيشة / انخفاض المستوى الصحي (انتشار الأمراض) وتدني مستوى التقديمات الصحية والطبية (...).

حلول أخرى مقترحة: زيادة استثمار هذه الدول في مختلف القطاعات لتوظيف اليد العاملة / التشجيع على الهجرة من دول الجنوب إلى دول الشمال / تقديم تسهيلات اقتصادية (إعفاء من الضرائب والرسوم..) لتشجيع الدول المستثمرة على توظيف أموالها في هذه الدول بهدف تأمين فرص العمل/ إعطاء مساعدات شهرية عينية للعائلات التي تحد من الإنجاب / إقامة حملات توعية لتنظيم الأسرة / ...

أفكار أخرى حول استعمال المستند: تعتبر بنغلادش الدولة ذات الكثافة السكانية الأعلى في العالم حيث يتقاضى عمالها أجراً يومياً زهيداً لا يتجاوز الدولار الواحد (المستند رقم ٣).

لذلك يعتبر النمو السكاني المرتفع أحد العوامل الأساسية المؤدية إلى تزايد حدة المشكلات التي تعاني منها معظم دول الجنوب النامي.

علامة

- استعمال فكرة من المستند بشكل يتناسب مع الموضوع (علامة).
- يجب الإشارة الواضحة إلى الفكرة المستعملة عبر تحديد رقم المستند.

- الحل المقترح: (علامة)، نصف علامة في حال ذكر الحل فقط/ ونصف علامة لتوضيحه.
- يعتبر أي حل آخر مقترح من قبل المتعلم صحيحاً، شرط أن يكون منطقياً .

لا يفترض أن يضع المتعلم عبارة المقدمة والتوسيع والخاتمة، بل يكتب بتقسيم الموضوع شكلياً
الخاتمة: الإجابة عن الإشكالية.
علامة واحدة للإجابة عن الإشكالية